
















ВВП.1.1. Нормативные правовые акты Российской Федерации, регулирующие безопасность судоходства

№	Вопрос	Иллюстрация	Варианты ответа (правильный выделен)
ВВП.1.1.1	Что означает сигнал - горизонтальное движение флагом - отмашкой, подаваемый с патрульного судна ГИМС?		<ul style="list-style-type: none"> • "Подойдите к моему борту" • "Прошу лечь на обратный курс" • "Проходите по борту со стороны отмашки" • "Прошу остановить судно"
ВВП.1.1.2	Какое движение флага-отмашки днем означает сигнал "Прошу остановиться"?		<ul style="list-style-type: none"> • Вертикальное • Вращательное • Любое • Горизонтальное
ВВП.1.1.3	В каком случае требуется заключение договора водопользования для плавания на маломерном судне?		<ul style="list-style-type: none"> • Если мощность двигателя маломерного судна более 55 кВт (75 л.с.) • Если на одного владельца зарегистрировано два и более маломерных судов • Если судовладелец использует судно для рыболовства, рыбоводства или охоты • Таких случаев законодательством не предусмотрено




<p>ВВП.1.1.4</p>	<p>При какой мощности подвесного лодочного мотора (двигателя) маломерное судно массой более 200 кг подлежит государственной регистрации?</p>		<ul style="list-style-type: none"> • Более 3,68 кВт • Более 5 кВт • Более 8 кВт • Более 10 кВт
<p>ВВП.1.1.5</p>	<p>В каком из перечисленных случаев государственный инспектор по маломерным судам имеет право использовать суда, принадлежащие гражданам?</p>		<ul style="list-style-type: none"> • Для следования к месту работы • Для транспортировки судна нарушителя • Для доставки нарушителей на медицинское обследование • Для доставки в лечебные учреждения пострадавших людей
<p>ВВП.1.1.6</p>	<p>В течение какого срока собственник маломерного судна обязан сообщить в орган государственной регистрации судна о любом изменении сведений, внесенных в судовую книгу?</p>		<ul style="list-style-type: none"> • В течение недели • В течение месяца • В течение трех недель • В течение двух недель




<p>ВВП.1.1.7</p>	<p>Какова периодичность проведения очередного освидетельствования маломерного судна?</p>		<ul style="list-style-type: none"> • Один раз в 5 лет • Один раз в 2 года • Один раз в 3 года • Ежегодно
<p>ВВП.1.1.8</p>	<p>Какие первоначальные действия должен осуществлять инспектор по маломерным судам при подходе к остановленному судну?</p>		<ul style="list-style-type: none"> • Представиться судоводителю и объявить причину остановки судна • Представиться судоводителю и информировать его о правах и обязанностей • Представиться судоводителю и потребовать от него судовые и судоводительские документы • Представиться судоводителю, предъявить служебное удостоверение, потребовать у судоводителя удостоверение на право управления, судовой билет и объявить причину остановки судна
<p>ВВП.1.1.9</p>	<p>Через сколько дней заявитель, показавший неудовлетворительный результат при проверке теоретических знаний при аттестации на право управления маломерным судном, может быть повторно допущен к проверке теоретических знаний?</p>		<ul style="list-style-type: none"> • Такой срок не установлен • Через 3 дня • Через 5 дней • Через 7 дней




<p>ВВП.1.1.10</p>	<p>Какой документ, выдаваемый собственнику маломерного судна, подтверждает право плавания под Государственным флагом Российской Федерации?</p>		<ul style="list-style-type: none"> • Удостоверение на право управления маломерными судами • Технический талон • Акт технического освидетельствования • Судовой билет
<p>ВВП.1.1.11</p>	<p>В присутствии какого лица осуществляется доступ судоводителя (судовладельца) к маломерному судну, задержанному и находящемуся на специализированной стоянке?</p>		<ul style="list-style-type: none"> • Государственного инспектора по маломерным судам • Представителя милиции • Представителя прокуратуры • Лица, ответственного за хранение судна
<p>ВВП.1.1.12</p>	<p>Сколько метров составляет ширина береговой полосы водных объектов общего пользования?</p>		<ul style="list-style-type: none"> • 10 м • 30 м • 50 м • 20 м




<p>ВВП.1.1.13</p>	<p>На какие органы (организации) Водным кодексом РФ возложены обязанности об информировании жителей в случае введения запрета (ограничения) на использование маломерных судов на водных объектах общего пользования?</p>		<ul style="list-style-type: none"> • На ВОСВОД • На инспекторские подразделения • ГИМС • На территориальные органы МЧС России • На органы местного самоуправления
<p>ВВП.1.1.14</p>	<p>Выберите правильное определение понятия «район плавания маломерного судна»</p>		<ul style="list-style-type: none"> • район, по которому произведена предварительная прокладка перехода; • район, в котором фактически находится маломерное судно; • акватория, на которой допускается использование маломерного судна в соответствии с его техническими и конструктивными характеристиками; • акватория, в которой осуществляют плавание маломерные суда
<p>ВВП.1.1.15</p>	<p>Какими нормативными документами регулируется безопасность судоходства маломерных судов на внутренних водных путях Российской Федерации?</p>		<ul style="list-style-type: none"> • Правилами плавания по внутренним водным путям Российской Федерации • Правилами пользования маломерными судами на водных объектах Российской Федерации • Кодексом внутреннего водного транспорта Российской Федерации; • Всеми перечисленными

<p>ВВП.1.1.16</p>	<p>Каким нормативным документом регулируется безопасность судоходства маломерных судов на внутренних водах, не включенных в Перечень внутренних водных путей Российской Федерации?</p>		<ul style="list-style-type: none"> • Правилами плавания по внутренним водным путям Российской Федерации; • Правилами пользования маломерными судами на водных объектах Российской Федерации; • Кодексом внутреннего водного транспорта Российской Федерации; • Водным кодексом Российской Федерации.
<p>ВВП.1.1.17</p>	<p>Что должен выполнить судоводитель для предотвращения непосредственно угрожающей опасности или ее возможных последствий?</p>		<ul style="list-style-type: none"> • следовать безопасной скоростью • уменьшить скорость до минимальной • увеличить скорость до максимальной • остановиться
<p>ВВП.1.1.18</p>	<p>Отметьте правильный ответ на вопрос: «Что должен выполнить судоводитель для предотвращения непосредственно угрожающей опасности или ее возможных последствий»?</p>		<ul style="list-style-type: none"> • принять все меры, которые диктуются практикой судовождения. • принять все меры, которые диктуются практикой судовождения или особыми обстоятельствами. • принять все меры, которые диктуются практикой судовождения или особыми обстоятельствами, не отступая от Правил плавания по ВВП РФ. • принять все меры, которые диктуются практикой судовождения или особыми обстоятельствами, даже если вынужден отступать от Правил плавания по ВВП РФ.

ВВП.1.1.19	Что должен выполнить судоводитель в случае неуверенности в оценке ситуации (неясность в действиях других судов, неподача или неправильное подтверждение сигналов, потеря ориентировки, отсутствие или неисправность знаков навигационного оборудования и т.п.)?		<ul style="list-style-type: none">• уменьшить ход или прекратить движение до выяснения ситуации;• продолжать движение, не меняя курса и скорости;• максимально быстро покинуть место развития ситуации;• изменить курс и двигаться к ближайшему берегу.
ВВП.1.1.20	Что обязан выполнить судоводитель, находящийся поблизости от аварийного судна, если имеется опасность для находящихся на нем людей?		<ul style="list-style-type: none">• оказать немедленную помощь• насколько это совместимо с безопасностью его судна, оказать немедленную помощь;• не оказывать помощь;• привлечь внимание других судов
ВВП.1.1.21	Что необходимо выполнить судоводителю маломерного судна при встрече немаломерного судна на судовом ходу?		<ul style="list-style-type: none">• заблаговременно уйти с его пути без обмена звуковыми и зрительными сигналами;• уступить дорогу после обмена звуковыми сигналами;• уступить дорогу после обмена зрительными сигналами;• потребовать, чтобы ему уступили дорогу.

<p>ВВП.1.1.22</p>	<p>Отметьте правильное определение понятия «полоса движения»:</p>		<ul style="list-style-type: none"> • судовой ход; • часть судового хода между его осью и правой или левой кромкой; • ось судового хода; • правая сторона судового хода.
<p>ВВП.1.1.23</p>	<p>Какому из перечисленных судов НЕ должно уступать дорогу парусное судно на ходу?</p>		<ul style="list-style-type: none"> • одиночное самоходное судно, толкающее или буксирующее состав (кроме плота); • судно, занятое ловом рыбы; • судно, буксирующее плот; • судно, лишенное возможности управляться, занятое подводными или водолазными работами
<p>ВВП.1.1.24</p>	<p>Отметьте правильное определение понятия «маломерное судно»</p>		<ul style="list-style-type: none"> • судно, длина которого не должна превышать 18 метров и общее количество людей на котором не должно превышать 10 • судно, длина которого не должна превышать 20 метров и общее количество людей на котором не должно превышать 12 • судно, длина которого не должна превышать 24 метра и общее количество людей на котором не должно превышать 12 • судно, длина которого не должна превышать 24 метра и общее количество людей на котором не должно превышать



<p>ВВП.1.1.25</p>	<p>Отметьте правильное определение понятия «маломерное моторное судно»</p>		<ul style="list-style-type: none"> • маломерное судно, использующее в качестве основного средства движения подвесной мотор • маломерное судно, использующее в качестве основного средства стационарный двигатель • маломерное судно, использующее в качестве движителя гребной винт • маломерное судно, использующее в качестве основного средства движения механический двигатель
<p>ВВП.1.1.26</p>	<p>Отметьте правильное определение понятия «маломерное парусное судно»</p>		<ul style="list-style-type: none"> • маломерное судно, использующее в качестве основного средства движения силу ветра • маломерное судно, использующее в качестве движителя парус • маломерное судно, оснащенное парусами • маломерное судно, использующее в качестве единственного средства движения парус
<p>ВВП.1.1.27</p>	<p>Отметьте правильное определение понятия судоводитель (капитан) маломерного судна</p>		<ul style="list-style-type: none"> • лицо, управляющее маломерным судном • лицо, управляющее маломерным судном и имеющее необходимую для этого квалификацию • лицо, управляющее маломерным судном и являющееся собственником судна • лицо, управляющее маломерным судном по поручению судовладельца




<p>ВВП.1.1.28</p>	<p>Отметьте правильное определения понятия «пассажир маломерного судна»</p>		<ul style="list-style-type: none"> • любое лицо на борту маломерного судна • любое лицо на борту маломерного судна, имеющее проездной билет • любое лицо на борту маломерного судна, не являющееся членом экипажа судна • любое лицо на борту маломерного судна, находящееся там с разрешения судоводителя (капитана)
<p>ВВП.1.1.29</p>	<p>Отметьте правильное определения понятия «судоходство маломерных судов»</p>		<ul style="list-style-type: none"> • движение маломерных судов по водной акватории • движение маломерных судов по водной акватории, на которой разрешено использование маломерного судна • деятельность, связанная с использованием маломерных судов исключительно для производственных целей • деятельность, связанная с использованием маломерных судов для отдыха, туризма, а также культурных, спортивных, производственных, развлекательных и иных целей
<p>ВВП.1.1.30</p>	<p>На какой срок выдается свидетельство о классификации маломерного судна после его постройки и (или) освидетельствования?</p>		<ul style="list-style-type: none"> • на 1 год • на 5 лет • на 10 лет • бессрочно




<p>ВВП.1.1.31</p>	<p>Отметьте правильное определение состояния защищённости маломерных судов, находящихся на водных объектах, от аварий и происшествий.</p>		<ul style="list-style-type: none"> • Безопасность судоходства маломерных судов • Безопасность маломерных судов • Безопасность на водных объектах • Безаварийное судоходство
<p>ВВП.1.1.32</p>	<p>Что из перечисленного НЕ является основанием прекращения действия права на управление маломерным судном?</p>		<ul style="list-style-type: none"> • истечение установленного срока действия удостоверения на право управления маломерным судном • ухудшение здоровья судоводителя, препятствующее безопасному управлению маломерным судном, подтвержденное медицинским заключением • лишение права на управление маломерным судном • утеря удостоверения на право управления маломерным судном
<p>ВВП.1.1.33</p>	<p>Кто из перечисленных лиц обязан обеспечивать безопасность плавания маломерного судна?</p>		<ul style="list-style-type: none"> • судовладелец • судоводитель • капитан • члены экипажа




ВВП.1.1.34	В каком случае необходимо оформление судовой роли на маломерном судне, не укомплектованном штатным экипажем?		<ul style="list-style-type: none"> • Перед освидетельствованием судна • Перед каждым выходом с базы стоянки • Перед выходом в заграничное плавание • Во всех перечисленных случаях
------------	--	---	--




ВВП.1.2. Правила плавания маломерных судов, включая правила плавания в портах




No	Вопрос	Иллюстрация	Варианты ответа (правильный выделен)
ВВП.1.2.1	Что обозначает изображенный на иллюстрации береговой навигационный информационный знак?		<ul style="list-style-type: none"> • Участок водного пути, где движение мелких плавсредств запрещено • Пересечение судового хода • Участок водного пути, где необходимо соблюдать особую осторожность • Участок водного пути, где запрещено создавать волнение
ВВП.1.2.2	Что обозначает изображенный на иллюстрации береговой навигационный информационный знак?		<ul style="list-style-type: none"> • Место пересечения судового хода • Участок, где запрещено создавать волнение • Участок, где необходимо соблюдать особую осторожность • Участок, где на судовом ходу запрещено движение маломерных судов




<p>ВВП.1.2.3</p>	<p>На что указывает изображенный на иллюстрации береговой навигационный знак?</p>		<ul style="list-style-type: none"> • На направление судового хода • На фарватер для прохода крупных судов • На ось судового хода • На положение судового хода и его кромок
<p>ВВП.1.2.4</p>	<p>Что обозначает изображенный на иллюстрации береговой навигационный информационный знак?</p>		<ul style="list-style-type: none"> • Перекресток судовых ходов • Место приближении к перекапу • Ось судового хода • Место пересечения судового хода судами и паромными переправами
<p>ВВП.1.2.5</p>	<p>Что обозначает изображенный на иллюстрации береговой навигационный информационный знак?</p>		<ul style="list-style-type: none"> • Участок судоходного пути, на котором максимальная допустимая ширина судов 15 м • Участок судоходного пути, на котором максимальная допустимая высота надводного габарита судна 15 м • Участок судоходного пути, на котором глубина судового хода 15 м • Участок судоходного пути, где скорость движения водоизмещающих судов ограничена 15 км/ч




<p>ВВП.1.2.6</p>	<p>Что означают изображенные на иллюстрации сигнальные фигуры и огни на семафорной мачте?</p>		<ul style="list-style-type: none"> • Ход закрыт для движения снизу • Ход закрыт для движения сверху • Ход закрыт в оба направления для маломерных судов • Ход закрыт в оба направления
<p>ВВП.1.2.7</p>	<p>Что означает изображенное на иллюстрации сочетание сигнальных фигур на семафорной мачте?</p>		<ul style="list-style-type: none"> • Ход закрыт в оба направления • Ход закрыт для движения сверху • Ход закрыт в оба направления для маломерных судов • Ход закрыт для движения снизу
<p>ВВП.1.2.8</p>	<p>Что означает изображенное на иллюстрации сочетание сигнальных фигур на семафорной мачте?</p>		<ul style="list-style-type: none"> • Ход закрыт в оба направления • Ход закрыт для движения снизу • Ход закрыт в оба направления для маломерных судов • Ход закрыт для движения сверху




<p>ВВП.1.2.9</p>	<p>Что обозначает изображенный на иллюстрации плавучий навигационный знак?</p>		<ul style="list-style-type: none"> • правую кромку судового хода • поворот судового хода и стоит у левого берега • поворот судового хода и стоит у правого берега • левую кромку судового хода
<p>ВВП.1.2.10</p>	<p>Что обозначает изображенный на иллюстрации плавучий навигационный знак?</p>		<ul style="list-style-type: none"> • ось судового хода • поворот судового хода • особо опасное место у правой кромки судового хода • особо опасное место у левой кромки судового хода
<p>ВВП.1.2.11</p>	<p>Что обозначает изображенный на иллюстрации плавучий навигационный знак?</p>		<ul style="list-style-type: none"> • левую кромку судового хода • поворот судового хода и стоит на его левой кромке • поворот судового хода и стоит на его правой кромке • правую кромку судового хода




<p>ВВП.1.2.12</p>	<p>Что обозначает изображенный на иллюстрации плавучий навигационный знак?</p>		<ul style="list-style-type: none"> • левую кромку судового хода • правую кромку судового хода • поворот судового хода и стоит на его правой кромке • поворот судового хода и стоит на его левой кромке
<p>ВВП.1.2.13</p>	<p>Что обозначает изображенный на иллюстрации плавучий навигационный знак?</p>		<ul style="list-style-type: none"> • поворот судового хода • особо опасное место у левой кромки судового хода • особо опасное место у правой кромки судового хода • ось судового хода
<p>ВВП.1.2.14</p>	<p>Что обозначает изображенный на иллюстрации плавучий навигационный знак?</p>		<ul style="list-style-type: none"> • ось судового хода • поворот судового хода • особо опасное место у левой кромки судового хода • особо опасное место у правой кромки судового хода




<p>ВВП.1.2.15</p>	<p>Что обозначает изображенный на иллюстрации знак?</p>		<ul style="list-style-type: none"> • Судно на ходу • Судно, осуществляющее перевозку радиоактивных грузов • Судно, идущее под парусом и одновременно использующее силовую установку • Судно, стоящее на якоре
<p>ВВП.1.2.16</p>	<p>Что обозначает изображенный на иллюстрации знак?</p>		<ul style="list-style-type: none"> • Судно, стоящее на мели • Судно, стоящее на якоре • Судно, идущее под парусом и одновременно использующее силовую установку • Судно, осуществляющее перевозку опасных грузов
<p>ВВП.1.2.17</p>	<p>Что обозначают изображенные на иллюстрации знаки?</p>		<ul style="list-style-type: none"> • Лоцманское судно при исполнении своих обязанностей • Судно, занятое буксировкой с длиной буксира более 200 м • Судно, ограниченное в возможности маневрировать, на ходу • Судно, лишенное возможности управляться




<p>ВВП.1.2.18</p>	<p>Что обозначает плавучий навигационный знак на ВВП, имеющий изображенную на иллюстрации расцветку?</p>		<ul style="list-style-type: none"> • Обозначает левую кромку судового хода • Обозначает правую кромку судового хода • Обозначает поворот судового хода и стоит на его левой кромке • Обозначает поворот судового хода и стоит на его правой кромке
<p>ВВП.1.2.19</p>	<p>Что обозначает изображенный на иллюстрации знак?</p>		<ul style="list-style-type: none"> • Судно, стоящее на мели • Судно, стоящее на якоре • Судно, осуществляющее перевозку радиоактивных грузов • Судно, идущее под парусом и одновременно использующее силовую установку
<p>ВВП.1.2.20</p>	<p>Что обозначают изображенные на иллюстрации плавучие навигационные знаки?</p>		<ul style="list-style-type: none"> • Необходимость обойти знак со стороны юга • Необходимость обойти знак со стороны запада • Необходимость обойти знак со стороны востока • Необходимость обойти знак со стороны севера




<p>ВВП.1.2.21</p>	<p>Что обозначают изображенные на иллюстрации плавучие навигационные знаки?</p>		<ul style="list-style-type: none"> • Необходимость обойти знак со стороны юга • Необходимость обойти знак со стороны севера • Необходимость обойти знак со стороны запада • Необходимость обойти знак со стороны востока
<p>ВВП.1.2.22</p>	<p>На каком судне выставляется изображенный на иллюстрации сигнал?</p>		<ul style="list-style-type: none"> • Судно на мели • Судно, занятое дноуглубительными работами • Судно, лишенное • возможности управляться, на якоре • Судно терпит бедствие и нуждается в помощи
<p>ВВП.1.2.23</p>	<p>Что обозначают желтые поплавки или желтые флаги, расставленные на поверхности воды в непосредственной близости от судового хода?</p>		<ul style="list-style-type: none"> • Галечную отмель (опечки) • Подводный трубопровод • Подводный электрический кабель • Рыболовные сети




<p>ВВП.1.2.24</p>	<p>Что означают непрерывно повторяющиеся продолжительные сигналы либо беспрерывные частые удары в колокол или металлический предмет, подаваемые судном?</p>		<ul style="list-style-type: none"> • Прошу выйти на связь • Человек за бортом • Предупреждение • Сигнал бедствия
<p>ВВП.1.2.25</p>	<p>Какие действия должно предпринять судно, которому уступают дорогу?</p>		<ul style="list-style-type: none"> • Увеличить свою скорость • Увеличить свою скорость и изменить курс на 10 градусов вправо • Изменить свой курс на 10 градусов вправо • Сохранить свои курс и скорость
<p>ВВП.1.2.26</p>	<p>Должно ли маломерное моторное судно на ходу уступить дорогу парусному судну?</p>		<ul style="list-style-type: none"> • Не должно • Должно, если парусное судно идет правым галсом • Должно, если парусное судно приближается с левого борта • Должно в любом случае

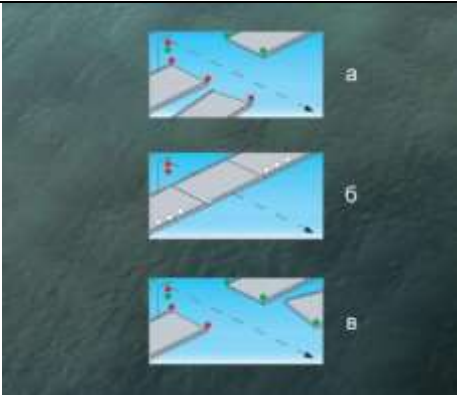
<p>ВВП.1.2.27</p>	<p>По какому борту одно маломерное судно должно обгонять другое маломерное судно?</p>		<ul style="list-style-type: none"> • Обгон не разрешается • По любому борту • По правому борту обгоняемого судна • По левому борту обгоняемого судна
<p>ВВП.1.2.28</p>	<p>Если два маломерных моторных судна идут пересекающимися курсами так, что возникает опасность столкновения, какое судно должно уступить дорогу другому судну?</p>		<ul style="list-style-type: none"> • Судно, находящееся южнее другого судна • Судно, находящееся севернее другого судна • Судно, которое наблюдает другое судно по своему левому борту • Судно, которое наблюдает другое судно по своему правому борту
<p>ВВП.1.2.29</p>	<p>Как должны маневрировать маломерные суда для расхождения друг с другом на акватории, не имеющей судоходной обстановки?</p>		<ul style="list-style-type: none"> • Так, чтобы разойтись правыми бортами • Так, чтобы расстояние между ними было не менее 50 м • Так, чтобы расстояние между ними было не менее трех длин корпуса большего судна • Так, чтобы разойтись левыми бортами

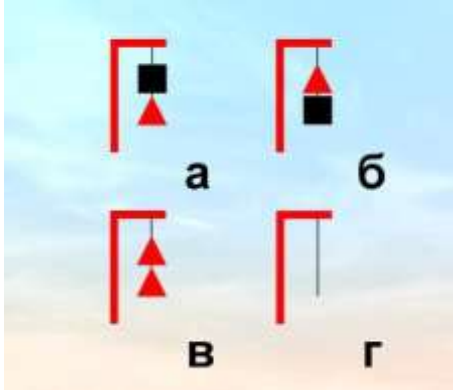


<p>ВВП.1.2.30</p>	<p>Что запрещается маломерным судам при плавании по ВВП?</p>		<ul style="list-style-type: none"> • Маневрировать и останавливаться вблизи идущих или стоящих других судов • Останавливаться и становиться на якорь в пределах судового хода и у плавучих навигационных знаков • Выходить на судовой ход при ограниченной видимости (менее 1 км) • Все перечисленные действия
<p>ВВП.1.2.31</p>	<p>В каком из следующих случаев не разрешается пользоваться маломерным судном?</p>		<ul style="list-style-type: none"> • У судоводителя нет при себе удостоверения на право управления судном • Маломерное судно не зарегистрировано в установленном порядке • На маломерном судне отсутствует судовой билет • Во всех перечисленных случаях
<p>ВВП.1.2.32</p>	<p>На каком расстоянии от кромки судового хода должно следовать маломерное судно по судовому ходу, если нет возможности следовать за кромкой судового хода?</p>		<ul style="list-style-type: none"> • На расстоянии до 5 м от кромки судового хода • На расстоянии до 15 м от кромки судового хода • На расстоянии до 20 м от кромки судового хода • На расстоянии до 10 м от кромки судового хода


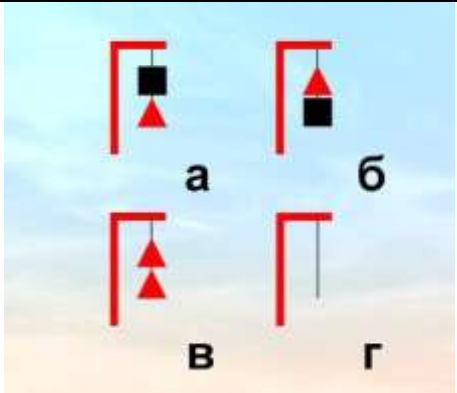

<p>ВВП.1.2.33</p>	<p>Как называется условная линия, ограничивающая судовой ход по ширине?</p>		<ul style="list-style-type: none"> • Перевал • Полоса • Стрежень • Кромка
<p>ВВП.1.2.34</p>	<p>Как называется условная линия, проходящая в средней части судОВОГО хода?</p>		<ul style="list-style-type: none"> • Фарватер • Перевал судОВОГО хода • Кромка судОВОГО хода • Ось судОВОГО хода
<p>ВВП.1.2.35</p>	<p>Как называется часть водного пространства на внутренних водных путях, предназначенная для движения судов и обозначенная на местности и (или) карте?</p>		<ul style="list-style-type: none"> • Акватория • Полоса движения • Стрежень • СудОВОЙ ход




<p>ВВП.1.2.36</p>	<p>Что обозначает кромочный створ?</p>		<ul style="list-style-type: none"> • Направление судового хода • Ось судового хода • Ось судового хода и его кромок • Положение судового хода и его кромок
<p>ВВП.1.2.37</p>	<p>Что обозначает изображенный на иллюстрации береговой навигационный информационный знак?</p>		<ul style="list-style-type: none"> • Место потери якоря • Место якорной стоянки • Якоря не бросать • Пост судоводной инспекции
<p>ВВП.1.2.38</p>	<p>Определите высоту судоводного пролета этого моста?</p>		<ul style="list-style-type: none"> • до 5 метров • от 13 до 16 метров • от 10 и до 13 метров • до 10 метров




<p>ВВП.1.2.39</p>	<p>Как называется изображенный на иллюстрации береговой навигационный знак и что он обозначает?</p>		<ul style="list-style-type: none"> • Перевальный знак, указывает перевал судового хода от одного берега к другому • Знак "Ориентир", обозначает характерные места • Ходовой знак правого берега, обозначает, что судовой ход расположен вдоль правого берега • Весенний знак правого берега, обозначает затопленный берег
<p>ВВП.1.2.40</p>	<p>Что обозначает изображенный на иллюстрации береговой навигационный знак "Ориентир"?</p>		<ul style="list-style-type: none"> • Затопляемый берег • Перевал судового хода • Вход в канал • Характерное место судоходного пути
<p>ВВП.1.2.41</p>	<p>Укажите береговой навигационный информационный знак, запрещающий создавать волнение?</p>		<ul style="list-style-type: none"> • а • б • в • г



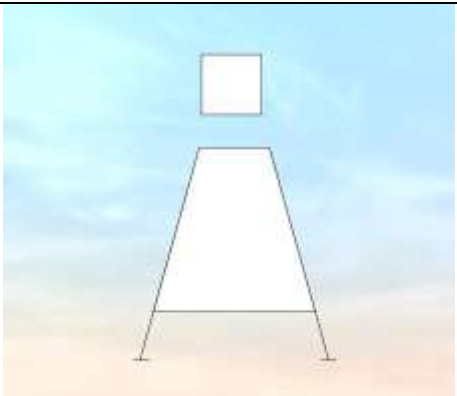
<p>ВВП.1.2.42</p>	<p>Где выставляется изображенный на иллюстрации береговой навигационный знак "Ориентир"?</p>		<ul style="list-style-type: none"> • На левом берегу • На темном фоне местности • На светлом фоне местности • На правом берегу
<p>ВВП.1.2.43</p>	<p>Для прохода каких судов предназначен изображенный на иллюстрации пролет моста?</p>		<ul style="list-style-type: none"> • Для плотовых составов • Для судов и составов, идущих снизу • Для судов и составов, идущих сверху • Для маломерных судов
<p>ВВП.1.2.44</p>	<p>В каких из приведенных на иллюстрации случаев закрыт проход судам, идущим сверху?</p>		<ul style="list-style-type: none"> • Только Б • Только А и Б • Только А и В • А, Б и В


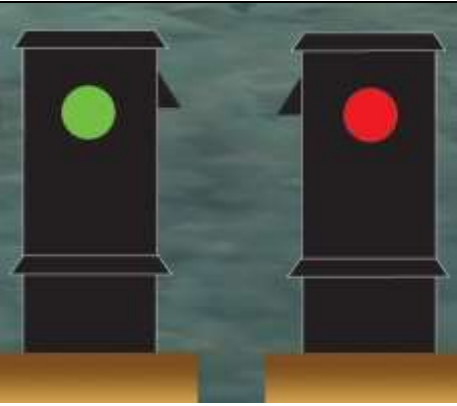
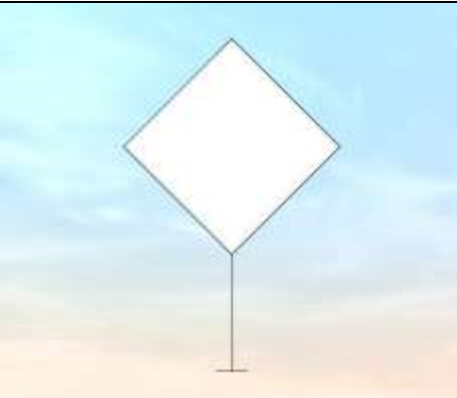
<p>ВВП.1.2.45</p>	<p>Какое из изображенных на иллюстрации сочетаний сигнальных фигур на семафорной мачте запрещает проход вверх?</p>		<ul style="list-style-type: none"> • Б • Б и В • Г • А и В
<p>ВВП.1.2.46</p>	<p>Какой из изображенных на иллюстрации береговых навигационных информационных знаков предупреждает о необходимости соблюдать осторожность?</p>		<ul style="list-style-type: none"> • б • в • г • а
<p>ВВП.1.2.47</p>	<p>Как называется створ из трех знаков, который указывает положение и кромки судового хода?</p>		<ul style="list-style-type: none"> • Линейный • Кромочный • Осевой • Щелевой

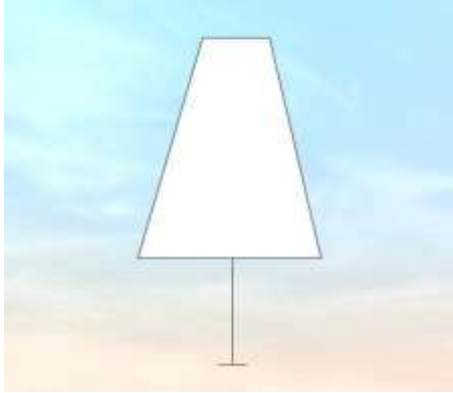

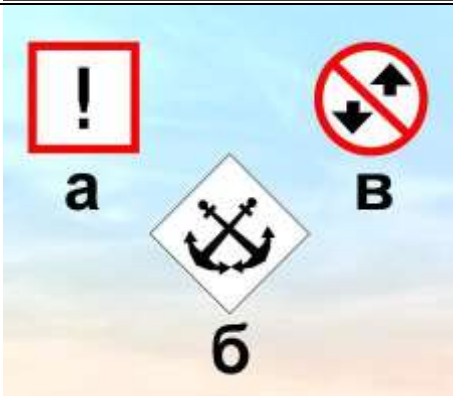
<p>ВВП.1.2.48</p>	<p>Какой из этих береговых навигационных информационных знаков обозначает, что на данном участке судового хода обгон и расхождение судов запрещены?</p>		<ul style="list-style-type: none"> • а) • в) • г) • б)
<p>ВВП.1.2.49</p>	<p>Какие из изображенных сочетаний сигнальных фигур на семафорной мачте запрещают судам, следующим по течению, проход на участке с односторонним движением?</p>		<ul style="list-style-type: none"> • А и Б • Г • Только В • Б и В
<p>ВВП.1.2.50</p>	<p>Какой из изображенных на иллюстрации береговых навигационных информационных знаков выставляется в районах надводных и мостовых переходов для указания минимальной габаритной высоты?</p>		<ul style="list-style-type: none"> • а) • б) • г) • в)


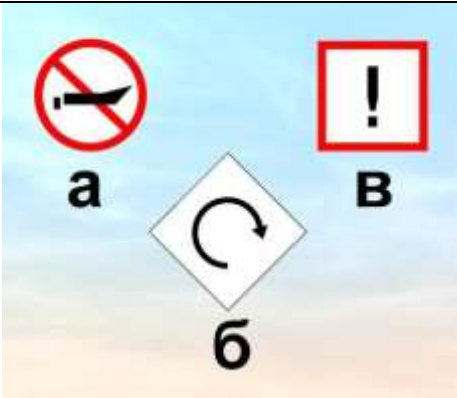
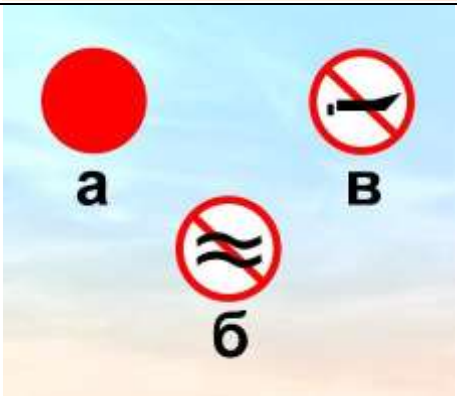
<p>ВВП.1.2.51</p>	<p>Что обозначает изображенный на иллюстрации береговой навигационный знак?</p>		<ul style="list-style-type: none"> • Ходовой знак правого берега • Оповестительный знак левого берега при входе в искусственное русло • Путевой огонь левого берега • Оповестительный знак правого берега при входе в искусственное русло
<p>ВВП.1.2.52</p>	<p>Как называется изображенный на иллюстрации береговой навигационный знак?</p>		<ul style="list-style-type: none"> • Весенний • Перевальный • Ходовой • "Ориентир"
<p>ВВП.1.2.53</p>	<p>Как называется изображенный на иллюстрации береговой навигационный знак?</p>		<ul style="list-style-type: none"> • Весенний знак левого берега • Знак "Ориентир" • Ходовой знак правого берега • Весенний знак правого берега

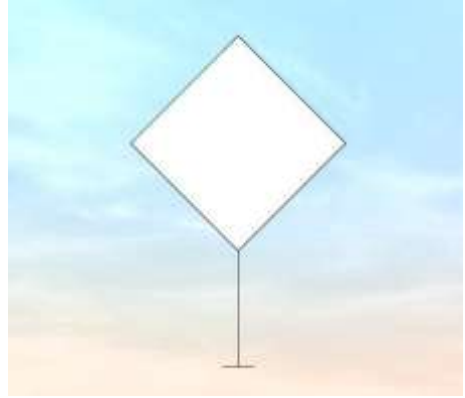


<p>ВВП.1.2.54</p>	<p>Как называется изображенный на иллюстрации береговой навигационный знак?</p>		<ul style="list-style-type: none"> • Ходовой знак левого берега • Ходовой знак правого берега • Опознавательный знак левого берега • Путевой огонь левого берега
<p>ВВП.1.2.55</p>	<p>Что обозначает изображенный на иллюстрации береговой информационный знак?</p>		<ul style="list-style-type: none"> • Максимальная скорость водоизмещающих судов 15 км/ч • Ширина судового хода 15 м • Глубина реки 15 м • Высота надводного перехода 15 м
<p>ВВП.1.2.56</p>	<p>Что обозначает изображенный на иллюстрации береговой навигационный информационный знак?</p>		<ul style="list-style-type: none"> • Ширина судового хода 12 м • Глубина на судовом ходу 12 м • Высота надводного перехода 12 м • Максимальная скорость водоизмещающих судов 12 км/ч

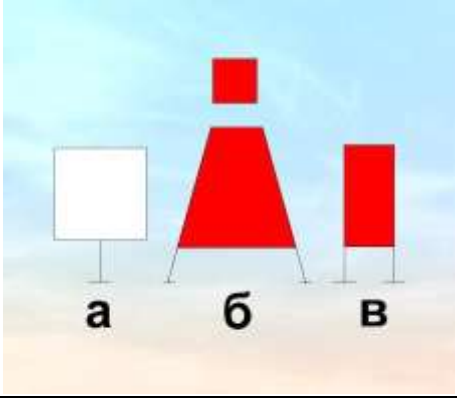

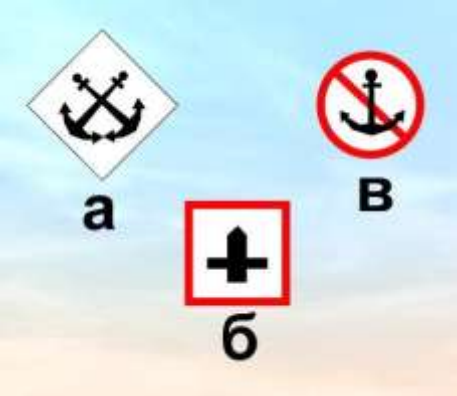
<p>ВВП.1.2.57</p>	<p>Что обозначает изображенный на иллюстрации береговой навигационный информационный знак?</p>		<ul style="list-style-type: none"> • Пересечение реки каналом • Пересечение главной реки другой рекой • Впереди мост • Место пересечения судового хода судовой или паромной переправой
<p>ВВП.1.2.58</p>	<p>Что обозначает изображенный на иллюстрации береговой навигационный знак, установленный на левом берегу?</p>		<ul style="list-style-type: none"> • Затопленный остров (мыс) у левого берега • Переход судового хода от одного берега к другому • Судовой ход расположен у левого берега • Характерное (приметное) место
<p>ВВП.1.2.59</p>	<p>Что обозначает изображенный на иллюстрации береговой навигационный знак?</p>		<ul style="list-style-type: none"> • Затоплен левый берег • Судовой ход расположен у левого берега • Судовой ход расположен у правого берега • Судовой ход меняет направление от одного берега к другому




<p>ВВП.1.2.60</p>	<p>Что обозначают изображенные на иллюстрации береговые навигационные знаки?</p>		<ul style="list-style-type: none"> • Затопленный остров (мыс) у правого берега • Характерное место судоходного пути у правого берега • Изменение направления судового хода от левого берега к правому • Судовой ход расположен у правого берега
<p>ВВП.1.2.61</p>	<p>Что обозначают изображенные на иллюстрации береговые навигационные знаки?</p>		<ul style="list-style-type: none"> • Вход в канал • Вход в камеру шлюза • Выход из камеры шлюза • Берега судоходного канала
<p>ВВП.1.2.62</p>	<p>Где выставляется изображенный на иллюстрации береговой навигационный знак?</p>		<ul style="list-style-type: none"> • На правом берегу • На темном фоне местности • На светлом фоне местности • На левом берегу




<p>ВВП.1.2.63</p>	<p>Где выставляется изображенный на иллюстрации береговой навигационный знак?</p>		<ul style="list-style-type: none"> • На берегах с темным фоном местности • На откосах берегов судоходных каналов • На затапливаемых островах, ярах, мысах у правого берега • На затопленной бровке яра
<p>ВВП.1.2.64</p>	<p>Что означает изображенное на иллюстрации сочетание огней на семафорной мачте?</p>		<ul style="list-style-type: none"> • Ход закрыт снизу • Ход открыт снизу • Ход закрыт сверху • Ход закрыт сверху и снизу
<p>ВВП.1.2.65</p>	<p>Какой из изображенных на иллюстрации береговых навигационных информационных знаков запрещает отдавать якоря?</p>		<ul style="list-style-type: none"> • а) • б) • в) • Такого знака здесь нет

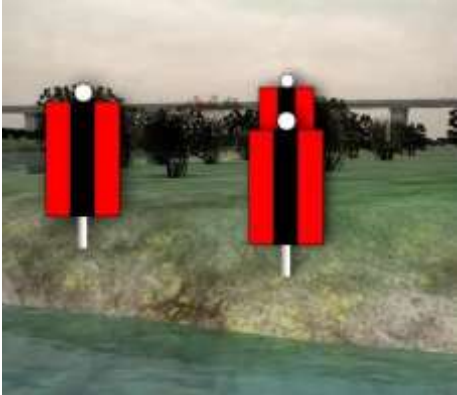


<p>ВВП.1.2.66</p>	<p>Какой из изображенных на иллюстрации береговых навигационных информационных знаков запрещает отдавать якоря?</p>		<ul style="list-style-type: none"> • а) • в) • Такого знака здесь нет • б)
<p>ВВП.1.2.67</p>	<p>Какой из изображенных на иллюстрации береговых навигационных информационных знаков запрещает создавать волнение?</p>		<ul style="list-style-type: none"> • а) • б) • в) • Такого знака здесь нет
<p>ВВП.1.2.68</p>	<p>Какой из изображенных на иллюстрации береговых навигационных знаков запрещает создавать волнение?</p>		<ul style="list-style-type: none"> • "а" и "б" • Такого знака здесь нет • "б" и "в" • "б"




<p>ВВП.1.2.69</p>	<p>Изображенный на иллюстрации береговой навигационный знак означает, что судовой ход проходит ...</p>		<ul style="list-style-type: none"> • в 50 м от знака • у правого берега • по середине реки • у левого берега
<p>ВВП.1.2.70</p>	<p>Для прохода каких судов предназначен изображенный на иллюстрации пролет моста?</p>		<ul style="list-style-type: none"> • для плотовых составов • для судов и составов, следующих вниз • для судов и составов, следующих вверх • для маломерных
<p>ВВП.1.2.71</p>	<p>Как называются изображенные на иллюстрации береговые навигационные знаки, выставленные при входе в искусственное русло?</p>		<ul style="list-style-type: none"> • Ходовые знаки • Ориентир • Путевые огни • Опознавательные знаки




<p>ВВП.1.2.72</p>	<p>Какой из изображенных на иллюстрации береговых навигационных знаков обозначает направление судового хода?</p>		<ul style="list-style-type: none"> • Такого знака здесь нет • Только "а" • Только "б" и "в" • "а", "б" и "в"
<p>ВВП.1.2.73</p>	<p>Какой из изображенных на иллюстрации береговых навигационных информационных знаков запрещает движение мелких плавучих средств?</p>		<ul style="list-style-type: none"> • "а", "в" и "б" • Такого знака здесь нет • "б" и "а" • "а"
<p>ВВП.1.2.74</p>	<p>Какой из изображенных на иллюстрации береговых навигационных информационных знаков обозначает место базирования подразделения судовой инспекции?</p>		<ul style="list-style-type: none"> • б • в • Такого знака здесь нет • а




<p>ВВП.1.2.75</p>	<p>Где находится судно относительно оси судового хода, если судоводитель наблюдает задний знак осевого створа правее переднего?</p>		<ul style="list-style-type: none"> • На оси • Левее оси • Пересекает ось • Правее оси
<p>ВВП.1.2.76</p>	<p>Где находится судно относительно оси судового хода, если судоводитель наблюдает задний знак осевого створа левее переднего?</p>		<ul style="list-style-type: none"> • На оси • На правой по ходу кромке судового хода • Правее оси • Левее оси
<p>ВВП.1.2.77</p>	<p>Где находится судно относительно оси судового хода, если судоводитель наблюдает передний знак осевого створа левее заднего знака?</p>		<ul style="list-style-type: none"> • На оси • На левой по ходу полосе судового хода • Левее оси • Правее оси




<p>ВВП.1.2.78</p>	<p>Где находится судно относительно судового хода, если судоводитель наблюдает задний знак между передними знаками щелевого створа?</p>		<ul style="list-style-type: none"> • За левой по ходу кромкой судового хода • За правой по ходу кромкой судового хода • На правой по ходу кромке судового хода • На судовом ходу
<p>ВВП.1.2.79</p>	<p>Где находится судно относительно судового хода, если судоводитель наблюдает задние знаки между передними знаками кромочного створа?</p>		<ul style="list-style-type: none"> • За пределами судового хода • На левой по ходу кромке судового хода • На правой по ходу кромке судового хода • На судовом ходу
<p>ВВП.1.2.80</p>	<p>Где находится судно относительно оси судового хода, если судоводитель наблюдает в створе левый передний и задний знаки щелевого створа?</p>		<ul style="list-style-type: none"> • За пределами левой по ходу кромки судового хода • На оси судового хода • На правой по ходу кромке судового хода • На левой по ходу кромке судового хода




<p>ВВП.1.2.81</p>	<p>Где находится судно относительно оси судового хода, если судоводитель наблюдает в створе правый передний и задний знаки щелевого створа?</p>		<ul style="list-style-type: none"> • За пределами правой по ходу кромки судового хода • На оси судового хода • На левой кромке судового хода • На правой по ходу кромке судового хода
<p>ВВП.1.2.82</p>	<p>Где находится судно относительно судового хода, если судоводитель наблюдает левый передний знак в створе с правым задним знаком кромочного створа?</p>		<ul style="list-style-type: none"> • За правой по ходу кромкой судового хода • На судовом ходу • На левой кромке судового хода • За левой по ходу кромкой судового хода
<p>ВВП.1.2.83</p>	<p>Где находится судно относительно судового хода, если судоводитель наблюдает правый передний знак в створе с левым задним знаком кромочного створа?</p>		<ul style="list-style-type: none"> • За правой по ходу кромкой судового хода • За левой по ходу кромкой судового хода • На левой по ходу кромке судового хода • На правой по ходу кромке судового хода




<p>ВВП.1.2.84</p>	<p>Где находится судно относительно судового хода, если судоводитель наблюдает правый передний знак в створе с правым задним знаком кромочного створа?</p>		<ul style="list-style-type: none"> • За правой по ходу кромкой судового хода • На оси судового хода • На левой по ходу кромке судового хода • На правой по ходу кромке судового хода
<p>ВВП.1.2.85</p>	<p>Что обозначает изображенный на иллюстрации плавучий навигационный знак?</p>		<ul style="list-style-type: none"> • Разделение судового хода • Левую кромку судового хода • Правую кромку судового хода • Поворот судового хода вправо по течению
<p>ВВП.1.2.86</p>	<p>Что обозначает изображенный на иллюстрации плавучий навигационный знак?</p>		<ul style="list-style-type: none"> • Поворот судового хода • Особо опасное место у левой кромки судового хода • Особо опасное место у правой кромки судового хода • Ось судового хода




<p>ВВП.1.2.87</p>	<p>Что обозначает изображенный на иллюстрации плавучий навигационный знак?</p>		<ul style="list-style-type: none"> • Поворот судового хода и стоит на его левой кромке • Поворот судового хода и стоит на его правой кромке • Левую кромку судового хода • Правую кромку судового хода
<p>ВВП.1.2.88</p>	<p>Что обозначает изображенный на иллюстрации плавучий навигационный знак?</p>		<ul style="list-style-type: none"> • Поворот судового хода • Ось судового хода • Особо опасное место у правой кромки судового хода • Особо опасное место у левой кромки судового хода
<p>ВВП.1.2.89</p>	<p>Что обозначает изображенный на иллюстрации плавучий навигационный знак?</p>		<ul style="list-style-type: none"> • Поворот вправо • Правую кромку судового хода • Ось судового хода • Левую кромку судового хода




<p>ВВП.1.2.90</p>	<p>С какой стороны необходимо обойти изображенный на иллюстрации плавучий навигационный знак?</p>		<ul style="list-style-type: none"> • С W (запада) • С N (севера) • С E (востока) • С S (юга)
<p>ВВП.1.2.91</p>	<p>Укажите плавучий навигационный знак, обозначающий ось судового хода?</p>		<ul style="list-style-type: none"> • а) • б) • в) • г)
<p>ВВП.1.2.92</p>	<p>Укажите поворотный знак на правой кромке судового хода?</p>		<ul style="list-style-type: none"> • а) • б) • в) • г)




<p>ВВП.1.2.93</p>	<p>В каком месте выставляется изображенный на иллюстрации плавучий навигационный знак системы МАМС?</p>		<ul style="list-style-type: none"> • К югу от опасности • К западу от опасности • К северу от опасности • Над отдельной опасностью малых размеров
<p>ВВП.1.2.94</p>	<p>В какой стороне необходимо оставить изображенный на иллюстрации навигационный знак в устье крупной реки?</p>		<ul style="list-style-type: none"> • К югу • К западу • К северу • К востоку
<p>ВВП.1.2.95</p>	<p>Какой из изображенных на иллюстрации плавучих навигационных знаков выставляется на левой кромке судового хода?</p>		<ul style="list-style-type: none"> • а) и в) • а) и г) • б) и г) • Все изображенные




<p>ВВП.1.2.96</p>	<p>Какой из изображенных на иллюстрации плавучих навигационных знаков выставляется над отдельной опасностью малых размеров в морских устьях рек?</p>		<ul style="list-style-type: none"> • а • б • в • г
<p>ВВП.1.2.97</p>	<p>В какой стороне необходимо оставить изображенный на иллюстрации плавучий навигационный знак, выставленный в морском устье реки?</p>		<ul style="list-style-type: none"> • К западу • К северу • К востоку • К югу
<p>ВВП.1.2.98</p>	<p>Какой из изображенных на иллюстрации плавучих навигационных знаков обозначает особо опасное место у правой кромки судового хода?</p>		<ul style="list-style-type: none"> • а) • б) • г) • в)




<p>ВВП.1.2.99</p>	<p>Какой из изображенных на иллюстрации плавучих навигационных знаков, выставляемых в морских устьях рек, ограждает опасность с юга?</p>		<ul style="list-style-type: none"> • а) • б) • г) • в)
<p>ВВП.1.2.100</p>	<p>Какой из изображенных на иллюстрации плавучих навигационных знаков обозначает поворот оси судового хода и называется поворотно-осевым?</p>		<ul style="list-style-type: none"> • а) и б) • в) • г) и б) • б)
<p>ВВП.1.2.101</p>	<p>В какой стороне необходимо оставить изображенный на иллюстрации плавучий навигационный знак, выставленный в морском устье реки?</p>		<ul style="list-style-type: none"> • К югу • К северу • К востоку • К западу



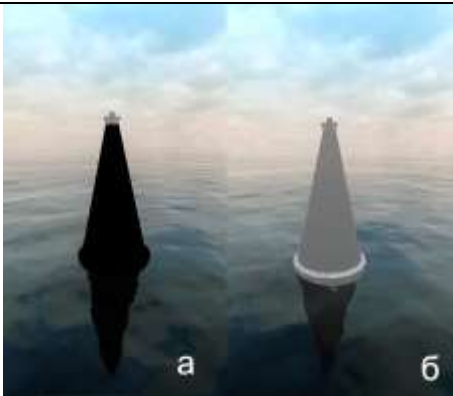
<p>ВВП.1.2.102</p>	<p>Какой из изображенных на иллюстрации плавучих навигационных знаков называется "Свальный"?</p>		<ul style="list-style-type: none"> • б) • в) • г) • а)
<p>ВВП.1.2.103</p>	<p>Какой из изображенных на иллюстрации плавучих навигационных знаков выставляется непосредственно над оконечностью препятствия (опасности) со стороны судового хода на левой кромке?</p>		<ul style="list-style-type: none"> • б) • в) • г) • а)
<p>ВВП.1.2.104</p>	<p>Какой из изображенных на иллюстрации плавучих навигационных знаков называется "Осевой"?</p>		<ul style="list-style-type: none"> • а • б • Такого знака здесь нет • в




ВВП.1.2.105	Какой из изображенных на иллюстрации плавучих навигационных знаков называется "Свальный"?		<ul style="list-style-type: none">• а)• б)• в)• Такого знака здесь нет
ВВП.1.2.106	Какой из изображенных на иллюстрации плавучих навигационных знаков называется "Свальный"?		<ul style="list-style-type: none">• а)• б)• Такого знака здесь нет• в)
ВВП.1.2.107	Какой из изображенных на иллюстрации плавучих навигационных знаков называется "Разделительный"?		<ul style="list-style-type: none">• б)• в)• Такого знака здесь нет• а)

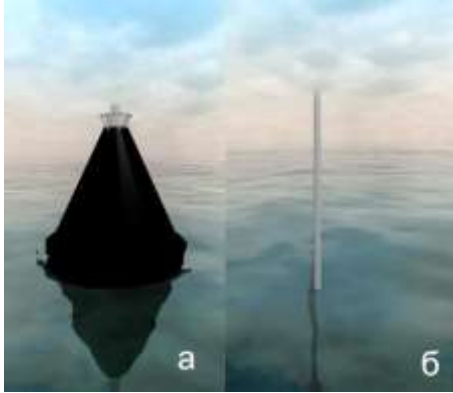


<p>ВВП.1.2.108</p>	<p>Какой из изображенных на иллюстрации плавучих навигационных знаков называется "Кромочный"?</p>		<ul style="list-style-type: none"> • а) • б) • в) • Такого знака здесь нет
<p>ВВП.1.2.109</p>	<p>Что обозначает изображенный на иллюстрации плавучий навигационный знак?</p>		<ul style="list-style-type: none"> • Поворот судового хода и стоит у левого берега • Поворот судового хода и стоит у правого берега • Правую кромку судового хода • Левую кромку судового хода
<p>ВВП.1.2.110</p>	<p>Что обозначает изображенный на иллюстрации плавучий навигационный знак?</p>		<ul style="list-style-type: none"> • Поворот судового хода и стоит на его правой кромке • Правую кромку судового хода • Левую кромку судового хода • Поворот судового хода и стоит на его левой кромке

<p>ВВП.1.2.111</p>	<p>Какой из изображенных на иллюстрации плавучих навигационных знаков называется "Знак опасности"?</p>		<ul style="list-style-type: none"> • а) • в) • Такого знака здесь нет • б)
<p>ВВП.1.2.112</p>	<p>Какой из изображенных на иллюстрации плавучих навигационных знаков называется "Знак опасности"?</p>		<ul style="list-style-type: none"> • а) • б) • Такого знака здесь нет • в)
<p>ВВП.1.2.113</p>	<p>Какой цвет огня имеет кромочный знак, устанавливающийся на левой кромке судового хода?</p>		<ul style="list-style-type: none"> • Белый, зеленый или красный • Желтый, белый или красный • Зеленый, желтый или красный • Белый, желтый или зеленый




ВВП.1.2.114	Какой цвет огня имеет свальный знак, устанавливающийся на правой кромке судового хода?		<ul style="list-style-type: none">• Белый• Желтый• Зеленый• Красный
ВВП.1.2.115	Какой цвет огня имеет знак опасности, устанавливающийся на левой кромке судового хода?		<ul style="list-style-type: none">• Белый• Желтый• Красный• Зеленый
ВВП.1.2.116	Какой цвет огня имеет знак опасности, устанавливающийся на левой кромке судового хода?		<ul style="list-style-type: none">• Белый• Желтый• Зеленый• Красный




<p>ВВП.1.2.117</p>	<p>Какой цвет огня имеет кромочный знак, устанавливающийся на левой кромке судового хода?</p>		<ul style="list-style-type: none"> • Белый • Красный или желтый • Красный, или белый, или зеленый • Красный
<p>ВВП.1.2.118</p>	<p>С какого борта маломерное судно должно оставлять изображенные на иллюстрации знаки, следуя вниз за пределами левой кромки судового хода?</p>		<ul style="list-style-type: none"> • С левого "а" и "б" • "а" - с левого, "б" - с правого • "а" - с правого, "б" - с левого • С правого "а" и "б"
<p>ВВП.1.2.119</p>	<p>С какого борта маломерное судно должно оставлять изображенные на иллюстрации знаки, следуя вверх за пределами левой кромки судового хода?</p>		<ul style="list-style-type: none"> • С правого "а" и "б" • "а" - с левого, "б" - с правого • "а" - с правого, "б" - с левого • С левого "а" и "б"

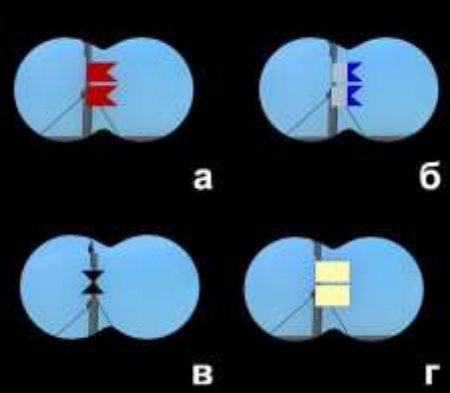


<p>ВВП.1.2.120</p>	<p>С какого борта маломерное судно должно оставлять изображенный на иллюстрации плавучий навигационный знак, следуя вниз за пределами правой кромки судового хода?</p>		<ul style="list-style-type: none"> • С любого • С правого • Судно должно остановиться перед знаком • С левого
<p>ВВП.1.2.121</p>	<p>С какого борта маломерное судно должно оставлять изображенные на иллюстрации плавучие навигационные знаки, следуя вверх за пределами правой кромки судового хода?</p>		<ul style="list-style-type: none"> • С левого "а" и "б" • "а" - с левого, "б" - с правого • "а" - с правого, "б" - с левого • С правого "а" и "б"
<p>ВВП.1.2.123</p>	<p>Какой из изображенных на иллюстрации плавучих навигационных знаков выставляется непосредственно над оконечностью опасности со стороны судового хода на правой кромке?</p>		<ul style="list-style-type: none"> • а) • б) • в) • г)

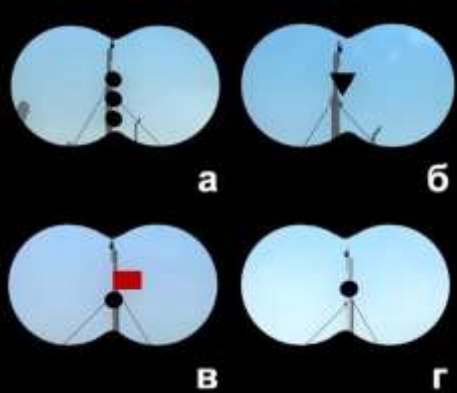


<p>ВВП.1.2.124</p>	<p>С какого борта маломерное судно должно оставлять изображенные на иллюстрации знаки, следуя вверх по судовому ходу вдоль правой по ходу кромки в пределах до 10 м от нее?</p>		<ul style="list-style-type: none"> • С левого "а" и "б" • "а" - с левого, "б" - с правого • "а" - с правого, "б" - с левого • С правого "а" и "б"
<p>ВВП.1.2.125</p>	<p>Какую длину имеет изображенное на иллюстрации парусное судно?</p>		<ul style="list-style-type: none"> • Более 7 м • До 7 м • От 7 м до 20 м • 20 м и более
<p>ВВП.1.2.126</p>	<p>Что означает поднятый на судне сигнал?</p>		<ul style="list-style-type: none"> • Судно на мели • Судно занято дноуглубительными работами • Судно, лишенное возможности управляться, на якоре • Судно терпит бедствие и нуждается в помощи




<p>ВВП.1.2.127</p>	<p>Укажите огни судна, буксирующего плот.</p>		<ul style="list-style-type: none"> • а) • б) • в) • г)
<p>ВВП.1.2.128</p>	<p>Какое из изображенных на иллюстрации судов занято ловом рыбы?</p>		<ul style="list-style-type: none"> • а) • б) • г) • в)
<p>ВВП.1.2.129</p>	<p>Укажите огни судна, занятого ловом рыбы.</p>		<ul style="list-style-type: none"> • а) • в) • г) • б)




<p>ВВП.1.2.130</p>	<p>Укажите огни судна, занятого ловом рыбы.</p>		<ul style="list-style-type: none"> • а) • б) • в) • г)
<p>ВВП.1.2.131</p>	<p>В каком направлении движется судно с огнями, приведенными на иллюстрации?</p>		<ul style="list-style-type: none"> • Идет от нас • Стоит на мели • Стоит на якоре • Идет на нас
<p>ВВП.1.2.132</p>	<p>Что означает изображенный на иллюстрации знак, выставленный на парусном судне?</p>		<ul style="list-style-type: none"> • Судно стоит на мели • Судно длиной более 20 м • Судно занимается рыбной ловлей • Судно идет под парусом и мотором одновременно

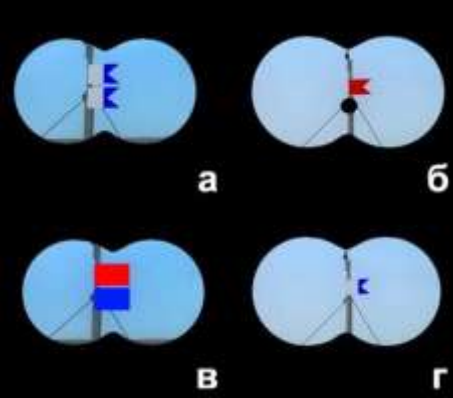


<p>ВВП.1.2.133</p>	<p>Какое из перечисленных судов несет изображенные на иллюстрации огни?</p>		<ul style="list-style-type: none"> • Парусное судно под мотором. • Парусное судно длиной менее 20 м. • Рыболовное судно. • Парусное судно длиной 20 м и более.
<p>ВВП.1.2.134</p>	<p>Какое из перечисленных судов несет изображенные на иллюстрации огни?</p>		<ul style="list-style-type: none"> • Самоходное судно на мели • Самоходное судно на якоре • Самоходное судно идет на нас • Самоходное судно длиной менее 50 м идет влево
<p>ВВП.1.2.135</p>	<p>Что означает знак, выставленный на судне?</p>		<ul style="list-style-type: none"> • Судно ограничено в возможности маневрировать • Судно занято ловом рыбы • Судно осуществляет перевозку опасных грузов • Судно стоит на якоре


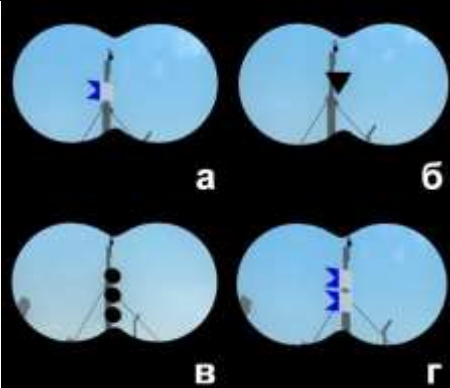
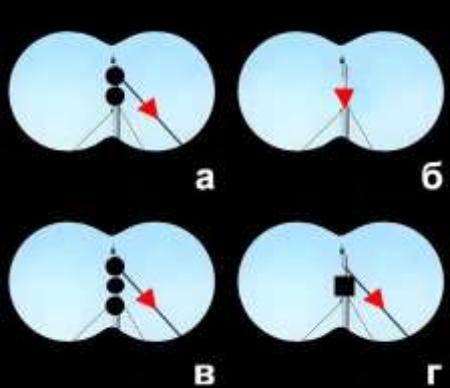
<p>ВВП.1.2.136</p>	<p>Какое из изображенных на иллюстрации судов занято водолазными работами?</p>		<ul style="list-style-type: none"> • а) • в) • г) • б)
<p>ВВП.1.2.137</p>	<p>Укажите огни судна, занятого водолазными работами.</p>		<ul style="list-style-type: none"> • а) • в) • г) • б)
<p>ВВП.1.2.138</p>	<p>Какое из перечисленных судов должно нести изображенные на иллюстрации огни?</p>		<ul style="list-style-type: none"> • Маломерное судно на мели • Несамостоятельное судно на буксире • Судно, занятое ловом рыбы • Парусное судно длиной менее 50м, идущее под мотором




<p>ВВП.1.2.139</p>	<p>Какой из изображенных на иллюстрации сигналов несет судно, терпящее бедствие?</p>		<ul style="list-style-type: none"> • а) • б) • г) • в)
<p>ВВП.1.2.140</p>	<p>Укажите огни пассажирского судна, работающего на переправе?</p>		<ul style="list-style-type: none"> • а) • в) • г) • б)
<p>ВВП.1.2.141</p>	<p>Что означает звуковой сигнал из трех продолжительных звуков?</p>		<ul style="list-style-type: none"> • "Прошу уменьшить ход" • "Я изменяю свой курс влево" • "Я намереваюсь сделать оборот" • "Человек за бортом"


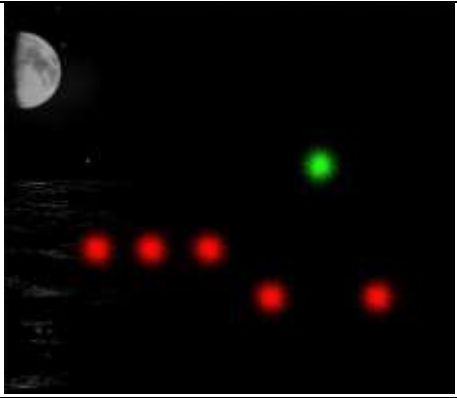

<p>ВВП.1.2.142</p>	<p>Что означает звуковой сигнал – серия, не менее пяти коротких звуков?</p>		<ul style="list-style-type: none"> • "Мои движители работают на задний ход" • "Прошу уменьшить ход" • "Я намереваюсь остановиться" • "Предупреждение"
<p>ВВП.1.2.143</p>	<p>Какое значение имеет звуковой сигнал из четырех коротких звуков?</p>		<ul style="list-style-type: none"> • "Мои движители работают назад" • "Прошу увеличить ход" • "Человек за бортом" • "Я намереваюсь сделать оборот"
<p>ВВП.1.2.144</p>	<p>Какое судно из перечисленных должно нести ночью изображенные на иллюстрации огни на ходу?</p>		<ul style="list-style-type: none"> • Маломерное моторное • Парусное, идущее под мотором • Одинокое самоходное длиной менее 50 м • Каждое из перечисленных




<p>ВВП.1.2.145</p>	<p>Укажите огни одиночного самоходного судна, которое следует на нас?</p>		<ul style="list-style-type: none"> • а) • в) • г) • б)
<p>ВВП.1.2.146</p>	<p>Чем занято судно с изображенными на иллюстрации огнями?</p>		<ul style="list-style-type: none"> • Занято рыбной ловлей • Идет влево • Лежит в дрейфе • Стоит на якоре
<p>ВВП.1.2.147</p>	<p>Как движется это судно по отношению к наблюдателю?</p>		<ul style="list-style-type: none"> • Идет вправо • Идет на наблюдателя • Идет от наблюдателя • Идет влево




<p>ВВП.1.2.148</p>	<p>Какой из изображенных на иллюстрации сигналов несет днем судно, занятое водолазными работами?</p>		<ul style="list-style-type: none"> • б) • в) • г) • а)
<p>ВВП.1.2.149</p>	<p>Определите, какому виду (типу) плавсредств принадлежит изображенная на иллюстрации ночная сигнализация?</p>		<ul style="list-style-type: none"> • Плавучий кран • Дноочистительный снаряд • Водолазное судно • Дноуглубительный снаряд
<p>ВВП.1.2.150</p>	<p>Какое судно несет на наиболее видном месте сигнал - черный конус вершиной вниз?</p>		<ul style="list-style-type: none"> • Судно, стоящее на мели • Судно, стоящее на якоря • Судно, осуществляющее перевозку радиоактивных грузов • Судно, идущее под парусом и одновременно использующее силовую установку




<p>ВВП.1.2.151</p>	<p>Какие из перечисленных сигналов может подавать терпящее бедствие судно, которое просит о помощи?</p>		<ul style="list-style-type: none"> • Ракеты красного цвета • Частое мигание круговым огнем или вертикальное перемещение огня • Медленное повторяемое поднятие и опускание вытянутыми в сторону руками • Все перечисленные сигналы
<p>ВВП.1.2.152</p>	<p>Укажите сигнал, выставляемый днем на стоящем на мели судне, со стороны, с которой проход других судов невозможен?</p>		<ul style="list-style-type: none"> • а) • б) • г) • в)
<p>ВВП.1.2.153</p>	<p>Какой из изображенных на иллюстрации сигналов днем должно нести самоходное судно с ядовитыми или взрывчатыми веществами на мели?</p>		<ul style="list-style-type: none"> • а) • б) • г) • в)




<p>ВВП.1.2.154</p>	<p>Какое из перечисленных маломерных судов на ходу показывает белый круговой огонь при приближении к нему других судов?</p>		<ul style="list-style-type: none"> • Катер • Гидроцикл • Моторная лодка • Шлюпки судов
<p>ВВП.1.2.155</p>	<p>Какой звуковой сигнал должно подавать одиночное самоходное судно на якоре или на мели при ограниченной (менее 1 км) видимости?</p>		<ul style="list-style-type: none"> • Один продолжительный и два коротких звука • Один короткий и один продолжительный звука • Три коротких звука • Один короткий, один продолжительный и один короткий звуки
<p>ВВП.1.2.156</p>	<p>Через сколько метров должны обозначаться круговыми огнями (красными - у правого берега, белыми или желтыми, или зелеными - у левого берега) сети, поставленные в непосредственной близости от судового хода?</p>		<ul style="list-style-type: none"> • Через 20 м • Через 50 м • Через 200 м • Через 100 м




<p>ВВП.1.2.157</p>	<p>Какое судно несет изображенные на иллюстрации огни?</p>		<ul style="list-style-type: none"> • Пассажирское водоизмещающее судно на переправе. Лежит в дрейфе • Пассажирское водоизмещающее судно на переправе. Стоит на якоре • Пассажирское водоизмещающее судно на переправе. Стоит у причала • Паром канатной переправы
<p>ВВП.1.2.158</p>	<p>Какое судно несет изображенные на иллюстрации огни?</p>		<ul style="list-style-type: none"> • Самоходный • дноуглубительный снаряд на ходу с волочащимся грунтоподъемником • Таких огней для судов не предусмотрено • Дноочистительный снаряд, занятый подводными работами • Рефулерный снаряд при отвале грунта к правому берегу
<p>ВВП.1.2.159</p>	<p>Какое судно несет изображенный на иллюстрации сигнал?</p>		<ul style="list-style-type: none"> • Паром канатной переправы на стоянке у берега • Дебаркадер на буксире • Судно, лишенное возможности управляться • Самоходный <p>дноуглубительный снаряд с волочащимся грунтоподъемником на ходу</p>




<p>ВВП.1.2.160</p>	<p>Какое судно несет изображенный на иллюстрации сигнал?</p>		<ul style="list-style-type: none"> • Парусное судно на якоре • Дноуглубительный снаряд, работающий у правого берега • Рыболовное судно, занятое выборкой трала • Судно с опасными грузами на якоре
<p>ВВП.1.2.161</p>	<p>Какое значение имеет звуковой сигнал из одного короткого звука?</p>		<ul style="list-style-type: none"> • "Я изменяю свой курс влево" • "Мои двигатели работают на задний ход" • "Я намереваюсь сделать оборот" • "Я изменяю свой курс вправо"
<p>ВВП.1.2.162</p>	<p>Какое значение имеет звуковой сигнал из двух коротких звуков?</p>		<ul style="list-style-type: none"> • "Я изменяю свой курс вправо" • "Мои двигатели работают на задний ход" • "Я намереваюсь сделать оборот" • "Я изменяю свой курс влево"

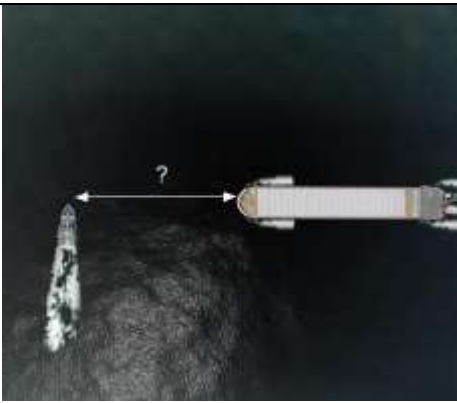
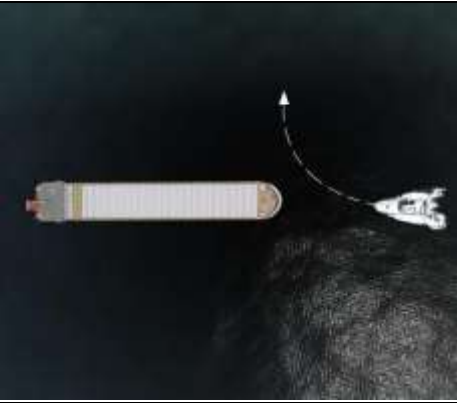

<p>ВВП.1.2.163</p>	<p>Какое значение имеет звуковой сигнал из трех коротких звука?</p>		<ul style="list-style-type: none"> • "Я изменяю свой курс влево" • "Я изменяю свой курс вправо" • "Я намерен сделать оборот" • "Мои движители работают на задний ход"
<p>ВВП.1.2.164</p>	<p>Какие из изображенных на иллюстрации огней принадлежат судну, лишенному возможности управляться?</p>		<ul style="list-style-type: none"> • а • б • в • г
<p>ВВП.1.2.165</p>	<p>Что обозначают изображенные на иллюстрации круговые огни, выставленные в непосредственной близости от судового хода?</p>		<ul style="list-style-type: none"> • Место работы водолазного судна у левой кромки судового хода • Местонахождение затонувшего судна у левой кромки судового хода • Рыболовные сети у правой кромки судового хода • Рыболовные сети у левой кромки судового хода




<p>ВВП.1.2.166</p>	<p>Что обозначают изображенные на иллюстрации круговые огни, выставленные в непосредственной близости от судового хода?</p>		<ul style="list-style-type: none"> • Место работы водолазного судна у правой кромки судового хода • Местонахождение затонувшего судна у правой кромки судового хода • Рыболовные сети у левой кромки судового хода • Рыболовные сети у правой кромки судового хода
<p>ВВП.1.2.167</p>	<p>Какой из звуковых сигналов в условиях ограниченной видимости подает одиночное судно на якоре?</p>		<ul style="list-style-type: none"> • "а" • "в" • "г" • "б"
<p>ВВП.1.2.168</p>	<p>Какие из изображенных на иллюстрации огней принадлежат парому канатной переправы?</p>		<ul style="list-style-type: none"> • "б" • "в" • "г" • "а"




<p>ВВП.1.2.169</p>	<p>Какие из круговых огней выставляются у левой кромки судового хода для обозначения рыболовных сетей?</p>		<ul style="list-style-type: none"> • Зеленые или белые • Зеленые или желтые • Красные • Зеленые, белые или желтые
<p>ВВП.1.2.170</p>	<p>Что обозначают выставленные в непосредственной близости от судового хода желтые поплавки или желтые флаги?</p>		<ul style="list-style-type: none"> • Место работы водолазного судна • Местонахождение затонувшего судна • Границу заплыва для купания • Рыболовные сети
<p>ВВП.1.2.171</p>	<p>Какой цвет должны иметь круговые огни, выставляемые у левой кромки судового хода для обозначения рыболовных сетей?</p>		<ul style="list-style-type: none"> • Белые или синие • Синие • Красные • Белые, зеленые или желтые




<p>ВВП.1.2.172</p>	<p>Какие из круговых огней выставляются у левой кромки судового хода для обозначения места работы водолазного судна?</p>		<ul style="list-style-type: none"> • Желтые • Зеленые • Красные • Таких огней на рисунке нет
<p>ВВП.1.2.173</p>	<p>Какие из указанных огней принадлежат судну, лишенному возможности управляться и не имеющему хода относительно воды?</p>		<ul style="list-style-type: none"> • "а" • "б" • "в" • "г"
<p>ВВП.1.2.174</p>	<p>Какое значение имеет звуковой сигнал - один продолжительный звук, подаваемый судном в условиях ограниченной видимости?</p>		<ul style="list-style-type: none"> • "Несамоходное судно с экипажем на якоре или на мели в пределах судового хода" • "Одиночные суда или составы на якоре или на мели в пределах судового хода" • "Составы и плоты в движении" • "Одиночные суда в движении"


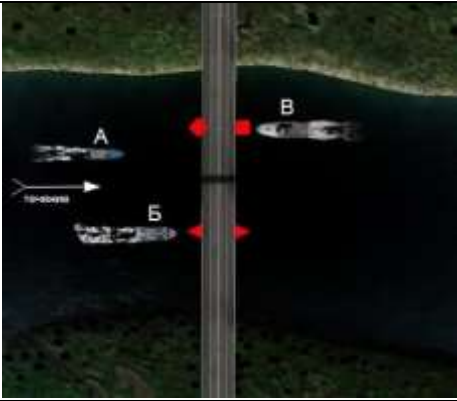

<p>ВВП.1.2.175</p>	<p>Какое значение имеет звуковой сигнал - 1 короткий, 1 продолжительный и 1 короткий звуки, подаваемый судном в условиях ограниченной видимости?</p>		<ul style="list-style-type: none"> • "Несамоходное судно с экипажем на якоре или на мели в пределах судового хода" • "Одиночные суда в движении" • "Составы в движении" • "Одиночные суда или составы на якоре или на мели в пределах судового хода"
<p>ВВП.1.2.176</p>	<p>Какое значение имеет звуковой сигнал - частые удары в колокол или металлический предмет, подаваемый судном в условиях ограниченной видимости?</p>		<ul style="list-style-type: none"> • "Одиночные суда в движении" • "Одиночные суда или составы на якоре или на мели в пределах судового хода" • "Составы в движении" • "Несамоходное судно с экипажем на якоре или на мели в пределах судового хода"
<p>ВВП.1.2.177</p>	<p>Какие действия должен предпринять судоводитель маломерного судна в районе переката?</p>		<ul style="list-style-type: none"> • Уменьшить ход и пройти перекат, оставляя красные плавучие знаки слева • Подать звуковой сигнал на перекате и оставить белый буй слева • Остановиться перед перекатной мачтой • Проследовать через перекат, соблюдая осторожность, оставив красный буй справа

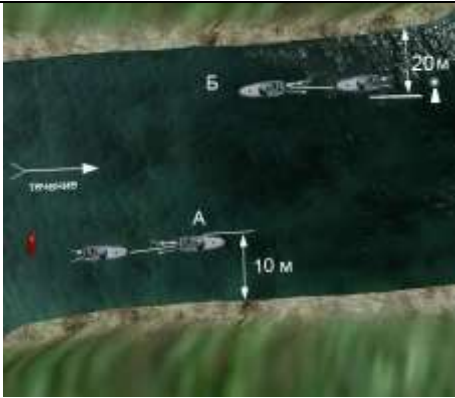


<p>ВВП.1.2.178</p>	<p>На каком минимальном расстоянии от приближающегося судна разрешается пересекать судовой ход маломерному судну?</p>		<ul style="list-style-type: none"> • 0,5 км • 0,8 км • 1,5 км • 1 км
<p>ВВП.1.2.179</p>	<p>Какое из перечисленных действий необходимо предпринять судоводителю маломерного судна, уступая дорогу немаломерному судну?</p>		<ul style="list-style-type: none"> • Подать звуковой сигнал • Подать отмашку и звуковой сигнал • Подать отмашку с соответствующего борта • Уступить дорогу без подачи сигналов
<p>ВВП.1.2.180</p>	<p>В каких пределах маломерное судно может следовать по судовому ходу вдоль правой по ходу кромки, если по условиям пути следовать за пределами судового хода невозможно?</p>		<ul style="list-style-type: none"> • До 7 м • До 20 м • До 15 м • До 10 м




<p>ВВП.1.2.181</p>	<p>Какое из маломерных судов нарушило ППВВП?</p>		<ul style="list-style-type: none"> • "А" • "А" и "Б" • "А" и "Б" правил не нарушили • "Б"
<p>ВВП.1.2.182</p>	<p>Какое из маломерных судов нарушило ППВВП?</p>		<ul style="list-style-type: none"> • "А" и "Б" • "А", "Б" и "В" • "Б" и "В" • "А" и "В"
<p>ВВП.1.2.183</p>	<p>Какое из маломерных судов не нарушает ППВВП?</p>		<ul style="list-style-type: none"> • Только "Б" • Только "В" • только "А" • "А" и "В"


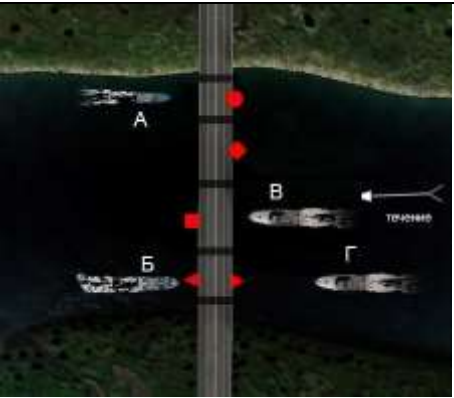

<p>ВВП.1.2.184</p>	<p>Какое из маломерных судов не нарушило ППВВП?</p>		<ul style="list-style-type: none"> • "А" и "Б" • "А" и "Б" нарушили • "Б" • "А"
<p>ВВП.1.2.185</p>	<p>Какое из маломерных судов нарушает ППВВП?</p>		<ul style="list-style-type: none"> • "Б" и "В" • Только "Б" • Только "В" • "А" и "Б"
<p>ВВП.1.2.186</p>	<p>Как называется условная линия, ограничивающая судовой ход по ширине?</p>		<ul style="list-style-type: none"> • Изобата судовой хода • Кромка полосы движения • Крайняя ось судовой хода • Кромка судовой хода




<p>ВВП.1.2.187</p>	<p>Какое из судов имеет приоритет при расхождении в данной ситуации?</p>		<ul style="list-style-type: none"> • "А" и "Б" • "Б" • Ни "А", ни "Б" • "А"
<p>ВВП.1.2.188</p>	<p>С какого борта катер "А" должен оставить при обгоне моторную лодку "Б", согласно требованиям ППВВП?</p>		<ul style="list-style-type: none"> • С любого • С левого при движении вниз • С левого при движении вверх • С правого
<p>ВВП.1.2.189</p>	<p>Какие действия должен предпринять судоводитель маломерного судна "В"?</p>		<ul style="list-style-type: none"> • Следовать намеченным курсом • Повернуть вправо, чтобы пройти за кормой "Б" • Пройти за кормой судна "А" • Осуществить пропуск судов "А" и "Б"




<p>ВВП.1.2.190</p>	<p>Какое из маломерных судов пересекло судовой ход без нарушения ППВВП?</p>		<ul style="list-style-type: none"> • "А" и "Б" нарушили правила • только "А" • только "Б" • "А" и "Б"
<p>ВВП.1.2.191</p>	<p>Какое из маломерных судов не нарушает ППВВП при проходе под мостом?</p>		<ul style="list-style-type: none"> • "Б" и "В" • Только "А" • Только "В" • Только "Б"
<p>ВВП.1.2.192</p>	<p>Какое из маломерных судов нарушило ППВВП в части стоянки и постановки на якорь?</p>		<ul style="list-style-type: none"> • "А" и "Б" • "Б" и "В" • "Г" и "В" • "А" и "Г"




<p>ВВП.1.2.193</p>	<p>Какой из катеров, буксирующих другие суда, не нарушает ППВВП в данной ситуации?</p>		<ul style="list-style-type: none"> • "А" и "Б" нарушают • Только "А" • Только "Б" • "А" и "Б"
<p>ВВП.1.2.194</p>	<p>Какие действия должен предпринять судоводитель в случае неуверенности в оценке ситуации?</p>		<ul style="list-style-type: none"> • Связаться с диспетчером порта по радиосвязи и получить консультацию • Повернуть судно на обратный курс • Подать звуковой сигнал из 5 коротких звуков • Уменьшить ход или прекратить движение судна
<p>ВВП.1.2.195</p>	<p>Какому из маломерных судов "А" и "В" должно уступить дорогу парусное судно "Б"?</p>		<ul style="list-style-type: none"> • "А" • "А" и "В" • "В" • Ни одному из судов




<p>ВВП.1.2.196</p>	<p>Как называется часть судового хода между его осью и правой или левой кромкой судового хода?</p>		<ul style="list-style-type: none"> • Ширина судового хода • Полоса судового хода • Кромка судового хода • Полоса движения
<p>ВВП.1.2.197</p>	<p>Какому из судов ("А" – моторное судно, "В" - парусное судно) должна уступить дорогу гребная лодка "Б"?</p>		<ul style="list-style-type: none"> • "А" • "А" и "В" • Никакому • "В"
<p>ВВП.1.2.198</p>	<p>Какие действия должен предпринять судоводитель маломерного судна "А" при выходе из базы стоянки?</p>		<ul style="list-style-type: none"> • Пропустить "А" и начать движение • Пропустить судно "Б" и начать движение • Выйти с базы, не пропуская "Б" и "В" • Пропустить "Б" и "В" и начать движение




<p>ВВП.1.2.199</p>	<p>Как называется судовой ход, являющийся главным по отношению к другим судовым ходам в данном районе?</p>		<ul style="list-style-type: none"> • Главный судовой ход • Осевой судовой ход • Основная полоса движения • Основной судовой ход
<p>ВВП.1.2.200</p>	<p>Какие из маломерных судов ("А", "Б", "В" и "Г") осуществляет проход под мостом в соответствии с требованиями ППВВП?</p>		<ul style="list-style-type: none"> • "А" и "В" • "А" и "Г" • "Б" и "В" • "Б" и "Г"
<p>ВВП.1.2.201</p>	<p>Как в соответствии с ППВВП называется наименьшая скорость судна, при которой оно сохраняет управляемость?</p>		<ul style="list-style-type: none"> • Безопасная • Экономичная • Эксплуатационная • Минимальная



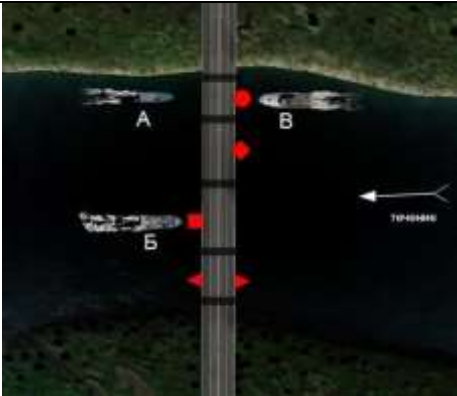
<p>ВВП.1.2.202</p>	<p>Как называется маневр, связанный с прохождением одного судна относительно другого при встречном плавании?</p>		<ul style="list-style-type: none"> • Уклонение • Пропуск • Отворот • Расхождение
<p>ВВП.1.2.203</p>	<p>Какое маломерное судно ("А" - парусное судно, "Б" - гребная лодка, "В" - моторная лодка) имеет преимущество при расхождении перед другими?</p>		<ul style="list-style-type: none"> • "Б" • "В" • Никакое • "А"
<p>ВВП.1.2.204</p>	<p>Какое маломерное судно ("А" - катер, "Б" - моторная лодка, "В" - безмоторное судно) имеет преимущество при расхождении перед другими?</p>		<ul style="list-style-type: none"> • "А" • "А" и "Б" • "Б" • "В"




<p>ВВП.1.2.205</p>	<p>Как называется приближение обгоняющего судна "А" к судну "Б" в направлении под углом более 22,5 градусов позади траверза обгоняемого судна и обгон его?</p>		<ul style="list-style-type: none"> • Обход • Опережение • Пропуск • Обгон
<p>ВВП.1.2.206</p>	<p>Как называется судовой ход, отходящий от основного, а затем соединяющийся с ним, а также судовой ход, отходящий от основного, и предназначенный для подхода к берегу, причалам, затонам и т.д.?</p>		<ul style="list-style-type: none"> • Запасной • Обходной • Второстепенный • Дополнительный
<p>ВВП.1.2.207</p>	<p>Что должен сделать судоводитель маломерного судна при резком ухудшении визуальной видимости, если судно имеет устройство для подачи звуковых сигналов, но не оборудовано исправными радиолокационной и радиотелефонной установками?</p>		<ul style="list-style-type: none"> • Уменьшить скорость и подавать звуковые сигналы, предписанные ППВВП • Уменьшить скорость, усилить слуховое и визуальное наблюдение, подавать предписанные ППВВП звуковые сигналы • Продолжить плавание, усилив слуховое и визуальное наблюдение • Прекратить движение




<p>ВВП.1.2.208</p>	<p>Какое из маломерных судов нарушило ППВВП?</p>		<ul style="list-style-type: none"> • "А" и "Б" • "А" и "Б" нарушили • "Б" • "А"
<p>ВВП.1.2.209</p>	<p>Что означает в соответствии с ППВВП термин "судно на ходу"?</p>		<ul style="list-style-type: none"> • Судно, не стоящее на якоре или на мели, и не лежащее в дрейфе • Судно, движение которого осуществляется при помощи двигателя, паруса или мускульной силы • Судно, не стоящее на якоре или на мели, и движение которого осуществляется при помощи двигателя • Судно, не стоящее на якоре, не ошвартованное к берегу, причалу, плавучему сооружению, другому стоящему судну и не стоящее на мели
<p>ВВП.1.2.210</p>	<p>Что означает в соответствии с ППВВП термин "судно на стоянке"?</p>		<ul style="list-style-type: none"> • Судно, стоящее на якоре • Судно, стоящее на якоре, или лежащее в дрейфе • Судно, стоящее на якоре, или ошвартованное к берегу или причалу • Судно, стоящее на якоре, ошвартованное к берегу, причалу, плавучему сооружению или другому стоящему судну

<p>ВВП.1.2.211</p>	<p>Что означает в соответствии с ППВВП термин "безопасная скорость"?</p>		<ul style="list-style-type: none"> • Наименьшая скорость, которая позволяет маневрировать и останавливать судно на минимальном расстоянии в данных условиях и обстоятельствах • Минимальная скорость, при которой судно сохраняет управляемость в данных условиях и обстоятельствах • Скорость, которая обеспечивает управляемость и маневрирование в сложившихся обстоятельствах • Выбранная скорость, которая позволяет обеспечивать безопасное движение, маневрирование и остановку судна в пределах расстояния, требуемого сложившимися обстоятельствами
<p>ВВП.1.2.212</p>	<p>Что означает в соответствии с ППВВП термин "минимальная скорость"?</p>		<ul style="list-style-type: none"> • Скорость, которую судно развивает на самых малых оборотах двигателя • Скорость, которая обеспечивает маневрирование судна на самом малом ходу • Скорость, которая обеспечивает безопасное движение и маневрирование судна • Наименьшая скорость судна, при которой оно сохраняет управляемость в данных условиях и обстоятельствах
<p>ВВП.1.2.213</p>	<p>Какие из маломерных судов нарушили ППВВП в районе действия приведенного на иллюстрации берегового информационного знака?</p>		<ul style="list-style-type: none"> • "А" и "Б" • "А" и "В" • "А", "Б" и "В" • "Б" и "В"




<p>ВВП.1.2.214</p>	<p>Какие из маломерных судов нарушили ППВВП в районе действия приведенного берегового информационного знака?</p>		<ul style="list-style-type: none"> • "А" и "Б" • "А" и "В" • "Б" и "В" • "А", "Б" и "В"
<p>ВВП.1.2.215</p>	<p>Какое из маломерных моторных судов нарушает в данной ситуации ППВВП?</p>		<ul style="list-style-type: none"> • "А" • "А" и "Б" не нарушают • "Б" • "А" и "Б"
<p>ВВП.1.2.216</p>	<p>Как должен производиться обгон маломерным судном другого маломерного судна?</p>		<ul style="list-style-type: none"> • По правому борту обгоняемого судна • По правому борту при следовании вниз • По правому борту при следовании вверх • По левому борту обгоняемого судна





<p>ВВП.1.2.217</p>	<p>Какое из маломерных судов нарушило ППВВП в районе действия указанного знака?</p>		<ul style="list-style-type: none"> • "А" и "Б" • "А" и "В" • "В" и "Б" • Никакое
<p>ВВП.1.2.218</p>	<p>Как в соответствии с ППВВП маломерное судно должно обгонять немаломерное судно?</p>		<ul style="list-style-type: none"> • По любому борту • По левому борту • По борту, который укажет отмашкой немаломерное судно • По правому борту, находясь в разрешенной для маломерных судов полосе движения
<p>ВВП.1.2.219</p>	<p>Какое (-ие) из маломерных судов ("А", "Б" и "В") осуществляет (ют) проход под мостом с нарушением ППВВП?</p>		<ul style="list-style-type: none"> • "А" • "А" и "В" • "Б" и "В" • "А", "Б" и "В"

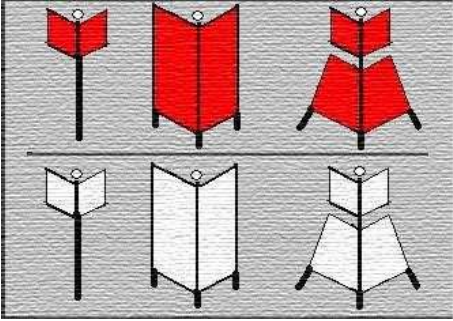
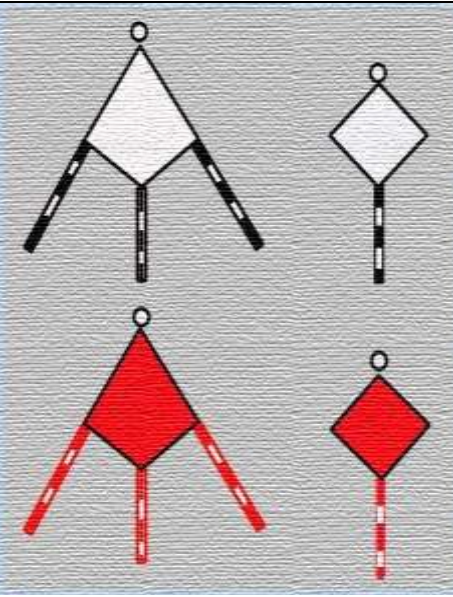
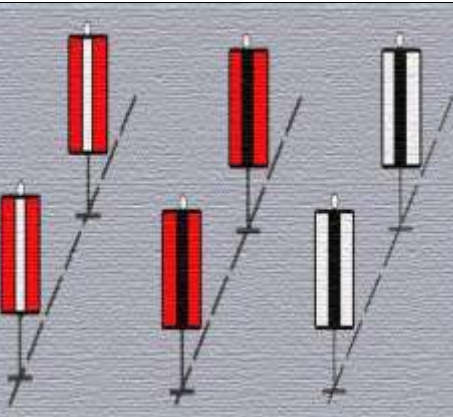
<p>ВВП.1.2.220</p>	<p>Какое из маломерных судов имеет преимущество при расхождении?</p>		<ul style="list-style-type: none"> • "А" и "Б" • Только "А" • Только "Б" • Ни одно из них
<p>ВВП.1.2.221</p>	<p>Какие в соответствии с ППВВП звуковые сигналы должно подавать маломерное судно при обгоне немаломерного судна?</p>		<ul style="list-style-type: none"> • Два коротких звука при обгоне по левому борту • Один короткий звук при обгоне по правому борту • Три коротких звука • Сигналы не подаются
<p>ВВП.1.2.222</p>	<p>Как в соответствии с ППВВП должен производиться обгон маломерным судном "А" немаломерного судна в данной ситуации?</p>		<ul style="list-style-type: none"> • По любому борту • По левому борту обгоняемого судна • Оставить обгоняемое судно справа • По правому борту немаломерного судна

<p>ВВП.1.2.223</p>	<p>В каком случае маломерное судно может идти по судовому ходу вдоль правой по ходу кромки в пределах до 10 м от нее?</p>		<ul style="list-style-type: none"> • Если на судовом ходу нет встречных немаломерных судов • Если на судовом ходу в пределах видимости нет немаломерных судов • Если маломерное судно оборудовано зрительной и звуковой сигнализацией • Если, по условиям пути, следование за кромкой невозможно
<p>ВВП.1.2.224</p>	<p>Как в соответствии с ППВВП называется частный случай расхождения, когда хотя бы одно из судов остановилось или уменьшило скорость до минимальной?</p>		<ul style="list-style-type: none"> • "Маневр" • "Обгон" • "Отстой" • "Пропуск"
<p>ВВП.1.2.225</p>	<p>Какие действия должен предпринять судоводитель маломерного судна "А", если для него становится очевидным, что судно "Б" не предпринимает соответствующих действий для избежания столкновения?</p>		<ul style="list-style-type: none"> • Запустить ракету в сторону судна "Б" • Обратить на себя внимание подачей сигналов флагомотмашкой • Подать звуковой сигнал из 5 коротких звуков


<p>ВВП.1.2.226</p>	<p>С какого борта в соответствии с ППВВП при буксировке "лагом" должно быть ошвартовано буксируемое судно по отношению к буксировщику?</p>		<ul style="list-style-type: none"> • С любого • С левого • С левого при движении вверх (против течения) • С правого
<p>ВВП.1.2.227</p>	<p>При каких условиях разрешается плавание маломерного судна при ограниченной видимости?</p>		<ul style="list-style-type: none"> • Плавание не разрешается ни при каких условиях • При наличии компаса и туманного горна • При наличии радиолокационной станции (РЛС), исправного компаса и радиостанции УКВ • При наличии исправных УКВ-радиостанции, компаса и туманного горна (сирены) и радиолокационной станции (РЛС)
<p>ВВП.1.2.228</p>	<p>При какой видимости маломерным судам запрещается выходить на судовой ход?</p>		<ul style="list-style-type: none"> • Менее 2,0 км • Менее 0,5 км • Менее 0,8 км • Менее 1,0 км





<p>ВВП.1.2.229</p>	<p>В каком случае маломерному судну разрешается останавливаться или становиться на якорь в пределах судового хода?</p>		<ul style="list-style-type: none"> • При поломке двигателя • Если впереди нет приближающихся судов • Если расстояние до кромки судового хода менее 10 м • Таких случаев не предусмотрено
<p>ВВП.1.2.230</p>	<p>Внутренние водные пути РФ. Указанный на рисунке навигационный знак – это</p>		<ul style="list-style-type: none"> • Пересечение судового хода • Внимание • Скорость ограничена • Соблюдать надводный габарит
<p>ВВП.1.2.231</p>	<p>Огонь, устанавливаемый на навигационном знаке, ограждающем правую кромку судового хода, может быть</p>		<ul style="list-style-type: none"> • Зеленый • Белый • Желтый • Красный

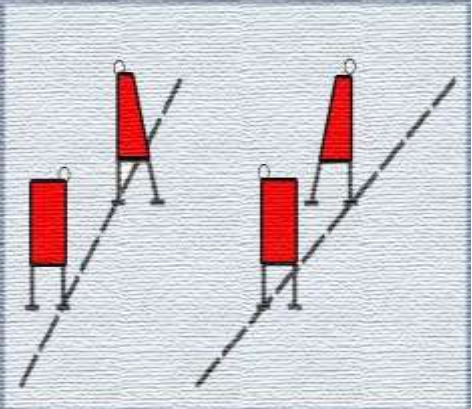



ВВП.1.2.232	Что обозначает изображенный на иллюстрации навигационный знак?		<ul style="list-style-type: none"> • Левую кромку судового хода • Правую кромку судового хода • Поворот судового хода в сторону левого берега • Поворот судового хода в сторону правого берега
ВВП.1.2.233	Что обозначает изображенный на иллюстрации навигационный знак?		<ul style="list-style-type: none"> • Поворот оси судового хода • Разделение судового хода • Свал воды на правую кромку судового хода • Свал воды на левую кромку судового хода
ВВП.1.2.234	Что обозначает изображенный на иллюстрации навигационный знак?		<ul style="list-style-type: none"> • Место оборота судов • Пост судоходной инспекции • Указатель рейда • Поворот судового хода
ВВП.1.2.235	Что обозначает изображенный на иллюстрации навигационный знак?		<ul style="list-style-type: none"> • Поворот судового хода в сторону правого берега • Левую кромку судового хода • Правую кромку судового хода • Поворот судового хода в сторону левого берега

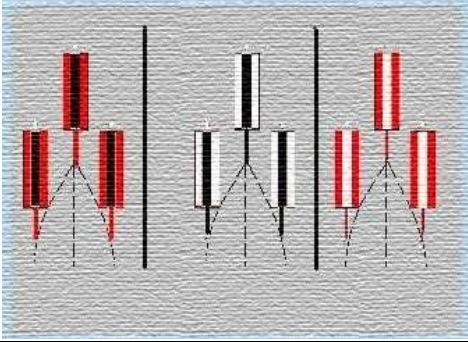


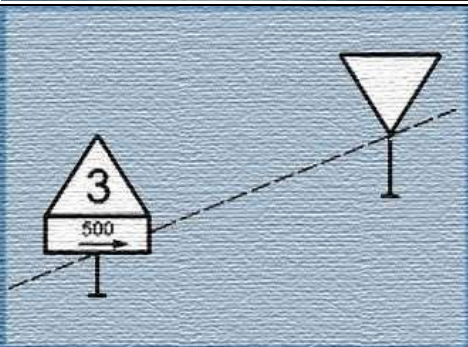
<p>ВВП.1.2.236</p>	<p>Какой навигационный знак изображен на иллюстрации?</p>		<ul style="list-style-type: none"> • Перевальный, для обозначения направления судового хода • Линейный (осевой), створный для обозначения направления оси судового хода • Ходовой, для обозначения судового хода, расположенного вдоль берега • Весенний, для обозначения затопленных берегов
<p>ВВП.1.2.237</p>	<p>Какой навигационный знак изображен на иллюстрации?</p>		<ul style="list-style-type: none"> • Ходовой, для обозначения судового хода, расположенного вдоль берега • Перевальный, для обозначения направления судового хода • Весенний, для обозначения затопленных берегов • «Ориентир» для обозначения характерных береговых мест судового хода
<p>ВВП.1.2.238</p>	<p>Какой навигационный знак изображен на иллюстрации?</p>		<ul style="list-style-type: none"> • Линейный (осевой) створный, для обозначения направления оси судового хода • Щелевой створный, для обозначения положения судового хода и его кромок • Кромочный створный, для обозначения кромок судового хода и его направления • Ходовой, для обозначения судового хода, расположенного вдоль берега

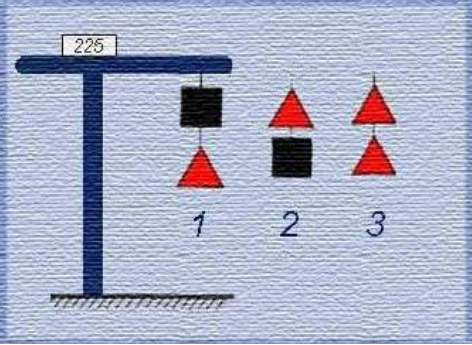


<p>ВВП.1.2.239</p>	<p>Что обозначает изображенный на иллюстрации навигационный знак?</p>		<ul style="list-style-type: none"> • Поворот судового хода в сторону левого берега • Левую кромку судового хода • Правую кромку судового хода • Поворот судового хода в сторону правого берега
<p>ВВП.1.2.240</p>	<p>Что обозначает изображенный на иллюстрации навигационный знак?</p>		<ul style="list-style-type: none"> • Якоря не бросать • Расхождение и обгон запрещены • Расхождение и обгон составов запрещены • Не создавать волнения
<p>ВВП.1.2.241</p>	<p>Что обозначает изображенный на иллюстрации навигационный знак?</p>		<ul style="list-style-type: none"> • Расхождение и обгон составов запрещены • Расхождение и обгон запрещены • Якоря не бросать • Не создавать волнения

<p>ВВП.1.2.242</p>	<p>Что обозначает изображенный на иллюстрации навигационный знак?</p>		<ul style="list-style-type: none"> • Свал воды на левую кромку судового хода • Разделение судового хода • Свал воды на правую кромку судового хода • Поворот оси судового хода
<p>ВВП.1.2.243</p>	<p>Какой навигационный знак изображен на иллюстрации?</p>		<ul style="list-style-type: none"> • «Ориентир», для обозначения характерных береговых мест судового хода • Перевальный, для обозначения направления судового хода • Весенний, для обозначения затопленных берегов • Ходовой, для обозначения судового хода, расположенного вдоль берега
<p>ВВП.1.2.244</p>	<p>Что обозначает изображенный на иллюстрации навигационный знак?</p>		<ul style="list-style-type: none"> • Не создавать волнения • Расхождение и обгон запрещены • Расхождение и обгон составов запрещены • Якоря не бросать





<p>ВВП.1.2.245</p>	<p>Что обозначает изображенный на иллюстрации навигационный знак?</p>		<ul style="list-style-type: none"> • Опасные места и навигационные препятствия у правой кромки судового хода • Левую кромку судового хода • Правую кромку судового хода • Опасные места и навигационные препятствия у левой кромки судового хода
<p>ВВП.1.2.246</p>	<p>Что обозначает изображенный на иллюстрации навигационный знак?</p>		<ul style="list-style-type: none"> • Движение мелких плавсредств запрещено • Расхождение и обгон запрещены • Расхождение и обгон составов запрещены • Не создавать волнения
<p>ВВП.1.2.247</p>	<p>Что обозначает изображенный на иллюстрации навигационный знак?</p>		<ul style="list-style-type: none"> • Пост судоходной инспекции • Место оборота судов • Указатель рейда • «Якоря не бросать»
<p>ВВП.1.2.248</p>	<p>Что обозначает изображенный на иллюстрации навигационный знак?</p>		<ul style="list-style-type: none"> • Опасные места и навигационные препятствия у левой кромки судового хода • Левую кромку судового хода • Правую кромку судового хода • Опасные места и навигационные препятствия у правой кромки судового хода

<p>ВВП.1.2.249</p>	<p>Какой навигационный знак изображен на иллюстрации?</p>		<ul style="list-style-type: none"> • Кромочный створный, для обозначения кромок судового хода и его направления • Перевальный, для обозначения направления судового хода • Линейный (осевой) створный, для обозначения направления оси судового хода • Щелевой створный, для обозначения положения судового хода и его кромок
<p>ВВП.1.2.250</p>	<p>Что обозначает изображенный на иллюстрации навигационный знак?</p>		<ul style="list-style-type: none"> • Скорость ограничена • Внимание • Пересечение судового хода • Соблюдать надводный габарит
<p>ВВП.1.2.251</p>	<p>Что обозначает изображенный на иллюстрации навигационный знак?</p>		<ul style="list-style-type: none"> • Поворот судового хода в сторону правого берега • Левую кромку судового хода • Правую кромку судового хода • Поворот судового хода в сторону левого берега
<p>ВВП.1.2.252</p>	<p>Что обозначает изображенный на иллюстрации навигационный знак?</p>		<ul style="list-style-type: none"> • Расхождение и обгон запрещены • Расхождение и обгон составов запрещены • Якоря не бросать • Не создавать волнения



<p>ВВП.1.2.253</p>	<p>Какой навигационный знак изображен на иллюстрации?</p>		<ul style="list-style-type: none"> • Щелевой створный, для обозначения положения судового хода и его кромок • Линейный (осевой) створный, для обозначения направления оси судового хода • Весенний, для обозначения затопленных берегов • Ходовой, для обозначения судового хода, расположенного вдоль берега
<p>ВВП.1.2.254</p>	<p>Что обозначает изображенный на иллюстрации навигационный знак?</p>		<ul style="list-style-type: none"> • Левую кромку судового хода • Правую кромку судового хода • Поворот судового хода в сторону левого берега • Поворот судового хода в сторону правого берега
<p>ВВП.1.2.255</p>	<p>Какой навигационный знак изображен на иллюстрации?</p>		<ul style="list-style-type: none"> • Соблюдать надводный габарит • Пересечение судового хода • Внимание • Скорость ограничена
<p>ВВП.1.2.256</p>	<p>Какой навигационный знак изображен на иллюстрации?</p>		<ul style="list-style-type: none"> • Указатель рейда • Пост судоходной инспекции • Место оборота судов • Стоянка запрещена

<p>ВВП.1.2.257</p>	<p>Какой навигационный знак изображен на иллюстрации?</p>		<ul style="list-style-type: none"> • Семафор • Сигнальная мачта • Указатель рейда • Пост судоходной инспекции
<p>ВВП.1.2.258</p>	<p>Что обозначает изображенный на иллюстрации навигационный знак?</p>		<ul style="list-style-type: none"> • Поворот судового хода в сторону левого берега • Левую кромку судового хода • Правую кромку судового хода • Поворот судового хода в сторону правого берега
<p>ВВП.1.2.259</p>	<p>Что обозначает изображенный на иллюстрации навигационный знак?</p>		<ul style="list-style-type: none"> • Поворот оси судового хода • Разделение судового хода • Свал воды на правую кромку судового хода • Свал воды на левую кромку судового хода




<p>ВВП.1.2.260</p>	<p>Что обозначает изображенный на иллюстрации навигационный знак?</p>		<ul style="list-style-type: none"> • Левую кромку судового хода • Правую кромку судового хода • Поворот судового хода в сторону левого берега • Поворот судового хода в сторону правого берега
<p>ВВП.1.2.261</p>	<p>Что обозначает изображенный на иллюстрации навигационный знак?</p>		<ul style="list-style-type: none"> • Свал воды на правую кромку судового хода • Разделение судового хода • Свал воды на левую кромку судового хода • Поворот оси судового хода
<p>ВВП.1.2.262</p>	<p>Что обозначает изображенный на иллюстрации навигационный знак?</p>		<ul style="list-style-type: none"> • Ось судового хода • Разделение судового хода • Свал воды на правую кромку судового хода • Свал воды на левую кромку судового хода




ВВП.1.2.263	Что обозначает изображенный на иллюстрации навигационный знак?		<ul style="list-style-type: none"> • Разделение судового хода • Свал воды на правую кромку судового хода • Свал воды на левую кромку судового хода • Поворот оси судового хода
ВВП.1.2.264	Что обозначает изображенный на иллюстрации навигационный знак?		<ul style="list-style-type: none"> • Разделение судового хода • Свал воды на правую кромку судового хода • Свал воды на левую кромку судового хода • Поворот оси судового хода
ВВП.1.2.265	Что обозначает изображенный на иллюстрации навигационный знак?		<ul style="list-style-type: none"> • Опасные места и навигационные препятствия у правой кромки судового хода <ul style="list-style-type: none"> • Левую кромку судового хода • Правую кромку судового хода • Опасные места и навигационные препятствия у левой кромки судового хода
ВВП.1.2.266	Что обозначает изображенный на иллюстрации навигационный знак?		<ul style="list-style-type: none"> • Внимание • Скорость ограничена • Пересечение судового хода • Соблюдать надводный габарит

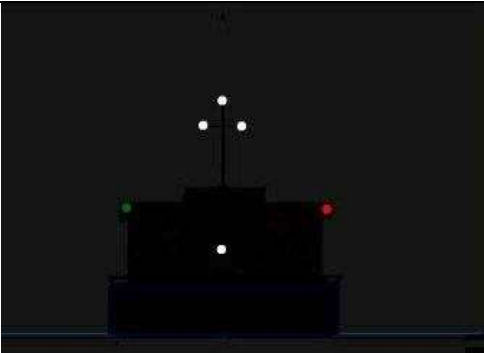


<p>ВВП.1.2.267</p>	<p>Что обозначает изображенный на иллюстрации навигационный знак?</p>		<ul style="list-style-type: none"> • Свал воды на левую кромку судового хода • Разделение судового хода • Свал воды на правую кромку судового хода • Поворот оси судового хода
<p>ВВП.1.2.268</p>	<p>Два самоходных судна, изображенные на рисунке</p>		<ul style="list-style-type: none"> • Соединены бортами, выполняют буксировку на тросе состава с опасным грузом, следуют курсом на нас • Соединены бортами, выполняют буксировку на тросе сухогрузного состава, следуют курсом на нас • Соединены бортами, выполняют буксировку на тросе плотового состава, следуют курсом на нас • Соединены бортами, следуют курсом на нас
<p>ВВП.1.2.269</p>	<p>Самоходное судно, изображенное на рисунке, следует курсом на нас и занято буксировкой на тросе</p>		<ul style="list-style-type: none"> • Сухогрузного состава • Состав с опасным грузом • Плотового состава • Смешанного состава




<p>ВВП.1.2.270</p>	<p>Любое обгоняемое судно, кроме парусного, при обгоне его другим парусным судном должно</p>		<ul style="list-style-type: none"> • Обеспечить проход обгоняющего судна с наветренной стороны • Обеспечить проход обгоняющего судна с подветренной стороны • Изменить курс и уйти с пути обгоняющего судна • Не допускать отклонения от своего пути и уменьшить
<p>ВВП.1.2.271</p>	<p>Внутренние водные пути РФ. Вы наблюдаете навигационные огни следующего курсом от нас одиночного самоходного судна</p>		<ul style="list-style-type: none"> • Шириной более 5 м • Шириной 5 м и менее • Шириной 5 м и менее, при работе на переправе • Судходного надзора, шириной 5 м и менее
<p>ВВП.1.2.272</p>	<p>Укажите тип судна</p>		<ul style="list-style-type: none"> • Самоходный дноуглубительный снаряд на ходу при заборе грунта • Судно, занятое водолазными работами • Судно, занятое протаскиванием траловых сетей или другого орудия лова рыбы • Судно судходного надзора




<p>ВВП.1.2.273</p>	<p>Если два судна идут встречными курсами таким образом, что может возникнуть опасность столкновения, то</p>		<ul style="list-style-type: none"> • Каждое судно должно изменить курс вправо с тем, чтобы они могли разойтись левыми бортами • Судно, идущее вверх, должно изменить курс вправо с тем, чтобы они могли разойтись левыми бортами • Судно, идущее вверх, должно уменьшить ход или остановиться и подать сигнал "Предупреждение" • Каждое судно должно уменьшить ход или остановиться и согласовать по радиосвязи дальнейшие действия
<p>ВВП.1.2.274</p>	<p>Если два маломерных судна идут курсами, пересекающимися таким образом, что может возникнуть опасность столкновения, то</p>		<ul style="list-style-type: none"> • Маломерные не моторные суда и суда, не идущие под парусом, должны уступить дорогу парусным судам • Парусные суда должны уступить дорогу всем другим маломерным судам • Маломерные не моторные суда и суда, не идущие под парусом, должны уступить дорогу парусным судам, находящим на правых курсовых углах • Парусные суда, должны уступить дорогу, маломерным не моторные суда и судам, не идущих под парусом, находящим на правых курсовых углах
<p>ВВП.1.2.275</p>	<p>В тех случаях, когда положениями настоящих Правил предусмотрены звуковые сигналы, маломерные суда должны подавать их</p>		<ul style="list-style-type: none"> • Посредством колокола или рожка • Криком • Свистом • Ударами гаечного ключа по релингу или мачте



<p>ВВП.1.2.276</p>	<p>Не нарушая положений Правил плавания на ВВП, судоводители должны выбрать место якорной стоянки</p>		<ul style="list-style-type: none"> • Как можно ближе к берегу, насколько это позволяют осадка и местные условия, и так, чтобы не препятствовать судоходству • Только на рейдах и в местах, указанных на карте и (или) на местностях • Как можно ближе к кромке судового хода • В конечных пунктах - на рейдах, в пути следования - в удобном месте в пределах судового хода
<p>ВВП.1.2.277</p>	<p>Вы наблюдаете навигационные огни</p>		<ul style="list-style-type: none"> • Одиночного самоходного судна (шириной более 5 м) лишенного возможности управляться, и имеет ход относительно воды, следует курсом от нас • Одиночного самоходного судна, лишенного возможности управляться, имеет ход относительно воды, следует курсом от нас • Судна (состава), лишенного возможности управляться, не имеет хода относительно воды • Буксирного состава, лишенного возможности управляться, имеет ход относительно воды, следует курсом от нас
<p>ВВП.1.2.278</p>	<p>Вы наблюдаете навигационные огни следующего курсом от нас одиночного самоходного судна</p>		<ul style="list-style-type: none"> • Шириной 5 м и менее • Шириной более 5 м • Шириной 5 м и менее, при работе на переправе • Шириной более 5 м, при работе на переправе

<p>ВВП.1.2.279</p>	<p>На рисунке изображен следующий вправо от нас буксирный состав</p>		<ul style="list-style-type: none"> • С самоходными судами, длиной более 50 м • С двумя самоходными судами • С самоходными судами, длиной менее 50 м • С одним самоходным судном
<p>ВВП.1.2.280</p>	<p>При постановке судна на якорь на судовом ходу судоводитель обязан, используя все доступные средства связи, уведомить об этом</p>		<ul style="list-style-type: none"> • Диспетчера движения судов • Участковую инспекцию судоходного надзора • Судовладельца • Диспетчера пункта назначения
<p>ВВП.1.2.281</p>	<p>При сближении с маломерными судами, маломерное судно должно</p>		<ul style="list-style-type: none"> • Заблаговременно уходить с их пути без обмена звуковыми и зрительными сигналами • Подать «отмашку», чтобы указать сторону расхождения • Согласовать сторону расхождения по УКВ радиосвязи • Подать звуковой сигнал «Предупреждение», чтобы обратить на себя внимание приближающегося судна





<p>ВВП.1.2.282</p>	<p>На рисунке вы наблюдаете навигационные огни следующего курсом на нас</p>		<ul style="list-style-type: none"> • Толкаемого сухогрузного состава с несамоходными судами, соединенными в кильватер • Толкаемого сухогрузного состава с одним несамоходным судном • Толкаемого сухогрузного состава • Толкаемого сухогрузного состава с толкачом шириной 5 м и менее
<p>ВВП.1.2.283</p>	<p>Как следует поступить в случаях, когда два судна идут пересекающимися курсами так, что возникает опасность столкновения?</p>		<ul style="list-style-type: none"> • Судно, которое имеет другое судно на своей правой стороне, должно уступить ему дорогу • Каждое из них должно изменить свой курс вправо с тем чтобы разойтись левыми бортами • По радиотелефонной связи согласовать сторону расхождения • Каждое из них должно изменить свой курс влево с тем чтобы разойтись правыми бортами
<p>ВВП.1.2.284</p>	<p>Запрещается пересечение судном полосы движения или всего судового хода</p>		<ul style="list-style-type: none"> • На расстоянии менее 1 км от приближающихся судов без согласования взаимных действий • На расстоянии менее 1 км от приближающихся судов • По носу приближающихся судов • Без предварительной подачи звукового сигнала - четыре коротких звука

<p>ВВП.1.2.285</p>	<p>В случае, когда по условиям пути маломерным судам следование в установленных границах невозможно, они могут</p>		<ul style="list-style-type: none"> • Идти по судовому ходу вдоль правой по ходу кромки в пределах до 10 м от нее • Идти по судовому ходу вдоль правой по ходу кромки в пределах до 50 м от нее • Идти по судовому ходу вдоль правой по ходу кромки в пределах от нее до 0,5 ширины полосы движения • Идти в пределах судового хода
<p>ВВП.1.2.286</p>	<p>На рисунке изображена</p>		<ul style="list-style-type: none"> • Буксировка сухогрузного состава двумя самоходными судами, соединенными в кильватер • Буксировка плотового состава двумя самоходными судами, соединенными в кильватер • Буксировка состава из двух самоходных судов с опасным грузом, соединенными в кильватер • Буксировка самоходного судна другим самоходным судном
<p>ВВП.1.2.287</p>	<p>Запрещается расхождение судов</p>		<ul style="list-style-type: none"> • В пределах 500 м выше и ниже мостов, если движение осуществляется через один пролет (кроме скоростных) • В пределах 1 км выше и ниже мостов, если движение осуществляется через один пролет (кроме скоростных) • В пределах 500 м выше и ниже мостов (кроме скоростных) • В пределах 1 км выше и ниже наплавных мостов (кроме скоростных)




<p>ВВП.1.2.288</p>	<p>При подходе к затруднительному и не просматриваемому участку судно должно</p>		<ul style="list-style-type: none"> • Сообщить о подходе по радиотелефонной связи, уменьшить ход и подать сигнал "Один продолжительный звук" • Сообщить о подходе по радиотелефонной связи, уменьшить ход и подать сигнал "Два продолжительных звука" • Объявиться о подходе по радиотелефонной связи • Объявить по радиотелефонной связи о занятии данного участка
<p>ВВП.1.2.289</p>	<p>При приближении к участкам, где расхождение запрещено</p>		<ul style="list-style-type: none"> • Судно, идущее вверх, должно остановиться в безопасном месте и пропустить судно, идущее вниз • Судно, идущее вниз, должно остановиться в безопасном месте и пропустить судно, идущее вверх • Толкаемый или буксируемый состав должен остановиться и пропустить одиночное самоходное судно • Одиночное самоходное судно должно остановиться и пропустить толкаемый или буксируемый состав
<p>ВВП.1.2.290</p>	<p>Какое судно движется курсом на нас?</p>		<ul style="list-style-type: none"> • Парусное судно длиной 20 м и более • Парусное судно длиной менее 7 м • Парусное судно длиной от 7 до 20 м • Парусно-моторное судно, идущее под мотором или парусом и мотором


<p>ВВП.1.2.291</p>	<p>В случае, когда по условиям пути или каким-либо другим причинам, пропуск по левому борту невозможно</p>		<ul style="list-style-type: none"> • Судно, идущее вверх, должно заблаговременно перейти на левую по ходу сторону в наиболее удобное место, убавить ход или остановиться и осуществить пропуск встречного судна по правому борту • Судно, идущее вниз, должно заблаговременно перейти на левую по ходу сторону в наиболее удобное место, убавить ход или остановиться и осуществить пропуск встречного судна по правому борту • Судно, идущее вверх, должно остановиться и дождаться прохождения судна, идущего вниз, в наиболее удобном месте • Допускается, как исключение, расхождение правыми бортами
<p>ВВП.1.2.292</p>	<p>Пересечение судном полосы движения или всего судового хода должно производиться</p>		<ul style="list-style-type: none"> • Под углом, близким к прямому • Под меньшим углом по отношению оси судового хода • Только под кормой судов, следующих в полосе движения • Без предварительной подачи звукового сигнала - четыре коротких звука





<p>ВВП.1.2.293</p>	<p>При расхождении судно, идущее вниз, должно</p>		<ul style="list-style-type: none"> • Принять и незамедлительно подтвердить указанную сторону расхождения (пропуска) подачей отмашки • Согласовать свои действия по радиотелефонной связи и подать отмашку с левого борта • Подать маневроуказующий звуковой сигнал и отмашку с левого борта • Подать маневроуказующий звуковой сигнал и отмашку на расхождение с соответствующего борта
<p>ВВП.1.2.294</p>	<p>Каждое судно при расхождении со встречными судами левыми бортами должно</p>		<ul style="list-style-type: none"> • Своевременно уклониться вправо, на сколько это необходимо и безопасно • Своевременно уклониться вправо • Своевременно уклониться вправо и уменьшить скорость хода
<p>ВВП.1.2.295</p>	<p>Маломерные и парусные суда могут пересекать судовой ход (полосу движения, рекомендованный курс)</p>		<ul style="list-style-type: none"> • Как правило, за кормой проходящих судов под углом, близким к прямому • За кормой проходящих судов под небольшим углом к оси судовой ход • Не ближе 500 м от проходящих судов




<p>ВВП.1.2.296</p>	<p>На рисунке изображено следующее курсом на нас самоходное судно, занятое буксировкой</p>		<ul style="list-style-type: none"> • Плотового состава на тресе • Сухогрузного состава на тресе • Состава с опасным грузом на тресе • Смешанного состава на тресе
<p>ВВП.1.2.297</p>	<p>На рисунке изображено</p>		<ul style="list-style-type: none"> • Одноичное самоходное судно с опасным грузом, длиной 50 м и более • Одноичное самоходное судно ограниченное в возможности маневрировать, длиной 50 м и более • Одноичное самоходное судно с опасным грузом, длиной менее 50 м • Одноичное самоходное судно лишенное возможности управляться
<p>ВВП.1.2.298</p>	<p>На рисунке изображено одиночное самоходное судно с опасным грузом</p>		<ul style="list-style-type: none"> • Длинной 50 м и более, следует курсом на нас • Следует курсом на нас • Длинной до 50 м, следует курсом на нас • Шириной более 5 м, следует курсом на нас
<p>ВВП.1.2.299</p>	<p>На рисунке изображено</p>		<ul style="list-style-type: none"> • Судно, занятое протаскиванием траловых сетей или другого орудия лова рыбы, идет курсом на нас • Самоходный дноуглубительный снаряд на ходу при заборе грунта, следует курсом на нас • Судно, занятое водолазными работами • Судно, занятое устранением девиации



ВВП.1.2.300	Запрещается расхождение и обгон судов		<ul style="list-style-type: none"> • В зоне расположения аварийно-ремонтных, заградительных ворот каналов • В зоне 1км от аварийно-ремонтных, заградительных ворот каналов • В зоне 500 м от аварийно-ремонтных, заградительных ворот каналов • При красном огне светофора в зоне расположения аварийно- ремонтных, заградительных ворот каналов
ВВП.1.2.301	Вы наблюдаете на рисунке		<ul style="list-style-type: none"> • Паром канатной паромной переправы на ходу • Судно, работающее на паромной переправе • Судно, занятое изыскательскими работами • Судно, занятое ловом рыбы, не имеющее хода относительно воды
ВВП.1.2.302	Когда судно, терпящее бедствие, просит о помощи, оно подает		<ul style="list-style-type: none"> • Непрерывно повторяющиеся продолжительные звуковые сигналы • Непрерывные удары в колокол • Один продолжительный звуковой сигнал • Сигнал из серии коротких звуков • Один продолжительный, один короткий и один продолжительный звуки

ВВП.1.2.303	Укажите тип судна		<ul style="list-style-type: none"> • Толкаемый состав, с толкачом шириной 5 м и менее, следует курсом от нас • Толкаемый состав, с толкачом шириной более 5 м, следует курсом от нас • Буксирный состав, шириной 5 м и менее, следует курсом от нас • Буксирный состав, шириной более 5 м, следует курсом от нас
ВВП.1.2.304	Укажите тип судна		<ul style="list-style-type: none"> • Дноуглубительный снаряд, работает на левой кромке судового хода • Дноуглубительный снаряд, работает на правой кромке судового хода • Рефулерный снаряд, работает на левой кромке судового хода • Рефулерный снаряд, работает на правой кромке судового хода
ВВП.1.2.305	Что обозначают знаки, поднятые на судне?		<ul style="list-style-type: none"> • Терпящее бедствие судно нуждается в помощи • Судно, стоящее на карантине • Судно, устраняющее девиацию • Судно, ограниченное в возможности маневрирования

<p>ВВП.1.2.306</p>	<p>Судно, когда оно намерено предупредить другое судно об опасности, должно подавать сигнал "Предупреждение", состоящее из ...</p>		<ul style="list-style-type: none"> • Серии коротких, не менее 5, звуков • Четырех коротких звуков • Серии продолжительных звуков • Продолжительного звука
<p>ВВП.1.2.307</p>	<p>На рисунке Вы наблюдаете навигационные огни судна, занятого</p>		<ul style="list-style-type: none"> • Водолазными работами • Протаскиванием траловых сетей или другого орудия лова рыбы • Подводными работами (без водолаза) • Устранением девиации
<p>ВВП.1.2.308</p>	<p>На рисунке изображено</p>		<ul style="list-style-type: none"> • Парусное судно длиной 20 м и более, следует курсом от нас • Парусное судно длиной от 7 до 20 м, следует курсом на нас • Парусное судно длиной менее 7м или гребное судно на ходу • Парусно-моторное судно, идущее под мотором или парусом и мотором, следует курсом от нас




<p>ВВП.1.2.309</p>	<p>На рисунке изображен следующий курсом влево от нас буксирный состав ...</p>		<ul style="list-style-type: none"> • С двумя несамоходными судами с нефтегрузом • С тремя несамоходными судами с нефтегрузом • С одним несамоходным судном длиной более 50 м с опасным грузом
<p>ВВП.1.2.310</p>	<p>Укажите тип судна</p>		<ul style="list-style-type: none"> • Толкаемый состав, с толкачом шириной более 5 м, следует курсом от нас • Толкаемый состав, с толкачом шириной 5 м и менее, следует курсом от нас • Буксирный состав, шириной 5 м и менее, следует курсом от нас • Буксирный состав, шириной более 5 м, следует курсом от нас
<p>ВВП.1.2.311</p>	<p>Вы наблюдаете навигационные огни следующего курсом от нас судна</p>		<ul style="list-style-type: none"> • Занятого буксировкой • Занятого буксировкой, шириной 5 м и менее • Занятого буксировкой, шириной более 5 м • Занятого буксировкой, при работе на переправе
<p>ВВП.1.2.312</p>	<p>На рисунке изображено</p>		<ul style="list-style-type: none"> • Парусное судно длиной от 7 до 20 м, следует курсом на нас • Парусное судно длиной 20 м и более, следует курсом на нас • Парусное судно длиной менее 7м или гребное судно на ходу • Парусно-моторное судно, идущее под мотором или парусом и мотором, следует курсом на нас




<p>ВВП.1.2.313</p>	<p>В случае, когда по условиям пути или каким-либо другим причинам расхождение затруднено</p>		<ul style="list-style-type: none"> • Судно, идущее вверх, должно регулировать свое движение таким образом, чтобы встреча произошла в наиболее удобном месте • Судно, идущее вниз, должно регулировать свое движение таким образом, чтобы встреча произошла в наиболее удобном месте • Судно, идущее вверх, должно встать на якорь и дожидаться прохождения судна, идущего вниз, в наиболее удобном месте • Судно, идущее вверх, должно регулировать движение своего судна и судна, идущего вниз, таким образом, чтобы встреча произошла в наиболее удобном месте
<p>ВВП.1.2.314</p>	<p>На рисунке изображено</p>		<ul style="list-style-type: none"> • Парусное судно длиной менее 7м или гребное судно на ходу • Парусно-моторное судно, идущее под мотором или парусом и мотором, следует курсом от нас • Парусное судно длиной от 7 до 20 м, следует курсом на нас • Парусное судно длиной 20 м и более, следует курсом от нас
<p>ВВП.1.2.315</p>	<p>Маломерным судам НЕ запрещается</p>		<ul style="list-style-type: none"> • Маневрировать и • останавливаться вблизи идущих или стоящих судов и в промежутках между ними • Останавливаться и становиться на якорь в пределах судового хода, а также у плавучих навигационных знаков • Выходить на судовую ход при ограниченной (менее 1км) видимости, а парусным судам, кроме того, и ночью • Движение в пролет моста, предназначенный для других судов




ВВП.1.2.316	Запрещается расхождение и обгон судов		<ul style="list-style-type: none"> • В пролете мостов • В пролете мостов, при ширине пролета менее 100 м • В пролете мостов, при ширине пролета менее 200 м • В пролете мостов, при ширине пролета менее 5 кратной суммарной ширины судов (составов)
ВВП.1.2.317	Правилами плавания по ВВП запрещается использовать для швартовки судов		<ul style="list-style-type: none"> • Парапеты, поручни, колонны, знаки судоходной обстановки и т.п • Швартовные механизмы, находящиеся в неисправном техническом состоянии • Швартовные тросы, не прошедшие испытания • Синтетические тросы, имеющие большой коэффициент растяжения




ВВП.1.3. Вопросы административной ответственности за нарушение правил плавания

No	Вопрос	Иллюстрация	Варианты ответа (правильный выделен)
ВВП.1.3.1	На какой срок задерживается маломерное судно при совершении административного правонарушения?		<ul style="list-style-type: none"> • На срок до рассмотрения дела об административном правонарушении • На срок до составления протокола об административном правонарушении • На срок до вступления постановления по делу об административном правонарушении в законную силу • На срок до устранения причины задержания




<p>ВВП.1.3.2</p>	<p>Какой срок отводится Кодексом Российской Федерации об административных правонарушениях для уплаты административного штрафа?</p>		<ul style="list-style-type: none"> • 10 суток • 20 суток • 60 суток • 30 суток
<p>ВВП.1.3.3</p>	<p>Какое административное наказание предусматривается за нарушение лицом, управляющим маломерным судном, правил маневрирования?</p>		<ul style="list-style-type: none"> • Административный штраф • Предупреждение • Предупреждение либо административный штраф • Предупреждение, либо административный штраф, либо лишение права управления маломерным судном на срок до шести месяцев
<p>ВВП.1.3.4</p>	<p>Какое административное наказание предусмотрено за управление маломерным судном, не зарегистрированным в установленном порядке?</p>		<ul style="list-style-type: none"> • Предупреждение • Предупреждение либо административный штраф • Предупреждение, либо административный штраф, либо лишение права управления маломерным судном • Административный штраф




<p>ВВП.1.3.5</p>	<p>Какое административное наказание предусматривается за несоблюдение лицом, управляющим маломерным судном, установленной скорости?</p>		<ul style="list-style-type: none"> • Административный штраф • Предупреждение • Предупреждение либо административный штраф • Предупреждение, либо административный штраф, либо лишение права управления маломерным судном на срок до шести месяцев
<p>ВВП.1.3.6</p>	<p>Какое административное наказание предусматривается за управление маломерным судном, судоводителем, не имеющем при себе судового билета?</p>		<ul style="list-style-type: none"> • Предупреждение • Предупреждение либо административный штраф • Предупреждение, либо административный штраф, либо лишение права управления маломерным судном на срок до шести месяцев • Административный штраф
<p>ВВП.1.3.7</p>	<p>Какое административное наказание предусмотрено за управление маломерным судном судоводителем или иным лицом, находящимся в состоянии опьянения?</p>		<ul style="list-style-type: none"> • Лишение прав управления маломерным судном • Предупреждение • Штраф • Штраф или лишение прав управления маломерным судном




<p>ВВП.1.3.8</p>	<p>Какое административное наказание предусматривается за несоблюдение лицом, управляющим маломерным судном, требований навигационных знаков?</p>		<ul style="list-style-type: none"> • Административный штраф • Лишение права управления маломерным судном на срок до шести месяцев • Предупреждение • Одно из перечисленных
<p>ВВП.1.3.9</p>	<p>Какое административное наказание лица, управляющего маломерным судном, предусматривается за преднамеренную остановку или стоянку судна в запрещенных местах?</p>		<ul style="list-style-type: none"> • Административный штраф • Предупреждение • Предупреждение либо административный штраф • Предупреждение, либо административный штраф, либо лишение права управления маломерным судном на срок до шести месяцев
<p>ВВП.1.3.10</p>	<p>В течение какого срока гражданин, в отношении которого вынесено административное наказание, имеет право обжаловать постановление по делу об административном правонарушении?</p>		<ul style="list-style-type: none"> • 5 суток • 20 суток • 15 суток • 10 суток



<p>ВВП.1.3.11</p>	<p>В течение какого срока собственник маломерного судна обязан сообщить в орган государственной регистрации судна о любом изменении сведений, внесенных в реестр маломерных судов?</p>		<ul style="list-style-type: none"> • В течение недели • В течение месяца • В течение трех недель • В течение двух недель
<p>ВВП.1.3.12</p>	<p>Кем выносится постановление о лишении права управления маломерным судном?</p>		<ul style="list-style-type: none"> • Главным государственным инспектором по маломерным судам • Государственным инспектором по маломерным судам • Прокурором • Судьей
<p>ВВП.1.3.13</p>	<p>Какое административное наказание предусмотрено за превышение установленной скорости?</p>		<ul style="list-style-type: none"> • Лишение права управления • Предупреждение • Штраф • Предупреждение или штраф, или лишение права управления




<p>ВВП.1.3.14</p>	<p>Какое административное наказание предусматривается за нарушение правил маневрирования?</p>		<ul style="list-style-type: none"> • Административный штраф • Лишение прав управления маломерным судном • Предупреждение • Одно из перечисленных
<p>ВВП.1.3.15</p>	<p>Какое административное наказание предусмотрено за управление маломерным судном, не несущим бортовых номеров?</p>		<ul style="list-style-type: none"> • Лишение права управления • Предупреждение или штраф • Предупреждение или штраф, или лишение права управления • Штраф
<p>ВВП.1.3.16</p>	<p>Какое административное наказание предусмотрено за преднамеренную остановку маломерного судна в запрещенном месте?</p>		<ul style="list-style-type: none"> • Лишение права управления • Предупреждение • Штраф • Предупреждение или штраф, или лишение права управления


<p>ВВП.1.3.17</p>	<p>При совершении административного правонарушения, влекущего задержание маломерного судна, оно задерживается на время:</p>		<ul style="list-style-type: none"> • До составления протокола об административном правонарушении • До вынесения постановления по делу об административном правонарушении • До исполнения постановления по делу об административном правонарушении • До устранения причины задержания
<p>ВВП.1.3.18</p>	<p>Какое административное наказание предусмотрено за передачу управления маломерным судном лицу, не имеющему на это права?</p>		<ul style="list-style-type: none"> • Лишение права управления • Предупреждение • Предупреждение или штраф • Штраф
<p>ВВП.1.3.19</p>	<p>Какое административное наказание предусмотрено за управление маломерным судном с нарушением ограничений по району плавания?</p>		<ul style="list-style-type: none"> • Предупреждение • Предупреждение или штраф, или лишение права управления • Штраф или лишение права управления • Штраф

<p>ВВП.1.3.20</p>	<p>Какое административное наказание предусмотрено за несоблюдение лицом, управляющим маломерным судном, установленной скорости?</p>		<ul style="list-style-type: none"> • Административный штраф • Предупреждение • Предупреждение либо административный штраф • Предупреждение, либо административный штраф, либо лишение права управления маломерным судном на срок до шести месяцев
<p>ВВП.1.3.21</p>	<p>Какой срок отводится Кодексом Российской Федерации об административных правонарушениях для уплаты административного штрафа?</p>		<ul style="list-style-type: none"> • 10 суток • 20 суток • 40 суток • 60 суток
<p>ВВП.1.3.22</p>	<p>Какое административное наказание предусмотрено за управление маломерным судном с нарушением ограничений по условиям плавания?</p>		<ul style="list-style-type: none"> • Лишение права управления • Предупреждение или штраф • Предупреждение или штраф, или лишение права управления • Штраф

<p>ВВП.1.3.23</p>	<p>Какое административное наказание предусмотрено за управление маломерным судном, не прошедшим технического освидетельствования?</p>		<ul style="list-style-type: none"> • Лишение права управления • Предупреждение • Предупреждение или штраф, или лишение права управления • Штраф
<p>ВВП.1.3.24</p>	<p>Какое административное наказание предусмотрено за преднамеренную остановку или стоянку маломерного судна под судоходным пролетом моста?</p>		<ul style="list-style-type: none"> • Наказание не предусмотрено • Предупреждение или штраф • Штраф • Предупреждение или штраф, или лишение права управления
<p>ВВП.1.3.25</p>	<p>Какое административное наказание предусматривается за несоблюдение лицом, управляющим маломерным судном, требований навигационных знаков?</p>		<ul style="list-style-type: none"> • Административный штраф • Лишение права управления маломерным судном • Предупреждение • Одно из вышеперечисленных


<p>ВВП.1.3.26</p>	<p>В течение какого времени судоводитель имеет право обжаловать постановление по делу об административном правонарушении со дня получения копии постановления?</p>		<ul style="list-style-type: none"> • Двух недель • Одного месяца • Пяти дней • Десяти дней
<p>ВВП.1.3.27</p>	<p>За какое из перечисленных нарушений государственный инспектор по маломерным судам имеет право задержать маломерное судно и поместить его на специализированную стоянку для хранения?</p>		<ul style="list-style-type: none"> • За нарушение правил маневрирования • За превышение установленной скорости • За передачу управления судном лицу, не имеющему права управления • За управление судном в состоянии опьянения
<p>ВВП.1.3.28</p>	<p>За какое из перечисленных нарушений государственный инспектор по маломерным судам имеет право отстранить судоводителя от управления и поместить маломерное судно на стоянку и хранение?</p>		<ul style="list-style-type: none"> • За нарушение правил погрузки и разгрузки маломерных судов • За управление судном, не прошедшим технического освидетельствования • За нарушение правил обеспечения безопасности пассажиров в пути следования • За управление маломерным судном без удостоверения на право управления, судового билета или его копии, заверенной в установленном порядке




<p>ВВП.1.3.29</p>	<p>Какое административное наказание предусмотрено за эксплуатацию маломерного судна, у которого содержание загрязняющих веществ в выбросах превышает установленные государственными стандартами нормативы?</p>		<ul style="list-style-type: none"> • Наказания не предусмотрено • Лишение права управления • Предупреждение или штраф • Штраф
<p>ВВП.1.3.30</p>	<p>Какое административное наказание предусмотрено за утерю или утрату судового билета маломерного судна?</p>		<ul style="list-style-type: none"> • Предупреждение • Предупреждение или штраф • Штраф • Наказание не предусмотрено
<p>ВВП.1.3.31</p>	<p>Какое административное наказание предусмотрено за преднамеренную остановку или стоянку судна в запрещенных местах?</p>		<ul style="list-style-type: none"> • Административный штраф • Предупреждение • Предупреждение либо административный штраф • Предупреждение, либо административный штраф, либо лишение права управления маломерным судном на срок до шести месяцев




<p>ВВП.1.3.32</p>	<p>Какое административное наказание предусмотрено за утерю или утрату удостоверения на право управления маломерным судном?</p>		<ul style="list-style-type: none"> • Предупреждение • Предупреждение или штраф • Штраф • Наказание не предусмотрено
<p>ВВП.1.3.33</p>	<p>Какое административное наказание предусматривается за управление маломерным судном, не зарегистрированным в установленном порядке?</p>		<ul style="list-style-type: none"> • Предупреждение • Предупреждение либо административный штраф • Предупреждение, либо административный штраф, либо лишение права управления маломерным судном • Административный штраф
<p>ВВП.1.3.34</p>	<p>Какое административное наказание предусмотрено за управление судном судоводителем или иным лицом, находящимся в состоянии опьянения?</p>		<ul style="list-style-type: none"> • Лишение права управления маломерным судном • Предупреждение • Штраф • Штраф или лишение прав управления маломерным судном




ВВП.1.3.35	Какое административное наказание предусмотрено за передачу управления маломерным судном лицу, не имеющему при себе удостоверения на право управления маломерным судном?		<ul style="list-style-type: none"> • Наказание не предусмотрено • Предупреждение • Штраф • Предупреждение или штраф
ВВП.1.3.36	Какое административное наказание предусмотрено за управление маломерным судном судоводителю, не имеющему при себе судового билета маломерного судна или его копии, заверенной в установленном порядке, а равно документов, подтверждающих право владения, пользования или распоряжения управляемым им судном в отсутствие владельца?		<ul style="list-style-type: none"> • Наказание не предусмотрено • Предупреждение • Штраф • Предупреждение или штраф




ВВП.1.4. Вопросы эксплуатации маломерных судов и управления ими

№	Вопрос	Иллюстрация	Варианты ответа (правильный выделен)
ВВП.1.4.1	При каком условии можно перевозить на маломерном судне детей дошкольного возраста?		<ul style="list-style-type: none"> • В сопровождении взрослого, не связанного с управлением гидроцикла • При наличии одетого на ребенка спасательного жилета • Если ребенок умеет плавать • Нельзя ни при каких условиях



<p>ВВП.1.4.2</p>	<p>При каком условии маломерному судну можно заходить и маневрировать на акватории пляжей?</p>		<ul style="list-style-type: none"> • Только на самом малом ходу • Только для высадки на берег пассажиров • Если в непосредственной близости от судна нет купающихся людей • Ни при каких условиях
<p>ВВП.1.4.3</p>	<p>Кто допускается к управлению маломерным судном?</p>		<ul style="list-style-type: none"> • Лицо, имеющее действительный диплом на право занятия судоводительской должности • Лицо, имеющее справку об окончании курсов подготовки судоводителей маломерных судов • Любой совершеннолетний гражданин Российской Федерации • Лицо, имеющее действующее удостоверение на право управления маломерным судном
<p>ВВП.1.4.4</p>	<p>Какой из маневров на моторной лодке "А" является наиболее эффективным, чтобы уступить дорогу катеру "Б"?</p>		<ul style="list-style-type: none"> • Сделать оборот через левый борт • Повернуть влево на 10 град • Повернуть вправо на 10 град • Уменьшить скорость и повернуть под корму катера "Б"

<p>ВВП.1.4.5</p>	<p>Какому из маломерных судов должно уступить дорогу маломерное судно "А"?</p>		<ul style="list-style-type: none"> • В • Обоим судам • Ни одному из судов • Б
<p>ВВП.1.4.6</p>	<p>Какому из маломерных судов должно уступить дорогу маломерное судно "Б"?</p>		<ul style="list-style-type: none"> • Б • А и В • Никакому • В
<p>ВВП.1.4.7</p>	<p>В каких случаях моторное маломерное судно должно уступить дорогу гребной лодке?</p>		<ul style="list-style-type: none"> • Если гребная лодка находится слева • Если гребная лодка находится справа • Если гребная лодка находится по курсу • Во всех случаях


<p>ВВП.1.4.8</p>	<p>Какие действия должен предпринять судоводитель маломерного судна "А" для безопасного расхождения?</p>		<ul style="list-style-type: none"> • Застопорить ход и остановиться • Изменить курс влево • Следовать прежним курсом • Изменить курс вправо
<p>ВВП.1.4.9</p>	<p>Какие действия должны предпринять судоводители маломерных моторных судов "А" и "Б" для безопасного расхождения при встречном движении (плавании)?</p>		<ul style="list-style-type: none"> • Должны изменить курс влево • "А" должен повернуть вправо, а "Б" - влево • "А" должен повернуть влево, а "Б" - вправо • Должны изменить курс вправо
<p>ВВП.1.4.10</p>	<p>Как должны расходиться изображенные на иллюстрации суда?</p>		<ul style="list-style-type: none"> • Катер "А" должен уступить дорогу "Б" • Парусно-моторное судно "Б" должно уступить дорогу "А" • Правыми бортами • Левыми бортами

<p>ВВП.1.4.11</p>	<p>В каком из перечисленных случаев маломерному судну разрешается маневрировать на акватории пляжа?</p>		<ul style="list-style-type: none"> • Только на самом малом ходу • Только с принятием всех необходимых мер предосторожности • Если в непосредственной близости от судна нет купающихся людей • Ни в одном из перечисленных случаев не разрешается
<p>ВВП.1.4.12</p>	<p>В чьи обязанности входит проведение инструктажа пассажиров по правилам поведения на маломерном судне во время плавания?</p>		<ul style="list-style-type: none"> • Государственного инспектора по маломерным судам • Должностного лица базы (сооружения) для стоянки маломерных судов • Судовладельца • Судоводителя
<p>ВВП.1.4.13</p>	<p>Какие документы во время плавания должен иметь при себе судоводитель моторного маломерного судна, если он сам управляет этим судном?</p>		<ul style="list-style-type: none"> • Удостоверение на право управления • Акт технического освидетельствования • Судовой билет (или его копию) • Судовой билет (или его заверенную копию) и удостоверение на право управления

<p>ВВП.1.4.14</p>	<p>Какие документы во время плавания должен иметь при себе судоводитель маломерного судна, если он не является владельцем этого судна?</p>		<ul style="list-style-type: none"> • Удостоверение на право управления и акт технического освидетельствования • Судовой билет и документ на право пользования судном • Судовой билет (или его копию) и удостоверение на право управления • Судовой билет (или его заверенную копию), удостоверение на право управления и документ на право пользования судном
<p>ВВП.1.4.15</p>	<p>При каких условиях разрешается пересадка людей с одного судна на другое во время движения?</p>		<ul style="list-style-type: none"> • При отсутствии ветра и волнения • При отсутствии ветра и волнения с обязательно надетым на пересаживаемого человека спасательным жилетом • Если по условиям плавания нет возможности остановить суда • Пересадка во время движения запрещена во всех случаях
<p>ВВП.1.4.16</p>	<p>При наличии какой из перечисленных неисправностей пользование маломерным судном запрещается?</p>		<ul style="list-style-type: none"> • Наличие вибрации • Наличие утечек топлива • Повреждение системы дистанционного управления двигателем • При любой из перечисленных

<p>ВВП.1.4.17</p>	<p>При наличии какой из перечисленных неисправностей пользование маломерным судном запрещается?</p>		<ul style="list-style-type: none"> • Ненадежное крепление кнехтов • При любой из перечисленных • Отсутствие или неисправность ленточного или винтового стопора для удержания якорной цепи • Разгерметизация гермоотсеков или воздушных ящиков
<p>ВВП.1.4.18</p>	<p>При наличии какой из перечисленных неисправностей пользование маломерным судном запрещается?</p>		<ul style="list-style-type: none"> • Наличие вибрации • Разгерметизация воздушных ящиков • Несоответствие нормам комплектации и оборудования судна, указанным в судовом билете • При любой из перечисленных
<p>ВВП.1.4.19</p>	<p>При наличии какой из перечисленных неисправностей пользование маломерным судном запрещается?</p>		<ul style="list-style-type: none"> • Повреждение леерного ограждения • При любой из перечисленных • Отсутствие или неисправность ленточного или винтового стопора для удержания якорной цепи • Неисправность отличительных (бортовых) огней

<p>ВВП.1.4.20</p>	<p>При наличии какой из перечисленных неисправностей пользование маломерным судном запрещается?</p>		<ul style="list-style-type: none"> • Ненадежное крепление планширя • При любой из перечисленных • Отсутствие или неисправность штормовых портиков в фальшборте • Отсутствие или неисправность глушителя
<p>ВВП.1.4.21</p>	<p>При наличии какой из перечисленных неисправностей пользование маломерным судном запрещается?</p>		<ul style="list-style-type: none"> • Наличие сквозных пробоин корпуса судна выше ватерлинии • Несоответствие отличительных (бортовых) огней установленным требованиям • Неисправность блокировки запуска двигателя (мотора) при включении реверса • При любой из перечисленных
<p>ВВП.1.4.22</p>	<p>Какой орган может отменить право собственности на маломерное судно, зарегистрированное в реестре маломерных судов?</p>		<ul style="list-style-type: none"> • Прокуратура • Прокуратура или суд • Вышестоящий орган ГИМС • Суд

<p>ВВП.1.4.23</p>	<p>В течение какого срока действует удостоверение на право управления маломерным судном с момента его выдачи?</p>		<ul style="list-style-type: none"> • 5 лет • 15 лет • Бессрочно • 10 лет
<p>ВВП.1.4.24</p>	<p>Как должно осуществляться маневрирование маломерных судов при расхождении на водных объектах, не имеющих навигационной обстановки?</p>		<ul style="list-style-type: none"> • С учетом направления течения • С учетом левостороннего движения • Порядок расхождения не установлен • С учетом правостороннего движения
<p>ВВП.1.4.25</p>	<p>Какие из перечисленных документов судоводители маломерных судов обязаны предъявлять для проверки государственному инспектору по маломерным судам?</p>		<ul style="list-style-type: none"> • Удостоверение на право управления • Документ на право пользования судном при отсутствии на борту собственника или владельца судна • Судовой билет или его заверенную копию • Все перечисленные