
















**МТ.1.1. Международные (только для морских прибрежных вод до 20 миль от берега) и нормативные правовые акты Российской Федерации, регулирующие безопасность мореплавания**




№	Вопрос	Иллюстрация	Варианты ответа (правильный выделен)
МТ.1.1.1	<p>Что означает сигнал - горизонтальное движение флагом - отмашкой, подаваемый с патрульного судна ГИМС?</p>		<ul style="list-style-type: none"> <li>• "Подойдите к моему борту"</li> <li>• "Прошу лечь на обратный курс"</li> <li>• "Проходите по борту со стороны отмашки"</li> <li>• "Прошу остановить судно"</li> </ul>
МТ.1.1.2	<p>Какое движение флага-отмашки днем означает сигнал "Прошу остановиться"?</p>		<ul style="list-style-type: none"> <li>• Вертикальное</li> <li>• Вращательное</li> <li>• Любое</li> <li>• Горизонтальное</li> </ul>
МТ.1.1.3	<p>При какой мощности подвесного лодочного мотора (двигателя) маломерное судно массой более 200 кг подлежит государственной регистрации?</p>		<ul style="list-style-type: none"> <li>• Более 3,68 кВт</li> <li>• Более 5 кВт</li> <li>• Более 8 кВт</li> <li>• Более 10 кВт</li> </ul>




<p>МТ.1.1.4</p>	<p>В каком из перечисленных случаев государственный инспектор по маломерным судам имеет право использовать суда, принадлежащие гражданам?</p>		<ul style="list-style-type: none"> <li>• Для следования к месту работы</li> <li>• Для транспортировки судна нарушителя</li> <li>• Для доставки нарушителей на медицинское обследование</li> <li>• Для доставки в лечебные учреждения пострадавших людей</li> </ul>
<p>МТ.1.1.5</p>	<p>В течение какого срока собственник маломерного судна обязан сообщить в орган государственной регистрации судна о любом изменении сведений, внесенных в судовую книгу?</p>		<ul style="list-style-type: none"> <li>• В течение недели</li> <li>• В течение месяца</li> <li>• В течение трех недель</li> <li>• В течение двух недель</li> </ul>
<p>МТ.1.1.6</p>	<p>Какова периодичность проведения очередного освидетельствования маломерного судна?</p>		<ul style="list-style-type: none"> <li>• Один раз в 5 лет</li> <li>• Один раз в 2 года</li> <li>• Один раз в 3 года</li> <li>• Ежегодно</li> </ul>


<p>МТ.1.1.7</p>	<p>Какие первоначальные действия должен осуществлять инспектор по маломерным судам при подходе к остановленному судну?</p>		<ul style="list-style-type: none"> <li>• Представиться судоводителю и объявить причину остановки судна</li> <li>• Представиться судоводителю и информировать его о правах и обязанностях</li> <li>• Представиться судоводителю и потребовать от него судовые и судоводительские документы</li> <li>• Представиться судоводителю, предъявить служебное удостоверение, потребовать у судоводителя удостоверение на право управления, судовой билет и объявить причину остановки судна</li> </ul>
<p>МТ.1.1.8</p>	<p>Через сколько дней заявитель, показавший неудовлетворительный результат при проверке теоретических знаний при аттестации на право управления маломерным судном, может быть повторно допущен к проверке теоретических знаний?</p>		<ul style="list-style-type: none"> <li>• Такой срок не установлен</li> <li>• Через 3 дня</li> <li>• Через 5 дней</li> <li>• Через 7 дней</li> </ul>
<p>МТ.1.1.9</p>	<p>Какой документ, выдаваемый собственнику маломерного судна, подтверждает право плавания под Государственным флагом Российской Федерации?</p>		<ul style="list-style-type: none"> <li>• Удостоверение на право управления маломерными судами</li> <li>• Технический талон</li> <li>• Акт технического освидетельствования</li> <li>• Судовой билет</li> </ul>

<p>МТ.1.1.10</p>	<p>В присутствии какого лица осуществляется доступ судоводителя (судовладельца) к маломерному судну, задержанному и находящемуся на специализированной стоянке?</p>		<ul style="list-style-type: none"> <li>• Государственного инспектора по маломерным судам</li> <li>• Представителя милиции</li> <li>• Представителя прокуратуры</li> <li>• Лица, ответственного за хранение судна</li> </ul>
<p>МТ.1.1.11</p>	<p>Сколько метров составляет ширина береговой полосы водных объектов общего пользования?</p>		<ul style="list-style-type: none"> <li>• 10 м</li> <li>• 30 м</li> <li>• 50 м</li> <li>• 20 м</li> </ul>
<p>МТ.1.1.12</p>	<p>На какие органы (организации) Водным кодексом РФ возложены обязанности об информировании жителей в случае введения запрета (ограничения) на использование маломерных судов на водных объектах общего пользования?</p>		<ul style="list-style-type: none"> <li>• На ВОСВОД</li> <li>• На инспекторские подразделения</li> <li>• ГИМС</li> <li>• На территориальные органы МЧС России</li> <li>• На органы местного самоуправления</li> </ul>




<p>МТ.1.1.13</p>	<p>Что является Государственной границей Российской Федерации на море?</p>		<ul style="list-style-type: none"> <li>• Внешняя граница прилежащей зоны Российской Федерации</li> <li>• Внешняя граница внутренних морских вод Российской Федерации</li> <li>• Внешняя граница исключительной экономической зоны Российской Федерации</li> <li>• Внешняя граница территориального моря Российской Федерации</li> </ul>
<p>МТ.1.1.14</p>	<p>Может ли судно сменить свой флаг во время плавания или стоянки при заходе в порт?</p>		<ul style="list-style-type: none"> <li>• Не может ни при каких обстоятельствах</li> <li>• Может, если плавает в водах другого государства</li> <li>• Может после прибытия на борт портовых властей другого государства</li> <li>• Может в случае, если оно в установленном порядке исключено из судового реестра одного государства и зарегистрировано в судовом реестре другого государства</li> </ul>
<p>МТ.1.1.15</p>	<p>С какого момента приобретенное (построенное) маломерное судно приобретает право плавания под Государственным флагом Российской Федерации?</p>		<ul style="list-style-type: none"> <li>• С окончанием постройки</li> <li>• С выходом за пределы территориального моря</li> <li>• После прохождения первичного технического освидетельствования</li> <li>• После государственной регистрации</li> </ul>




<p>МТ.1.1.16</p>	<p>Кто принимает решение об установлении запретных для плавания районов в пределах территориального моря, в которых полностью запрещается или временно ограничивается плавание, и где об этом объявляется?</p>		<ul style="list-style-type: none"> <li>• Министерство обороны РФ; объявляется в Морском сборнике.</li> <li>• Министерство обороны РФ; объявляется в секретных документах.</li> <li>• Правительство РФ; объявляется в Собрании законодательства РФ.</li> <li>• Правительство РФ; объявляется в Извещениях мореплавателям.</li> </ul>
<p>МТ.1.1.17</p>	<p>Кто принимает решение об установлении временно опасных для плавания районов в пределах территориального моря, в которых полностью запрещается или временно ограничивается плавание (постановка на якорь) и где об этом объявляется?</p>		<ul style="list-style-type: none"> <li>• МЧС России; объявляется в Извещениях мореплавателям и НАВИМ.</li> <li>• Министерство обороны РФ; объявляется в Морском сборнике.</li> <li>• Правительство РФ; объявляется в Собрании законодательства РФ.</li> <li>• Министерство обороны РФ; объявляется в Извещениях мореплавателям и НАВИМ.</li> </ul>
<p>МТ.1.1.18</p>	<p>Выберите правильное определение понятия «район плавания маломерного судна»</p>		<ul style="list-style-type: none"> <li>• район, по которому произведена предварительная прокладка перехода;</li> <li>• район, в котором фактически находится маломерное судно;</li> <li>• акватория, на которой допускается использование маломерного судна в соответствии с его техническими и конструктивными характеристиками;</li> <li>• акватория, в которой осуществляют плавание маломерные суда</li> </ul>




<p>МТ.1.1.19</p>	<p>Каким международным документом регулируется безопасность судоходства маломерных судов во внутренних морских водах и территориальном море Российской Федерации, в морских прибрежных водах до 20 миль от берега</p>		<ul style="list-style-type: none"> <li>• Международными правилами предупреждения столкновений судов в море;</li> <li>• Международным кодексом по охране судов и портовых средств;</li> <li>• Международной конвенцией по подготовке и дипломированию моряков и несению вахты;</li> <li>• Международной конвенцией по охране человеческой жизни на море.</li> </ul>
<p>МТ.1.1.20</p>	<p>Какова длина морской мили?</p>		<ul style="list-style-type: none"> <li>• 1852 м;</li> <li>• 1609 м;</li> <li>• 1000 м;</li> <li>• 5556 м.</li> </ul>
<p>МТ.1.1.21</p>	<p>Отметьте, какая единица применяется для измерения скорости морского судна?</p>		<ul style="list-style-type: none"> <li>• м/сек;</li> <li>• км/час;</li> <li>• узел;</li> <li>• кабельтов.</li> </ul>




МТ.1.1.22	Отметьте правильное значение термина «кабельтов».		<ul style="list-style-type: none"><li>• одна десятая часть морской мили;</li><li>• морской узел;</li><li>• кабель для подачи на судно электроэнергии с берега;</li><li>• элемент парусного вооружения.</li></ul>
МТ.1.1.23	Какому из перечисленных судов должно уступить дорогу парусное судно на ходу?		<ul style="list-style-type: none"><li>• судну, лишенному возможности управляться;</li><li>• судну с механическим двигателем;</li><li>• гидросамолету;</li><li>• всем перечисленным.</li></ul>
МТ.1.1.24	Какому из перечисленных судов должно уступить дорогу парусное судно на ходу?		<ul style="list-style-type: none"><li>• судну, лишенному возможности управляться;</li><li>• судну, ограниченному в возможности маневрировать;</li><li>• судну, занятому ловом рыбы;</li><li>• всем перечисленным.</li></ul>



<p>MT.1.1.25</p>	<p>При плавании по системе разделения движения, какое из перечисленных судов может использовать зону прибрежного плавания?</p>		<ul style="list-style-type: none"> <li>• суда длиной менее 20 м;</li> <li>• парусные суда;</li> <li>• суда, занятые ловом рыбы;</li> <li>• все перечисленные.</li> </ul>
<p>MT.1.1.26</p>	<p>Какое из перечисленных судов подпадает под действие термина судно "на ходу"?</p>		<ul style="list-style-type: none"> <li>• судно стоит на якоре</li> <li>• судно отшвартовано к берегу</li> <li>• судно стоит на мели</li> <li>• судно остановилось и не имеет хода относительно воды</li> </ul>
<p>MT.1.1.27</p>	<p>Отметьте правильное определение понятия «маломерное судно»</p>		<ul style="list-style-type: none"> <li>• судно, длина которого не должна превышать 18 метров и общее количество людей на котором не должно превышать 10</li> <li>• судно, длина которого не должна превышать 20 метров и общее количество людей на котором не должно превышать 12</li> <li>• судно, длина которого не должна превышать 24 метра и общее количество людей на котором не должно превышать 12</li> <li>• судно, длина которого не должна превышать 24 метра и общее количество людей на котором не должно превышать 14</li> </ul>

<p>MT.1.1.28</p>	<p>Отметьте правильное определение понятия «маломерное моторное судно»</p>		<ul style="list-style-type: none"> <li>• маломерное судно, использующее в качестве основного средства движения подвесной мотор</li> <li>• маломерное судно, использующее в качестве основного средства стационарный двигатель</li> <li>• маломерное судно, использующее в качестве движителя гребной винт</li> <li>• маломерное судно, использующее в качестве основного средства движения механический двигатель</li> </ul>
<p>MT.1.1.29</p>	<p>Отметьте правильное определение понятия «маломерное парусное судно»</p>		<ul style="list-style-type: none"> <li>• маломерное судно, использующее в качестве основного средства движения силу ветра</li> <li>• маломерное судно, использующее в качестве движителя парус</li> <li>• маломерное судно, оснащенное парусами</li> <li>• маломерное судно, использующее в качестве единственного средства движения парус</li> </ul>
<p>MT.1.1.30</p>	<p>Отметьте правильное определение понятия судоводитель (капитан) маломерного судна</p>		<ul style="list-style-type: none"> <li>• лицо, управляющее маломерным судном</li> <li>• лицо, управляющее маломерным судном и имеющее необходимую для этого квалификацию</li> <li>• лицо, управляющее маломерным судном и являющееся собственником судна</li> <li>• лицо, управляющее маломерным судном по поручению судовладельца</li> </ul>




<p>МТ.1.1.31</p>	<p>Отметьте правильное определения понятия «пассажир маломерного судна»</p>		<ul style="list-style-type: none"> <li>• любое лицо на борту маломерного судна</li> <li>• любое лицо на борту маломерного судна, имеющее проездной билет</li> <li>• любое лицо на борту маломерного судна, не являющееся членом экипажа судна</li> <li>• любое лицо на борту маломерного судна, находящееся там с разрешения судоводителя (капитана)</li> </ul>
<p>МТ.1.1.32</p>	<p>Отметьте правильное определения понятия «судоходство маломерных судов»</p>		<ul style="list-style-type: none"> <li>• движение маломерных судов по водной акватории</li> <li>• движение маломерных судов по водной акватории, на которой разрешено использование маломерного судна</li> <li>• деятельность, связанная с использованием маломерных судов исключительно для производственных целей</li> <li>• деятельность, связанная с использованием маломерных судов для отдыха, туризма, а также культурных, спортивных, производственных, развлекательных и иных целей</li> </ul>
<p>МТ.1.1.33</p>	<p>На какой срок выдается свидетельство о классификации маломерного судна после его постройки и (или) освидетельствования?</p>		<ul style="list-style-type: none"> <li>• на 1 год</li> <li>• на 5 лет</li> <li>• на 10 лет</li> <li>• бессрочно</li> </ul>

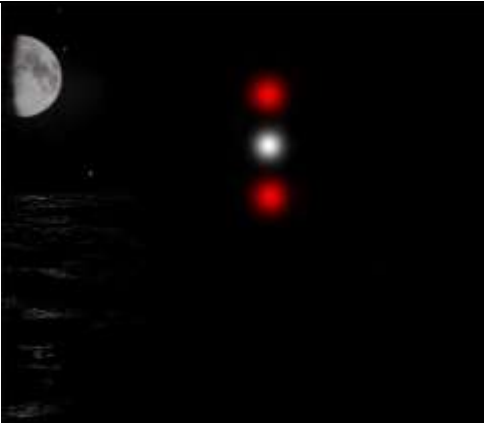


<p>MT.1.1.34</p>	<p>Отметьте правильное определение состояния защищённости маломерных судов, находящихся на водных объектах, от аварий и происшествий.</p>		<ul style="list-style-type: none"> <li>• Безопасность судоходства маломерных судов</li> <li>• Безопасность маломерных судов</li> <li>• Безопасность на водных объектах</li> <li>• Безаварийное судоходство</li> </ul>
<p>MT.1.1.35</p>	<p>Что из перечисленного НЕ является основанием прекращения действия права на управление маломерным судном?</p>		<ul style="list-style-type: none"> <li>• истечение установленного срока действия удостоверения на право управления маломерным судном</li> <li>• ухудшение здоровья судоводителя, препятствующее безопасному управлению маломерным судном, подтвержденное медицинским заключением</li> <li>• лишение права на управление маломерным судном</li> <li>• утеря удостоверения на право управления маломерным судном</li> </ul>
<p>MT.1.1.36</p>	<p>Кто из перечисленных лиц обязан обеспечивать безопасность плавания маломерного судна?</p>		<ul style="list-style-type: none"> <li>• судовладелец</li> <li>• судоводитель</li> <li>• капитан</li> <li>• члены экипажа</li> </ul>




<p>МТ.1.1.37</p>	<p>В каком случае необходимо оформление судовой роли на маломерном судне, не укомплектованном штатным экипажем?</p>		<ul style="list-style-type: none"> <li>• Перед освидетельствованием судна</li> <li>• Перед каждым выходом с базы стоянки</li> <li>• Перед выходом в заграничное плавание</li> <li>• Во всех перечисленных случаях</li> </ul>
------------------	---	--	--

**МТ.1.2. Правила плавания маломерных судов, включая правила плавания в портах**




№	Вопрос	Иллюстрация	Варианты ответа (правильный выделен)
<p>МТ.1.2.1</p>	<p>Какой из изображенных на иллюстрации сигналов не является сигналом бедствия?</p>		<ul style="list-style-type: none"> <li>• а)</li> <li>• б)</li> <li>• г)</li> <li>• в)</li> </ul>
<p>МТ.1.2.2</p>	<p>Какое судно несет огни, изображенные на иллюстрации?</p>		<ul style="list-style-type: none"> <li>• Парусное судно на якоре</li> <li>• Судно, лишенное возможности маневрировать</li> <li>• Судно с механическим двигателем, длиной менее 7 м. Стоит на якоре.</li> <li>• Судно с механическим двигателем, длиной менее 12 м. Идет на нас.</li> </ul>




<p>МТ.1.2.3</p>	<p>Какое судно несет огни, изображенные на иллюстрации?</p>		<ul style="list-style-type: none"> <li>• Судно с механическим двигателем длиной менее 50 м на ходу. Виден правый борт</li> <li>• Судно с механическим двигателем длиной более 50 м на ходу. Виден правый борт</li> <li>• Судно с механическим двигателем длиной менее 50 м на ходу. Виден левый борт</li> <li>• Любое из перечисленных судов</li> </ul>
<p>МТ.1.2.4</p>	<p>Какое судно несет огни, изображенные на иллюстрации?</p>		<ul style="list-style-type: none"> <li>• Парусное судно</li> <li>• Судно, занятое работами по устранению минной опасности, хода относительно воды не имеет</li> <li>• Судно, занятое ловом рыбы, за исключением судов занятых тралением.</li> </ul> <p>Хода относительно воды не имеет</p> <ul style="list-style-type: none"> <li>• Рыболовное судно длиной менее 50м, не имеющее хода относительно воды, занятое тралением.</li> </ul>
<p>МТ.1.2.5</p>	<p>Какое судно несет огни, изображенные на иллюстрации?</p>		<ul style="list-style-type: none"> <li>• Судно, лишенное возможности управляться. Идет на нас</li> <li>• Судно, лишенное возможности маневрировать. Идет на нас</li> <li>• Рыболовное судно с тралом. Идет на нас</li> <li>• Судно, занятое ловом рыбы, за исключением судов занятых тралением. Идет на нас</li> </ul>




<p>MT.1.2.6</p>	<p>Какое судно несет огни, изображенные на иллюстрации?</p>		<ul style="list-style-type: none"> <li>• Судно, производящее лов рыбы кошельковым неводом</li> <li>• Судно, лишенное возможности управляться. Хо́да относительно воды не имеет</li> <li>• Рыболовное судно длиной менее 50 м. Хо́да относительно воды не имеет</li> <li>• Судно, ограниченное в возможности маневрировать. Хо́да относительно воды не имеет</li> </ul>
<p>MT.1.2.7</p>	<p>Что обозначает изображенный на иллюстрации плавучий навигационный знак?</p>		<ul style="list-style-type: none"> <li>• Чистой воды</li> <li>• Специального назначения</li> <li>• Осевой</li> <li>• Ограждающий отдельную опасность малых размеров</li> </ul>
<p>MT.1.2.8</p>	<p>Что обозначает изображенный на иллюстрации плавучий навигационный знак?</p>		<ul style="list-style-type: none"> <li>• Левую сторону фарватера</li> <li>• Ось фарватера</li> <li>• Основной фарватер справа</li> <li>• Правую сторону фарватера</li> </ul>




<p>MT.1.2.9</p>	<p>Что обозначает изображенный на иллюстрации плавучий навигационный знак?</p>		<ul style="list-style-type: none"> <li>• Ограждающий отдельную опасность</li> <li>• Чистой воды</li> <li>• Осевой</li> <li>• Специального назначения</li> </ul>
<p>MT.1.2.10</p>	<p>Что обозначает изображенный на иллюстрации плавучий навигационный знак?</p>		<ul style="list-style-type: none"> <li>• Правой стороны</li> <li>• Осевой</li> <li>• Основной фарватер слева</li> <li>• Основной фарватер справа</li> </ul>
<p>MT.1.2.11</p>	<p>Что обозначает изображенный на иллюстрации плавучий навигационный знак?</p>		<ul style="list-style-type: none"> <li>•левой стороны</li> <li>• Специального назначения</li> <li>• Правой стороны</li> <li>• Осевой</li> </ul>

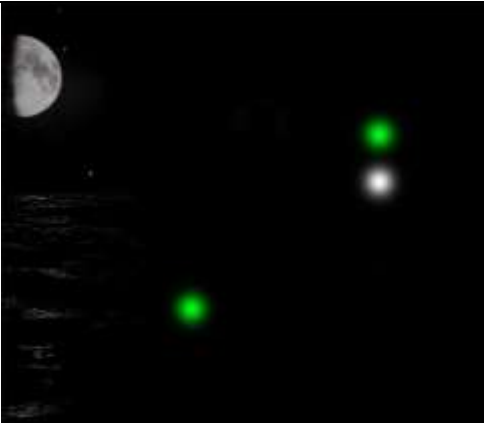
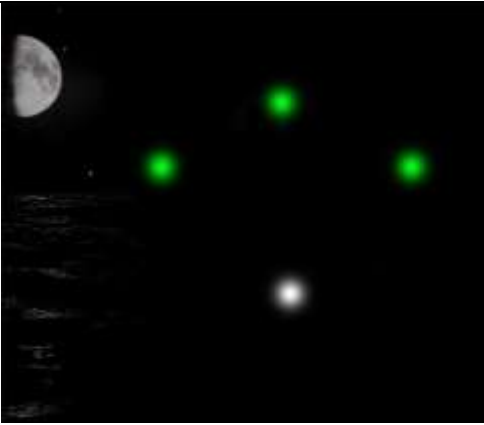
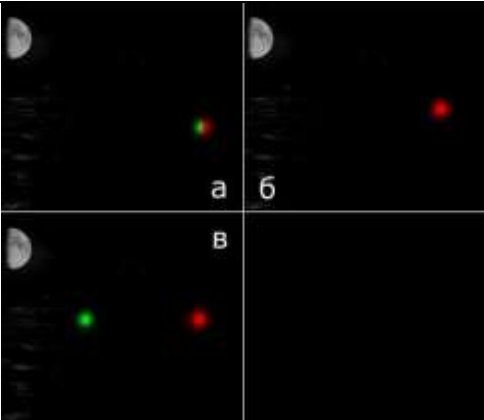





<p>MT.1.2.12</p>	<p>Что обозначает изображенный на иллюстрации плавучий навигационный знак?</p>		<ul style="list-style-type: none"> <li>• Чистой воды</li> <li>• Правой стороны</li> <li>• Основной фарватер справа</li> <li>•левой стороны</li> </ul>
<p>MT.1.2.13</p>	<p>Что обозначает изображенный на иллюстрации плавучий навигационный знак?</p>		<ul style="list-style-type: none"> <li>• Опасности</li> <li>• Осевой</li> <li>• Основной фарватер слева</li> <li>• Основной фарватер справа</li> </ul>
<p>MT.1.2.14</p>	<p>Какое судно несет огни, изображенные на иллюстрации?</p>		<ul style="list-style-type: none"> <li>• На воздушной подушке</li> <li>• Лоцманское</li> <li>• Рыболовное</li> <li>• Парусное</li> </ul>




<p>МТ.1.2.15</p>	<p>Какими работами занято изображенное на иллюстрации судно?</p>		<ul style="list-style-type: none"> <li>• Водолазными</li> <li>• Ловом рыбы</li> <li>• Буксировкой</li> <li>• Дноуглубительными</li> </ul>
<p>МТ.1.2.16</p>	<p>Какое из изображенных на иллюстрации судов следует от нас?</p>		<ul style="list-style-type: none"> <li>• а) и в)</li> <li>• б) и в)</li> <li>• в)</li> <li>• а) и б)</li> </ul>
<p>МТ.1.2.17</p>	<p>Какое судно несет изображенные на иллюстрации знаки?</p>		<ul style="list-style-type: none"> <li>• Судно, занятое ловом рыбы тралением</li> <li>• Судно, лишенное возможности управляться</li> <li>• Судно, занятое дноуглубительными работами</li> <li>• Судно, занятое работой по устранению минной опасности</li> </ul>




<p>MT.1.2.18</p>	<p>Какое судно несет изображенные на иллюстрации знаки?</p>		<ul style="list-style-type: none"> <li>• Лишенное возможности маневрировать</li> <li>• Стоящее на мели</li> <li>• Стоящее на якоре</li> <li>• Лишенное возможности управляться</li> </ul>
<p>MT.1.2.19</p>	<p>Какое судно несет изображенные на иллюстрации знаки?</p>		<ul style="list-style-type: none"> <li>• Судно на якоре</li> <li>• Судно, занятое ловом рыбы</li> <li>• Судно, лишенное возможности управляться</li> <li>• Судно на мели</li> </ul>
<p>MT.1.2.20</p>	<p>Какое судно несет изображенный на иллюстрации знак?</p>		<ul style="list-style-type: none"> <li>• Буксирное, при длине менее 200 м</li> <li>• Буксирное, при длине буксира более 200 м</li> <li>• Рыболовное, длиной менее 20 м</li> <li>• Рыболовное, занятое ловом рыбы</li> </ul>

<p>MT.1.2.21</p>	<p>Какое судно несет изображенный на иллюстрации знак?</p>		<ul style="list-style-type: none"> <li>• Рыболовное судно длиной более 50 м, занятое тралением</li> <li>• Рыболовное судно длиной менее 50 м, занятое тралением</li> <li>• Рыболовное судно, занятое ловом рыбы кошельковыми неводами</li> <li>• Любое из перечисленных рыболовных судов</li> </ul>
<p>MT.1.2.22</p>	<p>Какое судно несет изображенный на иллюстрации знак?</p>		<ul style="list-style-type: none"> <li>• Судно на мели</li> <li>• Судно, лишенное возможности маневрировать</li> <li>• Рыболовное судно</li> <li>• Судно на якорю</li> </ul>
<p>MT.1.2.23</p>	<p>Какое судно несет изображенный на иллюстрации знак?</p>		<ul style="list-style-type: none"> <li>• Парусное судно</li> <li>• Буксир</li> <li>• Рыболовное</li> <li>• Судно, идущее под парусом и одновременно приводимое в движение механической установкой</li> </ul>




<p>МТ.1.2.24</p>	<p>Какое судно несет огни, изображенные на иллюстрации?</p>		<ul style="list-style-type: none"> <li>• Занятое ловом рыбы, с помощью сетей. Виден правый борт</li> <li>• Занятое ловом рыбы кошельковым способом. Виден левый борт</li> <li>• Занятое тралением мин. Виден правый борт</li> <li>• Занятое ловом рыбы с использованием трала. Виден правый борт</li> </ul>
<p>МТ.1.2.25</p>	<p>Какое судно несет огни, изображенные на иллюстрации?</p>		<ul style="list-style-type: none"> <li>• Занятое ловом рыбы. Идет от нас</li> <li>• Занятое водолазными работами. Идет на нас</li> <li>• Занятое дноуглубительными работами. Идет на нас</li> <li>• Занятое работами по устранению минной опасности. Идет от нас</li> </ul>
<p>МТ.1.2.26</p>	<p>Какое из судов, изображенных на иллюстрации, идет на веслах?</p>		<ul style="list-style-type: none"> <li>• а)</li> <li>• б)</li> <li>• в)</li> <li>• Любое</li> </ul>




<p>MT.1.2.27</p>	<p>В какой стороне необходимо оставить изображенный на иллюстрации плавучий навигационный знак?</p>		<ul style="list-style-type: none"> <li>• к S</li> <li>• к N</li> <li>• к W</li> <li>• к E</li> </ul>
<p>MT.1.2.28</p>	<p>В какой стороне необходимо оставить изображенный на иллюстрации плавучий навигационный знак?</p>		<ul style="list-style-type: none"> <li>• к E</li> <li>• к N</li> <li>• к W</li> <li>• к S</li> </ul>
<p>MT.1.2.29</p>	<p>В какой стороне необходимо оставить изображенный на иллюстрации плавучий навигационный знак?</p>		<ul style="list-style-type: none"> <li>• к E</li> <li>• к N</li> <li>• к S</li> <li>• к W</li> </ul>

<p>MT.1.2.30</p>	<p>С какой стороны необходимо оставить изображенный на иллюстрации плавучий навигационный знак?</p>		<ul style="list-style-type: none"> <li>• к N</li> <li>• к S</li> <li>• к W</li> <li>• с любой</li> </ul>
<p>MT.1.2.31</p>	<p>На каком судне выставляется изображенный на иллюстрации сигнал?</p>		<ul style="list-style-type: none"> <li>• На рыболовном</li> <li>• На стоящем на якоре</li> <li>• На лишенном возможности управляться</li> <li>• На терпящем бедствие</li> </ul>
<p>MT.1.2.32</p>	<p>На каком судне выставляются изображенные на иллюстрации знаки?</p>		<ul style="list-style-type: none"> <li>• На рыболовном судне</li> <li>• На судне, стоящем на якоре</li> <li>• На судне, лишенном возможности управляться</li> <li>• На судне, ограниченном в возможности маневрировать</li> </ul>




<p>MT.1.2.33</p>	<p>В какой стороне необходимо оставить изображенный на иллюстрации плавучий навигационный знак?</p>		<ul style="list-style-type: none"> <li>• к N</li> <li>• к S</li> <li>• к W</li> <li>• к E</li> </ul>
<p>MT.1.2.34</p>	<p>В какой стороне необходимо оставить изображенный на иллюстрации плавучий навигационный знак?</p>		<ul style="list-style-type: none"> <li>• к N</li> <li>• к S</li> <li>• к W</li> <li>• к E</li> </ul>
<p>MT.1.2.35</p>	<p>В каком генеральном направлении следует указанное маломерное судно?</p>		<ul style="list-style-type: none"> <li>• В море</li> <li>• Из порта</li> <li>• Из устья реки</li> <li>• С моря</li> </ul>


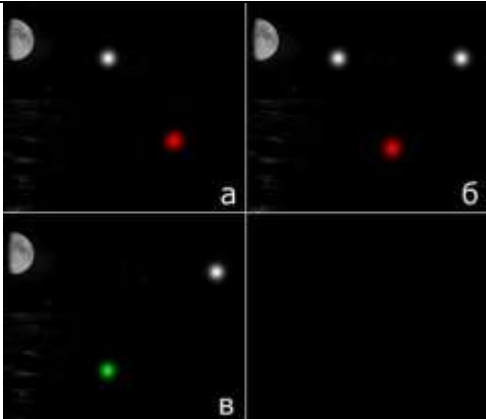



<p>MT.1.2.36</p>	<p>С какой стороны необходимо пройти мимо изображенного на иллюстрации плавучего навигационного знака?</p>		<ul style="list-style-type: none"> <li>• с E</li> <li>• с N</li> <li>• с W</li> <li>• с S</li> </ul>
<p>MT.1.2.37</p>	<p>С какой стороны необходимо пройти мимо изображенного на иллюстрации плавучего навигационного знака?</p>		<ul style="list-style-type: none"> <li>• с E</li> <li>• с N</li> <li>• с W</li> <li>• с S</li> </ul>
<p>MT.1.2.38</p>	<p>С какой стороны необходимо пройти мимо изображенного на иллюстрации плавучего навигационного знака?</p>		<ul style="list-style-type: none"> <li>• с E</li> <li>• с N</li> <li>• с W</li> <li>• с S</li> </ul>




<p>MT.1.2.39</p>	<p>В каком генеральном направлении следует изображенное на иллюстрации маломерное судно?</p>		<ul style="list-style-type: none"> <li>• В порт</li> <li>• В устье реки</li> <li>• Из порта</li> <li>• В сторону моря</li> </ul>
<p>MT.1.2.40</p>	<p>Что обозначает изображенный на иллюстрации сигнал?</p>		<ul style="list-style-type: none"> <li>• Я делаю поворот вправо</li> <li>• Человек за бортом</li> <li>• Остановите свое судно</li> <li>• Сигнал бедствия</li> </ul>
<p>MT.1.2.41</p>	<p>Что означает изображенный на иллюстрации сигнал, поднимаемый на судне днем?</p>		<ul style="list-style-type: none"> <li>• Судно ловит рыбу</li> <li>• Судно снимается с якоря</li> <li>• Судно становится на якорь</li> <li>• Сигнал бедствия</li> </ul>




<p>МТ.1.2.42</p>	<p>Какое из судов, изображенных на иллюстрации, является парусным?</p>		<ul style="list-style-type: none"> <li>• а)</li> <li>• б)</li> <li>• в)</li> <li>• г)</li> </ul>
<p>МТ.1.2.43</p>	<p>Какое судно несет огни, изображенные на иллюстрации?</p>		<ul style="list-style-type: none"> <li>• Судно на ходу. Виден правый борт</li> <li>• Судно на ходу. Виден левый борт</li> <li>• Судно на ходу. Видна корма</li> <li>• Судно, лишенное возможности управляться и не имеющее хода относительно воды</li> </ul>
<p>МТ.1.2.44</p>	<p>Какое из судов, изображенных на иллюстрации, является лоцманским?</p>		<ul style="list-style-type: none"> <li>• а)</li> <li>• б)</li> <li>• Ни одно из изображенных</li> <li>• в)</li> </ul>

<p>MT.1.2.45</p>	<p>Какое судно несет огни, изображенные на иллюстрации?</p>		<ul style="list-style-type: none"> <li>• Парусное судно, идущее под мотором, длиной менее 12 м</li> <li>• Парусное судно длиной менее 50 м</li> <li>• Лоцманское судно</li> <li>• Судно, занятое ловом рыбы</li> </ul>
<p>MT.1.2.46</p>	<p>В какой стороне относительно изображенного на иллюстрации плавучего навигационного знака находится основной фарватер?</p>		<ul style="list-style-type: none"> <li>• к N</li> <li>• к S</li> <li>• Справа</li> <li>• Слева</li> </ul>
<p>MT.1.2.47</p>	<p>Какое из судов, изображенных на иллюстрации, занято дноуглубительными работами?</p>		<ul style="list-style-type: none"> <li>• а)</li> <li>• б)</li> <li>• в)</li> <li>• Ни одно из изображенных</li> </ul>





<p>МТ.1.2.48</p>	<p>На какой иллюстрации изображено судно на воздушной подушке, длиной менее 50 м, которое идет на нас?</p>		<ul style="list-style-type: none"> <li>• а)</li> <li>• в)</li> <li>• г)</li> <li>• б)</li> </ul>
<p>МТ.1.2.49</p>	<p>На какой иллюстрации изображен левый борт судна с механическим двигателем, длиной менее 50 м, на ходу?</p>		<ul style="list-style-type: none"> <li>• а) и б)</li> <li>• а) и в)</li> <li>• в)</li> <li>• а)</li> </ul>
<p>МТ.1.2.50</p>	<p>При какой длине буксира выставляется изображенное на иллюстрации знак на судне с механическим двигателем, занятом буксировкой?</p>		<ul style="list-style-type: none"> <li>• Менее 100 м</li> <li>• Менее 200 м</li> <li>• Более 100 м</li> <li>• Более 200 м</li> </ul>




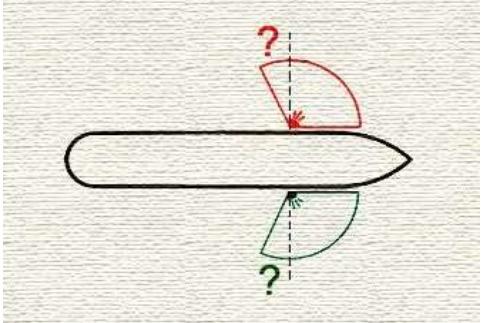
<p>MT.1.2.51</p>	<p>Что означает флаг, изображенный на иллюстрации?</p>		<ul style="list-style-type: none"> <li>• «Вы идете к опасности»</li> <li>• «Человек за бортом»</li> <li>• «Я хочу установить с Вами связь»</li> <li>• «Остановите немедленно свое судно»</li> </ul>
<p>MT.1.2.52</p>	<p>Что означает флаг, изображенный на иллюстрации?</p>		<ul style="list-style-type: none"> <li>• «Вы идете к опасности»</li> <li>• «Человек за бортом»</li> <li>• «Я хочу установить с Вами связь»</li> <li>• «Остановите немедленно свое судно»</li> </ul>
<p>MT.1.2.53</p>	<p>Что означает флаг, изображенный на иллюстрации?</p>		<ul style="list-style-type: none"> <li>• «Вы идете к опасности»</li> <li>• «Человек за бортом»</li> <li>• «Я хочу установить с Вами связь»</li> <li>• «Остановите немедленно свое судно»</li> </ul>




<p>MT.1.2.54</p>	<p>Что означает флаг, изображенный на иллюстрации?</p>		<ul style="list-style-type: none"> <li>• «Вы идете к опасности»</li> <li>• «Человек за бортом»</li> <li>• «Я хочу установить с Вами связь»</li> <li>• «Остановите немедленно свое судно»</li> </ul>
<p>MT.1.2.55</p>	<p>Какое должностное лицо в морском порту отвечает за безопасность мореплавания в порту и на подходах к нему?</p>		<ul style="list-style-type: none"> <li>• Стивидор</li> <li>• Диспетчер</li> <li>• Лоцман</li> <li>• Капитан порта</li> </ul>
<p>MT.1.2.56</p>	<p>Огни какого судна наблюдаются на иллюстрации?</p>		<ul style="list-style-type: none"> <li>• Буксировка в кильватер, длина буксирующего судна менее 50м, длина буксира менее 200м</li> <li>• Буксировка в кильватер, длина буксирующего судна более 50м, длина буксира менее 200м</li> <li>• Буксировка в кильватер, длина буксирующего судна более 50м, длина буксира более 200м</li> <li>• Буксировка в кильватер, длина буксирующего судна менее 50м, длина буксира более 200м</li> </ul>




<p>MT.1.2.57</p>	<p>Какое судно считается, согласно МППСС-72, обгоняющим?</p>		<ul style="list-style-type: none"> <li>• Которое подходит с курсового угла <math>90^\circ</math> и более</li> <li>• Которое подходит с направления два с половиной румба позади траверза</li> <li>• Которое подходит с курсового угла более <math>112,5^\circ</math></li> <li>• Любое судно, которое имеет скорость больше скорости нашего судна</li> </ul>
<p>MT.1.2.58</p>	<p>Огни какого судна показаны на иллюстрации</p>		<ul style="list-style-type: none"> <li>• Судно, занятое ловом рыбы тралением на якорю</li> <li>• Судно занятое ловом рыбы тралением на ходу, идет влево</li> <li>• Судно, ограниченное в возможности маневрировать</li> <li>• Судно, занятое ловом рыбы, за исключением судов, занятых тралением, у которого снасти простираются в море по горизонтали более чем на 150 м от судна, идет влево</li> </ul>
<p>MT.1.2.59</p>	<p>Каковы действия судна, когда, находясь в районе ограниченной видимости, оно не может предотвратить чрезмерного сближения с другим судном, находящимся впереди траверза?</p>		<ul style="list-style-type: none"> <li>• Отдать якорь</li> <li>• Подать не менее пяти коротких и частых звуков свистком для привлечения внимания другого судна</li> <li>• Уменьшить ход до минимального, достаточного для удержания судна на курсе</li> <li>• Сообщить о своих действиях на канале вызова УКВ-связи</li> </ul>







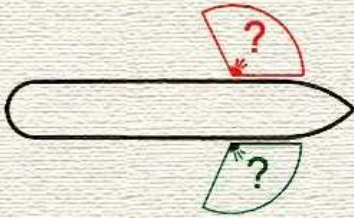


<p>MT.1.2.60</p>	<p>В ночное время Вы наблюдаете огни судна с механическим двигателем на ходу, у которого виден также круговой проблесковый желтый огонь. Что это за судно?</p>		<ul style="list-style-type: none"> <li>• Экраноплан</li> <li>• Гидросамолет</li> <li>• Судно на подводных крыльях, находящееся в неводоизмещающем состоянии <ul style="list-style-type: none"> <li>• Судно на воздушной подушке, находящееся в неводоизмещающем состоянии</li> </ul> </li> </ul>
<p>MT.1.2.61</p>	<p>Кормовой огонь судна установлен таким образом, чтобы светить от направления прямо по корме до (?) в сторону каждого борта</p>		<ul style="list-style-type: none"> <li>• 22,5°</li> <li>• 112,5°</li> <li>• 67,5°</li> <li>• 62,5°</li> </ul>
<p>MT.1.2.62</p>	<p>Два парусных судна идут разными галсами, опасно сближаясь друг с другом. Какие взаимные обязанности установлены между ними согласно Правил?</p>		<ul style="list-style-type: none"> <li>• Судна, идущее правым галсом должно уступить дорогу другому судну</li> <li>• Оба судна должны предпринять действия для расхождения на безопасном расстоянии</li> <li>• Судно, идущее левым галсом, должно уступить дорогу другому судну</li> <li>• То судно, которое идет более круто к ветру, должно сохранять свой курс и скорость</li> </ul>
<p>MT.1.2.63</p>	<p>Где должно находиться судно во время следования узким проходом или фарватером</p>		<ul style="list-style-type: none"> <li>• Оно должно идти по оси фарватера</li> <li>• Оно должно держаться немного справа от оси фарватера</li> <li>• Оно должно держаться внешней границы фарватера, которая находится с его правого борта</li> <li>• Оно может держаться любой внешней границы фарватера</li> </ul>

<p>MT.1.2.64</p>	<p>Какое утверждение является правильным в отношении подачи звуковых сигналов при нахождении вашего судна вблизи района с ограниченной видимостью</p>		<ul style="list-style-type: none"> <li>• Подавать звуковые сигналы не обязательно</li> <li>• Должны подавать звуковые сигналы только в ответ на услышанные</li> <li>• Обязаны подавать звуковые сигналы</li> <li>• Можем подавать звуковые сигналы</li> </ul>
<p>MT.1.2.65</p>	<p>Какое значение имеют три шара, расположенные по вертикальной линии?</p>		<ul style="list-style-type: none"> <li>• Судно, стесненное своей осадкой</li> <li>• Судно, занятое дноуглубительными работами</li> <li>• Судно, стоящее на мели</li> <li>• Судно занятое работами по устранению минной опасности</li> </ul>
<p>MT.1.2.66</p>	<p>Какие из перечисленных состояний судна подпадают под термин «НА ХОДУ»?</p>		<ul style="list-style-type: none"> <li>• Судно стоит на бочке</li> <li>• Судно под парусами лежит в дрейфе</li> <li>• Стоит на мели</li> <li>• Судно пришвартовано к дереву, стоящему на берегу</li> </ul>
<p>MT.1.2.67</p>	<p>Бортовой огонь светит от направления прямо по носу и до (?) позади траверза</p>		<ul style="list-style-type: none"> <li>• 67,5°</li> <li>• 35°</li> <li>• 22,5°</li> <li>• 25°</li> </ul>

<p>MT.1.2.68</p>	<p>У обгоняемого судна ночью с обгоняющего могут наблюдаться только ...</p>		<ul style="list-style-type: none"> <li>• Бортовой огонь</li> <li>• Бортовой и топовый огонь</li> <li>• Только кормовой огонь</li> <li>• Бортовой, топовый и кормовой огни</li> </ul>
<p>MT.1.2.69</p>	<p>Каковы ваши действия в ответ на один продолжительный звуковой сигнал, который слышен из-за крутого изгиба фарватера?</p>		<ul style="list-style-type: none"> <li>• Выйти на связь по УКВ-станции и выяснить, кто и в связи с чем подаёт этот сигнал</li> <li>• Подать для привлечения внимания к себе по меньшей мере пять коротких и частых звуков свистком</li> <li>• Ответить одним продолжительным звуком</li> <li>• Встать на якорь, если позволяют обстоятельства</li> </ul>
<p>MT.1.2.70</p>	<p>Огни какого судна показаны на иллюстрации?</p>		<ul style="list-style-type: none"> <li>• Судно с механическим двигателем длиной более 100 м толкает впереди другое судно, идет вправо</li> <li>• Судно с механическим двигателем длиной 75 м толкает впереди другое жестко сочлененное судно. Общая длина состава 150 м. Идет вправо</li> <li>• Судно с механическим двигателем длиной 90 м толкает вперед другое жестко сочлененное судно, идет вправо.</li> <li>• Общая длина состава 100 м</li> <li>• Судно с механическим двигателем длиной менее 50 м толкает впереди другое судно, идет вправо</li> </ul>

<p>MT.1.2.71</p>	<p>Каковы обязанности судна, которое, согласно МППСС, не должно затруднять движение или безопасный проход другого судна</p>		<ul style="list-style-type: none"> <li>• Должно, когда этого требуют обстоятельства, заблаговременно выйти на связь УКВ</li> <li>• Должно, когда этого требуют обстоятельства, предпринимать заблаговременные действия с тем, чтобы оставить достаточное водное пространство для прохода другого судна</li> <li>• Должно, когда этого требуют обстоятельства, в последний момент уступить дорогу другому судну</li> <li>• Должно, когда этого требуют обстоятельства, усилить наблюдение за действиями другого судна</li> </ul>
<p>MT.1.2.72</p>	<p>Два парусных судна идут одним и тем же галсом, опасно сближаясь друг с другом. Какие взаимные обязанности установлены между ними согласно Правил?</p>		<ul style="list-style-type: none"> <li>• Судно, находящееся под ветром, уступает дорогу судну, находящемуся на ветре</li> <li>• То судно, которое идет более круто к ветру, должно сохранять свой курс и скорость</li> <li>• Оба судна должны предпринять действия для расхождения на безопасном расстоянии</li> <li>• Судно, находящееся на ветре, уступает дорогу судну, находящемуся под ветром</li> </ul>
<p>MT.1.2.73</p>	<p>Судно с механическим двигателем длиной менее 7 м, имеющее максимальную скорость не более 7 узлов</p>		<ul style="list-style-type: none"> <li>• Должно выставлять белый круговой огонь вместо огней топового, бортовых и кормового</li> <li>• Может выставлять белый круговой огонь вместо огней топового и кормового, и должно, если это практически возможно, выставлять также бортовые огни</li> <li>• Должно выставлять только бортовые огни</li> <li>• Должно иметь наготове электрический фонарик, который заблаговременно выставляется для предупреждения столкновения</li> </ul>

<p>MT.1.2.74</p>	<p>Огонь какого судна наблюдаются на иллюстрации</p>		<ul style="list-style-type: none"> <li>• Судно, стесненное своей осадкой, идет на нас</li> <li>• Судно длиной менее 50 м на мели</li> <li>• Лоцманское судно при исполнении своих обязанностей на якоре</li> <li>• Парусное судно длиной менее 7 м</li> </ul>
<p>MT.1.2.75</p>	<p>Какой из указанных знаков поднимается, когда судно становится на якорь</p>		<ul style="list-style-type: none"> <li>• А</li> <li>• Б</li> <li>• В</li> <li>• Г</li> </ul>
<p>MT.1.2.76</p>	<p>Когда заканчивается обязанность обгоняющего судна по отношению к обгоняемому держаться от него в стороне?</p>		<ul style="list-style-type: none"> <li>• Когда оно оказалось впереди траверза у обгоняемого судна</li> <li>• Когда оно окончательно прошло обгоняемое судно и оставило его позади</li> <li>• Когда расстояние до обгоняемого судна перестало уменьшаться</li> <li>• Когда обгоняемое судно перестало наблюдаться визуально с обгоняющего</li> </ul>
<p>MT.1.2.77</p>	<p>Какое из указанных судов должно подавать звуковые сигналы при ограниченной видимости через промежуток времени не более 2 минут три последовательных звука, а именно - один продолжительный и в след за ним два коротких?</p>		<ul style="list-style-type: none"> <li>• Судно, занятое ловом рыбы</li> <li>• Судно, ограниченное в возможности маневрировать</li> <li>• Парусное судно</li> <li>• Все, указанные в ответах суда</li> </ul>

<p>MT.1.2.78</p>	<p>Бортовой огонь освещает дугу горизонта</p>		<ul style="list-style-type: none"> <li>• 122,5°</li> <li>• 135°</li> <li>• 112,5°</li> <li>• 67,5°</li> </ul>
<p>MT.1.2.79</p>	<p>Опасность столкновения считается существующей, если</p>		<ul style="list-style-type: none"> <li>• Пеленг и дистанция на наблюдаемое судно не меняются</li> <li>• Пеленг приближающегося судна заметно не меняется</li> <li>• Пеленг приближающегося судна изменятся в сторону носа</li> <li>• Пеленг приближающегося судна изменятся в сторону кормы</li> </ul>
<p>MT.1.2.80</p>	<p>Какое из приведенных ниже утверждений в отношении термина "НА ВИДУ ДРУГ У ДРУГА" соответствует Правилам?</p>		<ul style="list-style-type: none"> <li>• Когда другое судно наблюдается только в бинокль</li> <li>• Когда из-за низко стелющегося тумана видны только мачты другого судна</li> <li>• Когда судно может визуалью наблюдаться с другого судна</li> <li>• Все, приведенные утверждения, являются правильными</li> </ul>

<p>MT.1.2.81</p>	<p>Огни какого судна показаны на иллюстрации?</p>		<ul style="list-style-type: none"> <li>• Буксировка в кильватер, длина буксирующего судна более 20м, длина буксира более 200м, идет влево</li> <li>• Буксировка в кильватер, длина буксирующего судна менее 20м, длина буксира менее 200м, идет влево</li> <li>• Буксировка в кильватер, длина буксирующего судна более 100м, длина буксира менее 200м, идет влево</li> <li>• Буксировка в кильватер, длина буксирующего судна более 100м, длина буксира более 200м, идет влево</li> </ul>
<p>MT.1.2.82</p>	<p>Кому НЕ уступает дорогу парусное судно?</p>		<ul style="list-style-type: none"> <li>• Судну, занятому ловом рыбы</li> <li>• Судну, лишенному возможности управляться</li> <li>• Судну, ограниченному в возможности маневрировать</li> <li>• Судну с механическим двигателем</li> </ul>
<p>MT.1.2.83</p>	<p>Следуя в районе ограниченной видимости или вблизи такого района, парусное судно должно подавать</p>		<ul style="list-style-type: none"> <li>• Один продолжительный и вслед за ним два коротких звуковых сигнала</li> <li>• Два продолжительных звуковых сигнала</li> <li>• Два продолжительных и один короткий звуковой сигнал</li> <li>• Парусному судну нет необходимости подавать такие сигналы</li> </ul>





<p>MT.1.2.84</p>	<p>В темное время суток Вы обнаружили огни судна, указанные на иллюстрации?. Какие ограничения в отношении минимального расстояния расхождения с таким судном существуют в МППСС-72</p>		<ul style="list-style-type: none"> <li>• 1852 м</li> <li>• 1000 м</li> <li>• 100 м</li> <li>• 2000 м</li> </ul>
<p>MT.1.2.85</p>	<p>Знаки какого судна указаны на иллюстрации?</p>		<ul style="list-style-type: none"> <li>• Судно, занятое такой буксировкой, которая значительно ограничивает возможности судов, участвующих в такой буксировочной операции, отклониться от своего курса</li> <li>• Судно, стоящее на мели</li> <li>• Судно, оказавшееся в особых обстоятельствах, которые не упоминаются в Правилах</li> <li>• Судно, занятое подводными операциями и ограниченное в возможности маневрировать</li> </ul>
<p>MT.1.2.86</p>	<p>При следовании в системе разделения движения (или при ее пересечении) парусное судно</p>		<ul style="list-style-type: none"> <li>• Не должно затруднять проход судна с механическим двигателем, следующего в полосе движения</li> <li>• Пользуется правом дороги</li> <li>• Не имеет права пересекать систему разделения движения</li> <li>• Системы разделения движения не имеют отношения к парусным судам</li> </ul>







<p>MT.1.2.87</p>	<p>Пересекая курс по носу грузового судна так, как показано на фотографии, маломерное судно</p>		<ul style="list-style-type: none"> <li>• Нарушает правила МППСС</li> <li>• Не нарушает правила МППСС</li> <li>• Не нарушает правила МППСС, если им предварительно было подано пять или более коротких звуковых сигналов</li> </ul>
<p>MT.1.2.88</p>	<p>Комбинированный фонарь, в котором выставляются бортовые огни, используют</p>		<ul style="list-style-type: none"> <li>• Судно длиной менее 20 м</li> <li>• Судно с механическим двигателем длиной менее 12 м</li> <li>• Парусное судно длиной менее 20 м</li> <li>• Все суда, указанные в ответах</li> </ul>
<p>MT.1.2.89</p>	<p>Правило, относящееся к обгону, применяется, когда суда находятся</p>		<ul style="list-style-type: none"> <li>• При любых условиях видимости</li> <li>• На виду друг у друга</li> <li>• Только в условиях ограниченной видимости</li> <li>• Только в узкостях</li> </ul>

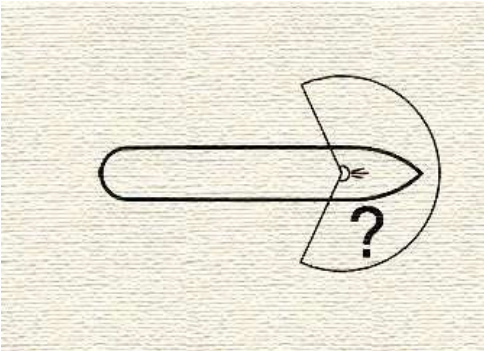


<p>MT.1.2.90</p>	<p>В открытом море опасно сближаются на пересекающихся курсах парусное судно и судно, занятое ловом рыбы, которое наблюдает парусник со своего правого борта. Каковы взаимные обязанности судов?</p>		<ul style="list-style-type: none"> <li>• Парусное судно должно сохранять свой курс и скорость, т.к. оно наблюдает другое судно слева</li> <li>• Судно, занятое ловом рыбы, должно уступить дорогу парусному судну, т.к. оно наблюдает другое судно справа</li> <li>• Судно, занятое ловом рыбы, должно уступить дорогу парусному судну, т.к. последнее приводится в движение не механической установкой</li> <li>• Парусное судно должно уступить дорогу судну, занятому ловом рыбы</li> </ul>
<p>MT.1.2.91</p>	<p>В каких районах применяются МППСС-72</p>		<ul style="list-style-type: none"> <li>• Только в открытом море</li> <li>• Только в территориальных и внутренних водах, имеющих естественный или искусственный выход в открытое море</li> <li>• В районах, установленных прибрежным государством</li> <li>• В открытых морях и соединенных с ними водах, по которым могут плавать морские суда</li> </ul>
<p>MT.1.2.92</p>	<p>Следуя в тумане Вы обнаружили на иллюстрации? РЛС слева, впереди траверза, эхо-сигнал судна и установили, что развивается ситуация опасного сближения с ним. Какое утверждение является правильным?</p>		<ul style="list-style-type: none"> <li>• Мы должны сохранять свой курс и скорость</li> <li>• Мы должны предпринять действие, чтобы чисто разойтись с этим судном</li> <li>• Другое судно должно сохранять свой курс и скорость</li> <li>• Другое судно должно предпринять действия чтобы уступить нам дорогу, так как мы находимся у него справа</li> </ul>



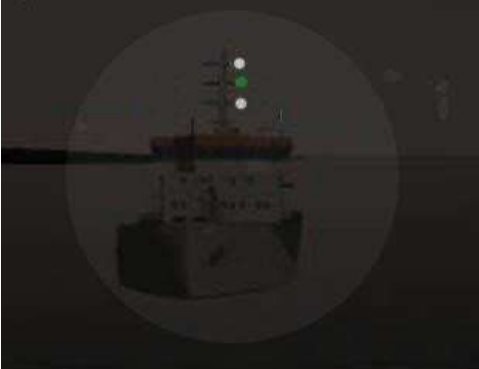
<p>MT.1.2.93</p>	<p>Следуя в плохую видимость, вы неожиданно услышали туманный сигнал другого судна по-видимому впереди своего траверза. Вы должны</p>		<ul style="list-style-type: none"> <li>• Подать по меньшей мере пять коротких и частых звуков свистком для привлечения внимания другого судна</li> <li>• Уменьшить ход до минимального, достаточного для удержания судна на курсе</li> <li>• Попытаться установить связь с другим судном на канале вызова УКВ-связи</li> <li>• Изменить курс вправо на значительный угол</li> </ul>
<p>MT.1.2.94</p>	<p>При каком численном значении видимость считается ограниченной</p>		<ul style="list-style-type: none"> <li>• 2 мили</li> <li>• 5 миль</li> <li>• Равная тормозному пути судна</li> <li>• Ни одно из указанных утверждений не присутствует в Правилах</li> </ul>
<p>MT.1.2.95</p>	<p>Какое значение имеют огни, указанные на рисунке</p>		<ul style="list-style-type: none"> <li>• Судно, лишенное возможности управляться, и не имеющее хода относительно воды</li> <li>• Судно, занятое дноуглубительными работами, показывает сторону, на которой существует препятствие</li> <li>• Судно длиной более 20 м, занятое тралением, когда снасть зацепилась за препятствие</li> <li>• Судно, стоящее на мели</li> </ul>

<p>MT.1.2.96</p>	<p>Судно с механическим двигателем длиной менее 12 м</p>		<ul style="list-style-type: none"> <li>• Может вместо огней топового, бортовых и кормового выставлять белый круговой огонь и бортовые огни</li> <li>• Может выставлять один топовый огонь и бортовые огни</li> <li>• Должно выставлять белый круговой огонь и бортовые огни вместо топового и кормового</li> <li>• Может выставлять один белый круговой огонь</li> </ul>
<p>MT.1.2.97</p>	<p>Огни какого судна наблюдаются на иллюстрации?</p>		<ul style="list-style-type: none"> <li>• Судно, занятое ловом рыбы тралом, идет влево</li> <li>• Парусное судно, идет влево</li> <li>• Лоцманское судно, идет влево</li> <li>• Судно, занятое дноуглубительными работами, показывает сторону, по которой проход запрещен</li> </ul>
<p>MT.1.2.98</p>	<p>Какое из приведенных ниже судов подпадает под термин «СУДНО, ОГРАНИЧЕННОЕ В ВОЗМОЖНОСТИ МАНЕВРИРОВАТЬ»</p>		<ul style="list-style-type: none"> <li>• Из-за неисправности перо руля может переключаться только на 7 градусов</li> <li>• Зацепилось рыболовным тралом за грунт</li> <li>• Маневрирует при сдаче лоцмана на лоцманский катер</li> <li>• Из-за штормовых условий не может маневрировать так, как это предписано Правилами</li> </ul>
<p>MT.1.2.99</p>	<p>Огни какого судна показаны на иллюстрации??</p>		<ul style="list-style-type: none"> <li>• Гидросамолет на якоре</li> <li>• Буксируемое судно, идет на нас</li> <li>• Полупогруженный буксируемый объект</li> <li>• Судно, занятое буксировкой, идет от нас</li> </ul>

<p>МТ.1.2.100</p>	<p>Какой знак выставляет в дневное время судно с механическим двигателем, занятое буксировкой с кормы, если длина буксира, измеренная от кормы буксирующего судна до кормы буксируемого, превышает 200м</p>		<ul style="list-style-type: none"> <li>• А</li> <li>• Б</li> <li>• В</li> <li>• Г</li> </ul>
<p>МТ.1.2.101</p>	<p>Огни какого судна наблюдаются на иллюстрации?</p>		<ul style="list-style-type: none"> <li>• Судно, занятое устранением минной опасности, идет вправо</li> <li>• Судно, лишенное возможности управляться имеет ход относительно воды, идет влево</li> <li>• Судно, занятое ловом рыбы тралом длиной более 50 м на ходу, идет влево</li> <li>• Судно занятое сложной буксировкой, длиной менее 50 м</li> </ul>
<p>МТ.1.2.102</p>	<p>Судно, которому уступают дорогу в условиях на виду друг у друга ...</p>		<ul style="list-style-type: none"> <li>• Должно сохранять свой курс и скорость</li> <li>• Может предпринять действие для избежания столкновения, когда ему становится очевидно, что другое судно, обязанное уступить дорогу, не предпринимает соответствующего действия</li> <li>• Должно предпринять действия для предотвращения столкновения, если обнаружило, что столкновения нельзя избежать только действиями судна, уступающего дорогу</li> <li>• Все меры, указанные в ответах</li> </ul>




<p>MT.1.2.103</p>	<p>Какой знак в дневное время выставляет судно, идущее под парусом, и, в то же время, приводимое в движение механической установкой</p>		<ul style="list-style-type: none"> <li>• А</li> <li>• Б</li> <li>• В</li> <li>• Г</li> </ul>
<p>MT.1.2.104</p>	<p>При плавании в районе системы разделения движения парусное судно</p>		<ul style="list-style-type: none"> <li>• Может использовать зону прибрежного плавания</li> <li>• Должно следовать в пределах зоны разделения, между потоками движения судов</li> <li>• Должно следовать за пределами системы разделения движения судов</li> <li>• Системы разделения движения не имеют отношения к парусным судам</li> </ul>
<p>MT.1.2.105</p>	<p>Какой из приведенных знаков несет судно, занятое тралением</p>		<ul style="list-style-type: none"> <li>• А</li> <li>• Б</li> <li>• В</li> <li>• Г</li> </ul>
<p>MT.1.2.106</p>	<p>Огни какого судна показаны на иллюстрации?</p>		<ul style="list-style-type: none"> <li>• Судно, занятое ловом рыбы нетраловыми снастями длиной более 150 м на ходу</li> <li>• Лоцманское судно на ходу, остановившееся и не имеющее ход относительно воды</li> <li>• Судно, занятое ловом рыбы нетраловыми снастями не более 150 м на ходу, но не имеющее ход относительно воды</li> <li>• Судно, занятое ловом рыбы тралением длиной</li> </ul>


			<p>менее 50 м на ходу, но не имеющее ход относительно воды</p>
<p>MT.1.2.107</p>	<p>Какова дуга горизонта, которую освещает топовый огонь судна</p>	 <p>The diagram shows a side profile of a ship's hull. A horizontal line represents the horizon. A semi-circular arc is drawn above the horizon, starting from the ship's centerline and extending to the right. A question mark is placed inside the arc, indicating the question of how far the arc extends.</p>	<ul style="list-style-type: none"> <li>• Дуга горизонта в <math>122,5^\circ</math> по каждому борту, берущая начало от диаметральной плоскости судна и в направлении в корму</li> <li>• Дуга горизонта в <math>112,5^\circ</math> по каждому борту, берущая начало от диаметральной плоскости судна и в направлении в корму</li> <li>• Дуга горизонта в <math>67,5^\circ</math> по каждому борту, берущая начало от диаметральной плоскости судна и в направлении в корму</li> <li>• Дуга горизонта в <math>135^\circ</math> по каждому борту, берущая начало от диаметральной плоскости судна и в направлении в корму</li> </ul>
<p>MT.1.2.108</p>	<p>В открытом море, ночью, Вы приближаетесь к судну, у которого виден кормовой огонь. Временами открывается его бортовой огонь, при этом кормовой огонь перестает быть виден. Вы должны</p>	 <p>A photograph showing a person in a white shirt standing at a ship's bridge, looking at a radar display. The display shows a green screen with a circular radar scan and various navigational data.</p>	<ul style="list-style-type: none"> <li>• Считать, что это ситуация пересечения курсов</li> <li>• Считать, что это обгон</li> <li>• Сманеврировать так, чтобы создать ситуацию пересечения курсов и действовать соответственно</li> <li>• Сманеврировать так, чтобы создать ситуацию обгона, и действовать соответственно</li> </ul>
<p>MT.1.2.109</p>	<p>Какое судно не должно выставлять топовые огни, когда оно на ходу и имеет ход относительно воды</p>	 <p>The image shows the cover of the COLREGS (Collision Regulations) manual. The cover is purple and white, with the text 'COLREGS' at the top and the IMO logo at the bottom.</p>	<ul style="list-style-type: none"> <li>• Судно, лишенное возможности управляться</li> <li>• Буксируемое судно</li> <li>• Судно, занятое ловом рыбы нетраловыми снастями</li> <li>• Все ответы верные</li> </ul>

<p>MT.1.2.110</p>	<p>Кому уступает дорогу судно с механическим двигателем на ходу?</p>		<ul style="list-style-type: none"> <li>• Парусному судну</li> <li>• Судну, лишенному возможности управляться</li> <li>• Судну, ограниченному в возможности маневрировать</li> <li>• Всем судам, указанным в ответах</li> </ul>
<p>MT.1.2.111</p>	<p>Огни какого судна наблюдаются на иллюстрации?</p>		<ul style="list-style-type: none"> <li>• Судно с механическим двигателем длиной менее 50 м.</li> <li>• идет на нас</li> <li>• Парусное судно длиной более 20 м, идет на нас</li> <li>• Судно занятое ловом рыбы</li> <li>• Парусное судно длиной менее 20 м , идет на нас</li> </ul>
<p>MT.1.2.112</p>	<p>Огни какого судна показаны на иллюстрации?</p>		<ul style="list-style-type: none"> <li>• Судно, занятое устранением минной опасности, идет на нас</li> <li>• Судно, занятое ловом рыбы тралением на ходу, имеет ход относительно воды, идет на нас</li> <li>• Судно, занятое ловом рыбы тралением, на якоре, вид с носа</li> <li>• Судно, занятое ловом рыбы тралением на ходу, но остановившееся и не имеющее ход относительно воды, вид с носа</li> </ul>






**МТ.1.3. Вопросы административной ответственности за нарушение правил плавания**

№	Вопрос	Иллюстрация	Варианты ответа (правильный выделен)
МТ.1.3.1	На какой срок задерживается маломерное судно при совершении административного правонарушения?		<ul style="list-style-type: none"> <li>• На срок до рассмотрения дела об административном правонарушении</li> <li>• На срок до составления протокола об административном правонарушении</li> <li>• На срок до вступления постановления по делу об административном правонарушении в законную силу</li> <li>• На срок до устранения причины задержания</li> </ul>
МТ.1.3.2	Какой срок отводится Кодексом Российской Федерации об административных правонарушениях для уплаты административного штрафа?		<ul style="list-style-type: none"> <li>• 10 суток</li> <li>• 20 суток</li> <li>• 60 суток</li> <li>• 30 суток</li> </ul>
МТ.1.3.3	Какое административное наказание предусматривается за нарушение лицом, управляющим маломерным судном, правил маневрирования?		<ul style="list-style-type: none"> <li>• Административный штраф</li> <li>• Предупреждение</li> <li>• Предупреждение либо административный штраф</li> <li>• Предупреждение, либо административный штраф, либо лишение права управления маломерным судном на срок до шести месяцев</li> </ul>




<p>МТ.1.3.4</p>	<p>Какое административное наказание предусмотрено за управление маломерным судном, не зарегистрированным в установленном порядке?</p>		<ul style="list-style-type: none"> <li>• Предупреждение</li> <li>• Предупреждение либо административный штраф</li> <li>• Предупреждение, либо административный штраф, либо лишение права управления маломерным судном</li> <li>• Административный штраф</li> </ul>
<p>МТ.1.3.5</p>	<p>Какое административное наказание предусматривается за несоблюдение лицом, управляющим маломерным судном, установленной скорости?</p>		<ul style="list-style-type: none"> <li>• Административный штраф</li> <li>• Предупреждение</li> <li>• Предупреждение либо административный штраф</li> <li>• Предупреждение, либо административный штраф, либо лишение права управления маломерным судном на срок до шести месяцев</li> </ul>
<p>МТ.1.3.6</p>	<p>Какое административное наказание предусматривается за управление маломерным судном, судоводителем, не имеющим при себе судового билета?</p>		<ul style="list-style-type: none"> <li>• Предупреждение</li> <li>• Предупреждение либо административный штраф</li> <li>• Предупреждение, либо административный штраф, либо лишение права управления маломерным судном на срок до шести месяцев</li> <li>• Административный штраф</li> </ul>




<p>МТ.1.3.7</p>	<p>Какое административное наказание предусмотрено за управление маломерным судном судоводителем или иным лицом, находящимся в состоянии опьянения?</p>		<ul style="list-style-type: none"> <li>• Лишение прав управления маломерным судном</li> <li>• Предупреждение</li> <li>• Штраф</li> <li>• Штраф или лишение прав управления маломерным судном</li> </ul>
<p>МТ.1.3.8</p>	<p>Какое административное наказание предусматривается за несоблюдение лицом, управляющим маломерным судном, требований навигационных знаков?</p>		<ul style="list-style-type: none"> <li>• Административный штраф</li> <li>• Лишение права управления маломерным судном на срок до шести месяцев</li> <li>• Предупреждение</li> <li>• Одно из перечисленных</li> </ul>
<p>МТ.1.3.9</p>	<p>Какое административное наказание лица, управляющего маломерным судном, предусматривается за преднамеренную остановку или стоянку судна в запрещенных местах?</p>		<ul style="list-style-type: none"> <li>• Административный штраф</li> <li>• Предупреждение</li> <li>• Предупреждение либо административный штраф</li> <li>• Предупреждение, либо административный штраф, либо лишение права управления маломерным судном на срок до шести месяцев</li> </ul>

<p>МТ.1.3.10</p>	<p>В течение какого срока гражданин, в отношении которого вынесено административное наказание, имеет право обжаловать постановление по делу об административном правонарушении?</p>		<ul style="list-style-type: none"> <li>• 5 суток</li> <li>• 20 суток</li> <li>• 15 суток</li> <li>• 10 суток</li> </ul>
<p>МТ.1.3.11</p>	<p>В течение какого срока собственник маломерного судна обязан сообщить в орган государственной регистрации судна о любом изменении сведений, внесенных в реестр маломерных судов?</p>		<ul style="list-style-type: none"> <li>• В течение недели</li> <li>• В течение месяца</li> <li>• В течение трех недель</li> <li>• В течение двух недель</li> </ul>
<p>МТ.1.3.12</p>	<p>Кем выносится постановление о лишении права управления маломерным судном?</p>		<ul style="list-style-type: none"> <li>• Главным государственным инспектором по маломерным судам</li> <li>• Государственным инспектором по маломерным судам</li> <li>• Прокурором</li> <li>• Судьей</li> </ul>

<p>МТ.1.3.13</p>	<p>Какое административное наказание предусмотрено за превышение установленной скорости?</p>		<ul style="list-style-type: none"> <li>• Лишение права управления</li> <li>• Предупреждение</li> <li>• Штраф</li> <li>• Предупреждение или штраф, или лишение права управления</li> </ul>
<p>МТ.1.3.14</p>	<p>Какое административное наказание предусматривается за нарушение правил маневрирования?</p>		<ul style="list-style-type: none"> <li>• Административный штраф</li> <li>• Лишение прав управления маломерным судном</li> <li>• Предупреждение</li> <li>• Одно из перечисленных</li> </ul>
<p>МТ.1.3.15</p>	<p>Какое административное наказание предусмотрено за управление маломерным судном, не несущим бортовых номеров?</p>		<ul style="list-style-type: none"> <li>• Лишение права управления</li> <li>• Предупреждение или штраф</li> <li>• Предупреждение или штраф, или лишение права управления</li> <li>• Штраф</li> </ul>




<p>МТ.1.3.16</p>	<p>Какое административное наказание предусмотрено за преднамеренную остановку маломерного судна в запрещенном месте?</p>		<ul style="list-style-type: none"> <li>• Лишение права управления</li> <li>• Предупреждение</li> <li>• Штраф</li> <li>• Предупреждение или штраф, или лишение права управления</li> </ul>
<p>МТ.1.3.17</p>	<p>При совершении административного правонарушения, влекущего задержание маломерного судна, оно задерживается на время:</p>		<ul style="list-style-type: none"> <li>• До составления протокола об административном правонарушении</li> <li>• До вынесения постановления по делу об административном правонарушении</li> <li>• До исполнения постановления по делу об административном правонарушении</li> <li>• До устранения причины задержания</li> </ul>
<p>МТ.1.3.18</p>	<p>Какое административное наказание предусмотрено за передачу управления маломерным судном лицу, не имеющему на это права?</p>		<ul style="list-style-type: none"> <li>• Лишение права управления</li> <li>• Предупреждение</li> <li>• Предупреждение или штраф</li> <li>• Штраф</li> </ul>




<p>МТ.1.3.19</p>	<p>Какое административное наказание предусмотрено за управление маломерным судном с нарушением ограничений по району плавания?</p>		<ul style="list-style-type: none"> <li>• Предупреждение</li> <li>• Предупреждение или штраф, или лишение права управления</li> <li>• Штраф или лишение права управления</li> <li>• Штраф</li> </ul>
<p>МТ.1.3.20</p>	<p>Какое административное наказание предусмотрено за несоблюдение лицом, управляющим маломерным судном, установленной скорости?</p>		<ul style="list-style-type: none"> <li>• Административный штраф</li> <li>• Предупреждение</li> <li>• Предупреждение либо административный штраф</li> <li>• Предупреждение, либо административный штраф, либо лишение права управления маломерным судном на срок до шести месяцев</li> </ul>
<p>МТ.1.3.21</p>	<p>Какой срок отводится Кодексом Российской Федерации об административных правонарушениях для уплаты административного штрафа?</p>		<ul style="list-style-type: none"> <li>• 10 суток</li> <li>• 20 суток</li> <li>• 40 суток</li> <li>• 60 суток</li> </ul>

<p>МТ.1.3.22</p>	<p>Какое административное наказание предусмотрено за управление маломерным судном с нарушением ограничений по условиям плавания?</p>		<ul style="list-style-type: none"> <li>• Лишение права управления</li> <li>• Предупреждение или штраф</li> <li>• Предупреждение или штраф, или лишение права управления</li> <li>• Штраф</li> </ul>
<p>МТ.1.3.23</p>	<p>Какое административное наказание предусмотрено за управление маломерным судном, не прошедшим технического освидетельствования?</p>		<ul style="list-style-type: none"> <li>• Лишение права управления</li> <li>• Предупреждение</li> <li>• Предупреждение или штраф, или лишение права управления</li> <li>• Штраф</li> </ul>
<p>МТ.1.3.24</p>	<p>Какое административное наказание предусмотрено за преднамеренную остановку или стоянку маломерного судна под судоходным пролетом моста?</p>		<ul style="list-style-type: none"> <li>• Наказание не предусмотрено</li> <li>• Предупреждение или штраф</li> <li>• Штраф</li> <li>• Предупреждение или штраф, или лишение права управления</li> </ul>






<p>МТ.1.3.25</p>	<p>Какое административное наказание предусматривается за несоблюдение лицом, управляющим маломерным судном, требований навигационных знаков?</p>		<ul style="list-style-type: none"> <li>• Административный штраф</li> <li>• Лишение права управления маломерным судном</li> <li>• Предупреждение</li> <li>• Одно из вышеперечисленных</li> </ul>
<p>МТ.1.3.26</p>	<p>В течение какого времени судоводитель имеет право обжаловать постановление по делу об административном правонарушении со дня получения копии постановления?</p>		<ul style="list-style-type: none"> <li>• Двух недель</li> <li>• Одного месяца</li> <li>• Пяти дней</li> <li>• Десяти дней</li> </ul>
<p>МТ.1.3.27</p>	<p>За какое из перечисленных нарушений государственный инспектор по маломерным судам имеет право задержать маломерное судно и поместить его на специализированную стоянку для хранения?</p>		<ul style="list-style-type: none"> <li>• За нарушение правил маневрирования</li> <li>• За превышение установленной скорости</li> <li>• За передачу управления судном лицу, не имеющему права управления</li> <li>• За управление судном в состоянии опьянения</li> </ul>




<p>MT.1.3.28</p>	<p>За какое из перечисленных нарушений государственный инспектор по маломерным судам имеет право отстранить судоводителя от управления и поместить маломерное судно на стоянку и хранение?</p>		<ul style="list-style-type: none"> <li>• За нарушение правил погрузки и разгрузки маломерных судов</li> <li>• За управление судном, не прошедшим технического освидетельствования</li> <li>• За нарушение правил обеспечения безопасности пассажиров в пути следования</li> <li>• За управление маломерным судном без удостоверения на право управления, судового билета или его копии, заверенной в установленном порядке</li> </ul>
<p>MT.1.3.29</p>	<p>Какое административное наказание предусмотрено за эксплуатацию маломерного судна, у которого содержание загрязняющих веществ в выбросах превышает установленные государственными стандартами нормативы?</p>		<ul style="list-style-type: none"> <li>• Наказания не предусмотрено</li> <li>• Лишение права управления</li> <li>• Предупреждение или штраф</li> <li>• Штраф</li> </ul>
<p>MT.1.3.30</p>	<p>Какое административное наказание предусмотрено за утерю или утрату судового билета маломерного судна?</p>		<ul style="list-style-type: none"> <li>• Предупреждение</li> <li>• Предупреждение или штраф</li> <li>• Штраф</li> <li>• Наказание не предусмотрено</li> </ul>




<p>МТ.1.3.31</p>	<p>Какое административное наказание предусмотрено за преднамеренную остановку или стоянку судна в запрещенных местах?</p>		<ul style="list-style-type: none"> <li>• Административный штраф</li> <li>• Предупреждение</li> <li>• Предупреждение либо административный штраф</li> <li>• Предупреждение, либо административный штраф, либо лишение права управления маломерным судном на срок до шести месяцев</li> </ul>
<p>МТ.1.3.32</p>	<p>Какое административное наказание предусмотрено за утерю или утрату удостоверения на право управления маломерным судном?</p>		<ul style="list-style-type: none"> <li>• Предупреждение</li> <li>• Предупреждение или штраф</li> <li>• Штраф</li> <li>• Наказание не предусмотрено</li> </ul>
<p>МТ.1.3.33</p>	<p>Какое административное наказание предусматривается за управление маломерным судном, не зарегистрированным в установленном порядке?</p>		<ul style="list-style-type: none"> <li>• Предупреждение</li> <li>• Предупреждение либо административный штраф</li> <li>• Предупреждение, либо административный штраф, либо лишение права управления маломерным судном</li> <li>• Административный штраф</li> </ul>




<p>МТ.1.3.34</p>	<p>Какое административное наказание предусмотрено за управление судном судоводителем или иным лицом, находящимся в состоянии опьянения?</p>		<ul style="list-style-type: none"> <li>• Лишение права управления маломерным судном</li> <li>• Предупреждение</li> <li>• Штраф</li> <li>• Штраф или лишение прав управления маломерным судном</li> </ul>
<p>МТ.1.3.35</p>	<p>Какое административное наказание предусмотрено за передачу управления маломерным судном лицу, не имеющему при себе удостоверения на право управления маломерным судном?</p>		<ul style="list-style-type: none"> <li>• Наказание не предусмотрено</li> <li>• Предупреждение</li> <li>• Штраф</li> <li>• Предупреждение или штраф</li> </ul>
<p>МТ.1.3.36</p>	<p>Какое административное наказание предусмотрено за управление маломерным судном судоводителю, не имеющему при себе судового билета маломерного судна или его копии, заверенной в установленном порядке, а равно документов, подтверждающих право владения, пользования или распоряжения управляемым им судном в отсутствие владельца?</p>		<ul style="list-style-type: none"> <li>• Наказание не предусмотрено</li> <li>• Предупреждение</li> <li>• Штраф</li> <li>• Предупреждение или штраф</li> </ul>

#### МТ.1.4. Вопросы эксплуатации маломерных судов и управления ими




№	Вопрос	Иллюстрация	Варианты ответа (правильный выделен)
МТ.1.4.1	При каком условии можно перевозить на маломерном судне детей дошкольного возраста?		<ul style="list-style-type: none"> <li>• В сопровождении взрослого, не связанного с управлением гидроцикла</li> <li>• При наличии одетого на ребенка спасательного жилета</li> <li>• Если ребенок умеет плавать</li> <li>• Нельзя ни при каких условиях</li> </ul>
МТ.1.4.2	При каком условии маломерному судну можно заходить и маневрировать на акватории пляжей?		<ul style="list-style-type: none"> <li>• Только на самом малом ходу</li> <li>• Только для высадки на берег пассажиров</li> <li>• Если в непосредственной близости от судна нет купающихся людей</li> <li>• Ни при каких условиях</li> </ul>
МТ.1.4.3	Кто допускается к управлению маломерным судном?		<ul style="list-style-type: none"> <li>• Лицо, имеющее действительный диплом на право занятия судоводительской должности</li> <li>• Лицо, имеющее справку об окончании курсов подготовки судоводителей маломерных судов</li> <li>• Любой совершеннолетний гражданин Российской Федерации</li> <li>• Лицо, имеющее действующее удостоверение на право управления маломерным судном</li> </ul>




<p>MT.1.4.4</p>	<p>Какой из маневров на моторной лодке "А" является наиболее эффективным, чтобы уступить дорогу катеру "Б"?</p>		<ul style="list-style-type: none"> <li>• Сделать оборот через левый борт</li> <li>• Повернуть влево на 10 град</li> <li>• Повернуть вправо на 10 град</li> <li>• Уменьшить скорость и повернуть под корму катера "Б"</li> </ul>
<p>MT.1.4.5</p>	<p>Какому из маломерных судов должно уступить дорогу маломерное судно "А"?</p>		<ul style="list-style-type: none"> <li>• В</li> <li>• Обоим судам</li> <li>• Ни одному из судов</li> <li>• Б</li> </ul>
<p>MT.1.4.6</p>	<p>Какому из маломерных судов должно уступить дорогу маломерное судно "Б"?</p>		<ul style="list-style-type: none"> <li>• Б</li> <li>• А и В</li> <li>• Никакому</li> <li>• В</li> </ul>




<p>МТ.1.4.7</p>	<p>В каких случаях моторное маломерное судно должно уступить дорогу гребной лодке?</p>		<ul style="list-style-type: none"> <li>• Если гребная лодка находится слева</li> <li>• Если гребная лодка находится справа</li> <li>• Если гребная лодка находится по курсу</li> <li>• Во всех случаях</li> </ul>
<p>МТ.1.4.9</p>	<p>Какие действия должен предпринять судоводитель маломерного судна "А" для безопасного расхождения?</p>		<ul style="list-style-type: none"> <li>• Застопорить ход и остановиться</li> <li>• Изменить курс влево</li> <li>• Следовать прежним курсом</li> <li>• Изменить курс вправо</li> </ul>
<p>МТ.1.4.10</p>	<p>Какие действия должны предпринять судоводители маломерных моторных судов "А" и "Б" для безопасного расхождения при встречном движении (плавании)?</p>		<ul style="list-style-type: none"> <li>• Должны изменить курс влево</li> <li>• "А" должен повернуть вправо, а "Б" - влево</li> <li>• "А" должен повернуть влево, а "Б" - вправо</li> <li>• Должны изменить курс вправо</li> </ul>

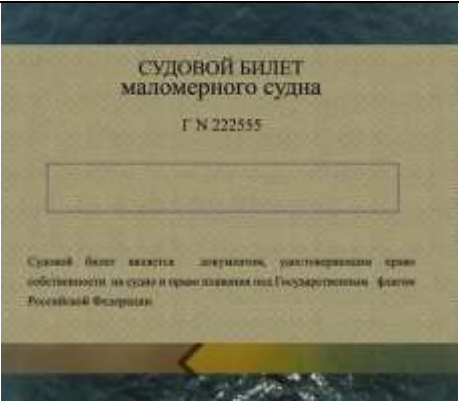


<p>MT.1.4.11</p>	<p>Как должны расходиться изображенные на иллюстрации суда?</p>		<ul style="list-style-type: none"> <li>• Катер "А" должен уступить дорогу "Б"</li> <li>• Парусно-моторное судно "Б" должно уступить дорогу "А"</li> <li>• Правыми бортами</li> <li>• Левыми бортами</li> </ul>
<p>MT.1.4.12</p>	<p>В каком из перечисленных случаев маломерному судну разрешается маневрировать на акватории пляжа?</p>		<ul style="list-style-type: none"> <li>• Только на самом малом ходу</li> <li>• Только с принятием всех необходимых мер предосторожности</li> <li>• Если в непосредственной близости от судна нет купающихся людей</li> <li>• Ни в одном из перечисленных случаев не разрешается</li> </ul>
<p>MT.1.4.13</p>	<p>В чьи обязанности входит проведение инструктажа пассажиров по правилам поведения на маломерном судне во время плавания?</p>		<ul style="list-style-type: none"> <li>• Государственного инспектора по маломерным судам</li> <li>• Должностного лица базы (сооружения) для стоянки маломерных судов</li> <li>• Судовладельца</li> <li>• Судоводителя</li> </ul>



<p>MT.1.4.14</p>	<p>Какие документы во время плавания должен иметь при себе судоводитель моторного маломерного судна, если он сам управляет этим судном?</p>		<ul style="list-style-type: none"> <li>• Удостоверение на право управления</li> <li>• Акт технического освидетельствования</li> <li>• Судовой билет (или его копию)</li> <li>• Судовой билет (или его заверенную копию) и удостоверение на право управления</li> </ul>
<p>MT.1.4.15</p>	<p>Какие документы во время плавания должен иметь при себе судоводитель маломерного судна, если он не является владельцем этого судна?</p>		<ul style="list-style-type: none"> <li>• Удостоверение на право управления и акт технического освидетельствования</li> <li>• Судовой билет и документ на право пользования судном</li> <li>• Судовой билет (или его копию) и удостоверение на право управления</li> <li>• Судовой билет (или его заверенную копию), удостоверение на право управления и документ на право пользования судном</li> </ul>
<p>MT.1.4.16</p>	<p>При каких условиях разрешается пересадка людей с одного судна на другое во время движения?</p>		<ul style="list-style-type: none"> <li>• При отсутствии ветра и волнения</li> <li>• При отсутствии ветра и волнения с обязательно надетым на пересаживаемого человека спасательным жилетом</li> <li>• Если по условиям плавания нет возможности остановить суда</li> <li>• Пересадка во время движения запрещена во всех случаях</li> </ul>

<p>МТ.1.4.17</p>	<p>При наличии какой из перечисленных неисправностей пользование маломерным судном запрещается?</p>		<ul style="list-style-type: none"> <li>• Наличие вибрации</li> <li>• Наличие утечек топлива</li> <li>• Повреждение системы дистанционного управления двигателем</li> <li>• При любой из перечисленных</li> </ul>
<p>МТ.1.4.18</p>	<p>При наличии какой из перечисленных неисправностей пользование маломерным судном запрещается?</p>		<ul style="list-style-type: none"> <li>• Ненадежное крепление кнехтов</li> <li>• При любой из перечисленных</li> <li>• Отсутствие или неисправность ленточного или винтового стопора для удержания якорной цепи</li> <li>• Разгерметизация гермоотсеков или воздушных ящиков</li> </ul>
<p>МТ.1.4.19</p>	<p>При наличии какой из перечисленных неисправностей пользование маломерным судном запрещается?</p>		<ul style="list-style-type: none"> <li>• Наличие вибрации</li> <li>• Разгерметизация воздушных ящиков</li> <li>• Несоответствие нормам комплектации и оборудования судна, указанным в судовом билете</li> <li>• При любой из перечисленных</li> </ul>

<p>МТ.1.4.20</p>	<p>При наличии какой из перечисленных неисправностей пользование маломерным судном запрещается?</p>		<ul style="list-style-type: none"> <li>• Повреждение леерного ограждения</li> <li>• При любой из перечисленных</li> <li>• Отсутствие или неисправность ленточного или винтового стопора для удержания якорной цепи</li> <li>• Неисправность отличительных (бортовых) огней</li> </ul>
<p>МТ.1.4.21</p>	<p>При наличии какой из перечисленных неисправностей пользование маломерным судном запрещается?</p>		<ul style="list-style-type: none"> <li>• Ненадежное крепление планширя</li> <li>• При любой из перечисленных</li> <li>• Отсутствие или неисправность штормовых портиков в фальшборте</li> <li>• Отсутствие или неисправность глушителя</li> </ul>
<p>МТ.1.4.22</p>	<p>При наличии какой из перечисленных неисправностей пользование маломерным судном запрещается?</p>		<ul style="list-style-type: none"> <li>• Наличие сквозных пробоин корпуса судна выше ватерлинии</li> <li>• Несоответствие отличительных (бортовых) огней установленным требованиям</li> <li>• Неисправность блокировки запуска двигателя (мотора) при включении реверса</li> <li>• При любой из перечисленных</li> </ul>

<p>MT.1.4.23</p>	<p>Какой орган может отменить право собственности на маломерное судно, зарегистрированное в судовой книге?</p>		<ul style="list-style-type: none"> <li>• Прокуратура</li> <li>• Прокуратура или суд</li> <li>• Вышестоящий орган ГИМС</li> <li>• Суд</li> </ul>
<p>MT.1.4.24</p>	<p>В течение какого срока действует удостоверение на право управления маломерным судном с момента его выдачи?</p>		<ul style="list-style-type: none"> <li>• 5 лет</li> <li>• 15 лет</li> <li>• Бессрочно</li> <li>• 10 лет</li> </ul>
<p>MT.1.4.25</p>	<p>Как должно осуществляться маневрирование маломерных судов при расхождении на водных объектах, не имеющих навигационной обстановки?</p>		<ul style="list-style-type: none"> <li>• С учетом направления течения</li> <li>• С учетом левостороннего движения</li> <li>• Порядок расхождения не установлен</li> <li>• С учетом правостороннего движения</li> </ul>

МТ.1.4.26

Какие из перечисленных документов судоводители маломерных судов обязаны предъявлять для проверки государственному инспектору по маломерным судам?



- Удостоверение на право управления
- Документ на право пользования судном при отсутствии на борту собственника или владельца судна
- Судовой билет или его заверенную копию
- Все перечисленные